

A 29/2016. (VIII. 26.) NGM rendelet által módosított, valamint a 25/2017. (VIII. 31.) NGM rendelet által módosított 27/2012. (VIII. 27.) NGM rendelet szakmai és vizsgakövetelménye alapján.

Szakképesítés azonosítószáma és megnevezése

52 815 03	Férfi fodrász-borbély
-----------	-----------------------

Tájékoztató

A vizsgázó az első lapra írja fel a nevét!

Ha a vizsgafeladat kidolgozásához több lapot használ fel, a nevét valamennyi lapon fel kell tüntetnie, és a lapokat sorszámmal el kell látnia.

Értékelési skála:

81 – 100 pont	5 (jeles)
71 – 80 pont	4 (jó)
61 – 70 pont	3 (közepes)
51 – 60 pont	2 (elégéses)
0 – 50 pont	1 (elégtelen)

A javítási-értékelési útmutatótól eltérő helyes megoldásokat is el kell fogadni.

A vizsgafeladat értékelési súlyaránya: 15%

Szakmai ismeretek

1. feladat

Összesen: 6 pont/ ____ pont

A férfi fodrász-borbély az emberi bőrön, hajon, szőrön dolgozik, ezért ezek alapvető ismerete elvárás Önnel szemben.

Írja az ábra sorszámmal jelölt részeinek számát az elé az állítás elé, amelyik állításhoz tartozik! Egy vonalkára egy sorszámot írhat. Minden sorszámot egyszer kell beírnia.

____ váladéka képző a bőr felszínén a lipid-köpenyt

____ makro- és mikrofibrillumokat tartalmaz

____ papilla / haj- vagy szőrszemölcs

____ belső gyökérhüvely

____ külső gyökérhüvely

____ az itt található sejtek osztódása során termelődik a haj- és szőrszál anyaga

kép forrása: www.biomedcentral.com 2018. 11. 26.

Helyes válaszonként 1 pont. Összesen: 6 pont.

2. feladat

Összesen: 6 pont/ ____ pont

A vendég igényeinek kivitelezhetősége miatt fontos, hogy a szakember ismerje az emberi bőrön leggyakrabban megjelenő elváltozásokat, betegségeket.

A) Csoportosítsa a nagybetűvel jelölt elváltozásokat a táblázatban megadott szempontok szerint, ha azok az arc bőrén, a vendég által borotváltatni kívánt bőrfelületen jelennek meg! Írja az elváltozások előtti betűjelet a megfelelő üres cellába! Egy betűt egy cellába írhat. Ha jól oldja meg a feladatot, minden cellába két-két betű kerül.

A: szőrtüszőgyulladás B: pikkelysömör C: verruca vulgaris D: ótvar
E: övsömör F: kis festékes anyagjegy G: aknés bőrtípus H: májfolt

fertőző elváltozások		nem fertőző elváltozások	
vírusos eredetű	bakteriális eredetű	a borotválást nem kizáró tényező	a borotválást kizáró elváltozás

Helyes válaszonként 0,5 pont. Részfeladat pontszáma: 4 pont.

B) Válassza ki a felsorolásból azokat az elváltozásokat, amelyek ellen fungicidekkel védekezünk! Választását aláhúzással jelölje! Négy kifejezést húzhat alá.

onychomycosis, pediculosis, microsporia, trichophytia, ephelis, scabies, trichomycosis, milium

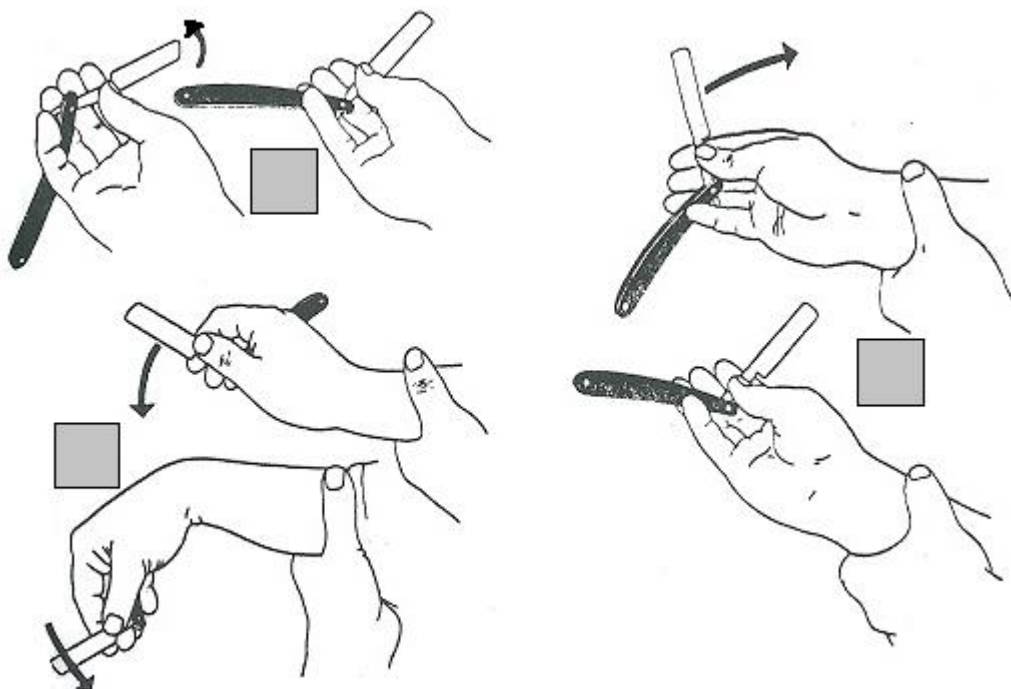
Helyes válaszonként 0,5 pont. Részfeladat pontszáma: 2 pont.

3. feladat

Összesen: 7 pont/ ____ pont

Az alábbi feladatok a borotválással kapcsolatosak.

A) Írja be a rajzzal ábrázolt borotvafofogások mellett található szürke négyzetekbe, hogy hányas borotvafofogást ábrázolja! Minden üres négyzetbe egy sorszámot írhat.



a kép forrása: Dr. Szirmák Szilárdné, Dr. Szolnok Erzsébet: Fodrász szakmai ismeretek II., Beato Angelico Kiadó

Helyes válaszonként 1 pont. Részfeladat pontszáma: 3 pont.

B) A borotválással mint technológiával kapcsolatosan a szakzsargon használja az „átborotválás” és a „kiborotválás” fogalmát. Mindkettőnél rövidítünk a borotválással, de két különböző műveletnél, teljesen eltérő célokkal. Fogalmazza meg ez alapján saját szavaival, mit jelentenek ezek a kifejezések!

átborotválás: _____

kiborotválás: _____

Helyes válaszonként 1 pont. Részfeladat pontszáma: 4 pont.

4. feladat**Összesen: 8 pont/ _____ pont**

A férfi klasszikus és a modern klasszikus frizura jellemzőit kell átgondolnia a feladat megoldásához. Írja a megfelelő betűjelet az állítások előtti vonalkákra! Egy vonalkára egy betűt írhat.

- A: férfi klasszikus frizura
- B: modern klasszikus frizura
- C: mindkettő
- D: egyik sem

- ___ szimmetrikusnak kell lennie a beszárított frizurának
- ___ plasztikusra kell alakítani a főnözés, végső fésülés során
- ___ kapcsolat nélküli részt is tartalmaz
- ___ a nullpont kialakítása kötelező az elkészítése során
- ___ tilos a hajvágógép alkalmazása a szakmai vizsga során
- ___ kötelező a hajvágógép alkalmazása a szakmai vizsga során
- ___ a hajsálak csak tompavágással rövidíthetők
- ___ finish-termék alkalmazható a kialakítása során

Helyes válaszonként 1 pont. Összesen: 8 pont.

5. feladat**Összesen: 4 pont/ _____ pont**

A következő mondatok a hajmosás négy fő típusáról szólnak. Húzza alá a megkezdett mondatok egyetlen helyes befejezését!

Az ún. egyszerű tisztító mosás során a haját ...

- egyszer mossuk meg.
- kétszer mossuk meg.
- csak vízzel öblítjük le.

A száraz mosás során ...

- púderalapanyagokkal itatjuk fel a zsírt és a zsírba tapadt szennyeződések.
- benzinnel vagy petróleummal átitatott vattapamaccsal töröljük át a hajtöveket.
- forró levegővel szárítjuk ki a hajas fejbőrt.

A gyorsmosás ...

- talkummal is végezhető.
- felhabzó tenziddel történő egyetlen mosást jelent.
- etil-alkohollal is végezhető.

A gyógymosás során ...

- gyógyosztári készítményt alkalmazunk.
- a hatóanyagot tartalmazó samponhabot a második mosás után a fejbőrön hagyjuk.
- orvos által felírt professzionális készítményt alkalmazunk.

Helyes válaszonként 1 pont. Összesen: 4 pont.

6. feladat**Összesen: 6 pont/ _____ pont**

Képezzen párokat a szakkifejezések között! Írja a sorszámok mellé a megfelelő betűjelet! Egy sorszám mellé egy betűjelet írhat.

1. kontúr	A: rögzít
2. kontraszt	B: hagyományos
3. manuális	C: körvonal, hajnövés szélei
4. porózus	D: lukacsos, szivacszerű
5. fixál	E: ellentét
6. klasszikus	F: kézi

1. – ____ 2. – ____ 3. – ____ 4. – ____ 5. – ____ 6. – ____

Helyes válaszonként 1 pont. Összesen: 6 pont.

7. feladat**Összesen: 3 pont/ _____ pont**

Melyik fodrászipari eszközre ismer rá a jellemzés alapján? Válaszát írja a jellemzések utáni vonalakra!

Olyan fésű, melyet rövid haj kiemelésére fejlesztettek ki átmenetkészítéshez:

Mindkét vágóélén fogazott ritkító olló: _____

Vízhatlan anyagból készülő, nagy felületű kellék, mely megvédi a vendég ruháját a rá kerülő vegyi anyagoktól: _____

Helyes válaszonként 1 pont. Összesen: 3 pont.

Anyagismeret**8. feladat****Összesen: 5 pont/ _____ pont**

Válogassa szét az alábbi anyagokat felhasználási terület szerint! Minden sorba két betűt írhat.

A: Ca-tioglikolat **B:** Coco-glucoside **C:** lecitin **D:** talkum

E: Cocamidopropyl betain **F:** kókuszszír **G:** P-phenylene-diamine **H:** titán-dioxid

I: tiotejsav **J:** Toluene-2,5-diamine

lipidpótlók	
púderalapanyagok	
tenzidek, habképzők	
redukáló szerek	
oxidációs festékek hatóanyagai	

Helyes válaszonként 0,5 pont. Összesen: 5 pont.

9. feladat**Összesen: 5 pont/ _____ pont**

Írja a szőkítőpor hat megnevezett összetevője közül legalább öt anyag mellé, hogy milyen szerepet töltenek be a termékben!

- Potassium persulfate: _____
- CI 77007 / Ultramarines: _____
- Cellulose gum: _____
- EDTA: _____
- Sodium bicarbonate: _____
- Sodium laureth sulfate: _____

Helyes válaszonként 1 pont. Legfeljebb 5 pont.

10. feladat**Összesen: 5 pont/ _____ pont**

Írja az idegen nyelvű szakkifejezések utáni vonalra azok magyar megfelelőjét, jelentését!

- antiszeptikum: _____
- neutrális: _____
- adsztringens: _____
- dekolorálás: _____
- fixálás: _____

Helyes válaszonként 1 pont. Összesen: 5 pont.

11. feladat**Összesen: 1 pont/ _____ pont**

Tegye sorba a fertőtlenítő eljárásokat hatásuk erőssége alapján! Írja a vonalra a helyes sorrendet a leggyengébbtől a legerősebb felé haladva! Elegendő a hatást jelölő betűk leírása a vonalkára (pl.: ABC)

A: sterilizáció B: bakteriosztatikus hatás C: szanációs hatás

helyes válasz: _____

Egy betű a megfelelő helyen a sorban 0,5 pont, a hibátlan válasz 1 pont.

12. feladat**Összesen: 4 pont/ _____ pont**

Írja a megfelelő szavakat a szövegben a vonalakra, hogy értelmes és valós állításokat kapjunk! A dőlt betűs kifejezésekből választhat. Egy vonalra egy kifejezést írhat. Nem kell minden kifejezést felhasználnia.

sztearinsav, hidrogén-hidak, sósav, lúgos, víz, trietanol-amin, hajzsírozók, hidrogén-peroxid, etil-alkohol, Na-tetraborát, diszulfid-híd, hidrogén, HTH-fixáló, savas, borotvakrémek, szilikon, semleges, HTH-oldat, szén, peptid

A(z) _____ poláros oldószer, amelyben a(z) _____ és oxigén atomok aránya 2:1-hez.

A(z) _____ nagy szénatomszámú karbonsav, amely _____ gyakori, jellegzetes összetevője. Elszappanosítására _____ -t vagy kálium-hidroxidot raknak a készítménybe.

Az ammónium-tioglikolát _____ kémhatású anyag, amely _____ hatóanyagaként, redukáló tulajdonsága révén bontja a haj keratinjában a(z) _____ kötésekét.

Helyes válaszonként 0,5 pont. Összesen: 4 pont.

13. feladat

Összesen: 5 pont/ _____ pont

Húzza alá a megkezdett mondatok egyetlen helyes befejezését!

A bőrsemleges pH-érték ...

- a, 14,0
- b, 0,0
- c, 5,5

A Na-hipokloritot ...

- a, padló dezinficiálására alkalmazzuk.
- b, a fodrász saját kezének tisztítására alkalmazza.
- c, borotválás előtt a vendég szakállának higiénikus átmosására alkalmazzuk.

A fejbőr szeborreájának kezelésére az a sampon alkalmas, amelynek ...

- a, olívaolaj, sheavaj és ceramidok szerepelnek a hatóanyagai között.
- b, teafaolaj, Zn-pirition és biotin szerepelnek a hatóanyagai között.
- c, kamilla, lecitin, F-vitamin szerepelnek a hatóanyagai között.

A hidrogén-peroxid 20 volumen-es oldata ...

- a, 3%-os töménységű.
- b, 6%-os töménységű.
- c, 9%-os töménységű.

A vazelin ...

- a, jól felszívódó krémalapanyag, tápláló krémek hatóanyaga.
- b, nem szívódik fel a bőrbe, emiatt kontúrkémezésre alkalmazható.
- c, érzékeny bőrök borotválás utáni masszírozására alkalmazható.

Helyes válaszonként 1 pont. Összesen: 5 pont.

14. feladat

Összesen: 2 pont/ _____ pont

Hajban, szakállban, bőrön maradó termékeknél különösen fontos a kellemes illat, bár sajnos azokra egyre több ember érzékeny. Válassza ki az alábbi felsorolásból azokat az anyagokat, amelyek fodrászipari készítményekben illatanyagként töltik be szerepüket! A megnevezett anyagok fele illatosító, ezeknek a nevét írja a vonalakra!

linalool, cetil-alkohol, cetrimid, geraniol, propanol, limonene, eugenol, cholesterol

- _____
- _____
- _____
- _____

Helyes válaszonként 0,5 pont. Összesen: 2 pont.

15. feladat**Összesen: 3 pont/ _____ pont**

Tegye ki a megfelelő relációs jelet (< , = , >) az összehasonlítandó mennyiségek, értékek közé!

hidrogén-peroxid oldat kémhatása		oxidációs hajfesték kémhatása
'0'-s HTH-oldat erőssége		'2'-s HTH oldat erőssége
bakteriosztatikumok fertőtlenítő hatása		baktericidek fertőtlenítő hatása
desztillált víz kémhatása		pH 7,0
hab víztartalma		wax víztartalma
hajlakk PVP/PVA-tartalma		arcszesz PVP/PVA-tartalma

Helyes válaszonként 0,5 pont. Összesen: 3 pont.

Művészettörténet**16. feladat****Összesen: 6 pont/ _____ pont**

Képezzen párokat a számmal és betűvel jelölt kifejezések között! Az egyik betűt nem kell beírnia, mert annak nem talál párt a sorszámmal jelölt műemlékek és jellemzők között.

1. Karnak, Abu Szimbel, Luxor templomai	A, ógörög építészeti műemlékek
2. mozaikművészet, baldachinos oltárok	B, sumér építészet
3. keskeny lőrészterű ablakok, nehéz dongaboltozat	C, óegyiptomi építészeti műemlékek
4. Héra templom, Parthenon, Niké templom	D, ókori római építészeti műemlékek
5. magasba törő téregyüttes, festett üvegablakok, csúcsívek	E, bizánci művészet
6. Panthenon, Jupiter templom, Colosseum	F, román kori művészet
	G, gótikus művészet

1. – ___ 2. – ___ 3. – ___ 4. – ___ 5. – ___ 6. – ___

Helyes válaszonként 1 pont. Összesen: 6 pont.

17. feladat**Összesen: 4 pont/ _____ pont**

Húzza alá azt a kifejezést a dőlt betűs /-jellel elválasztott kifejezések közül, amellyel igazgató tehető a mondat!

A tonsor-ok/figaro-k az ókori/középkori Róma/Babilonia borbélyai, akik a haj vágása és ápolása mellett szakáll nyírásával, gondozásával/freskók készítésével is foglalkoztak.






Helyes válaszonként 1 pont. Összesen: 4 pont.

Hajviselettörténet

18. feladat

Összesen: 5 pont/ ____ pont

Írja a képek alá a viseletek nevét!

 <p>a kép forrása: Szakrajz – A művészetek és a hajviseletek története c. Szakmunkásképző Iskolai Tankönyv, 1991</p>	 <p>a kép forrása: Dr. Szirmák Szilárdné, Dr. Szolnoky Erzsébet: Fodrász szakmai ismeretek II. Beato Angelico Kiadó</p>	 <p>a kép forrása: Szakrajz – A művészetek és a hajviseletek története c. Szakmunkásképző Iskolai Tankönyv, 1991</p>	 <p>a kép forrása: Szakrajz – A művészetek és a hajviseletek története c. Szakmunkásképző Iskolai Tankönyv, 1991</p>	 <p>a kép forrása: Szakrajz – A művészetek és a hajviseletek története c. Szakmunkásképző Iskolai Tankönyv, 1991</p>

Helyes válaszonként 1 pont. Összesen: 5 pont.

19. feladat

Összesen: 5 pont/ ____ pont

Írja be a hajviseletek, fejfedők nevét a táblázat megfelelő cellájába! Minden viseletet egyszer írhat be. Egy cella üresen marad.

hennin, alonge, hulle, apród frizura, kutyafül hajviselet

	román	gótikus	barokk
női			
férfi			

Helyes válaszonként 1 pont. Összesen: 5 pont.

Munkavédelem és marketig

20. feladat

Összesen: 7 pont / ____ pont

Munkánk során rengeteg hulladék keletkezik, feladatunk ezek csökkentése valamint környezetbarát technológiák alkalmazása.

A) Írjon két-két példát a szépségszalonokban előforduló alábbi hulladéktípusokra!

szelektíven gyűjthető hulladék: _____

kommunális hulladék: _____

veszélyes hulladék: _____

Helyes válaszonként 1 pont. Részfeladat pontszáma: 6 pont.

B) Nevezze meg azt a dokumentumot, amelyből tájékozódni tud arról, hogy egy adott kiürült vegyszeres üveget/flakont melyik szemetesbe kell kidobnia!

Helyes válaszonként 1 pont. Részfeladat pontszáma: 1 pont.

21. feladat

Összesen: 3 pont / ____ pont

Napjainkban a szépségipari szolgáltatók is megjelennek az online térben. Soroljon fel három online hirdetési (marketing) lehetőséget!

- _____
- _____
- _____

Helyes válaszonként 1 pont. Összesen: 3 pont.