

A 27/2012. (VIII. 27.) NGM rendelet (29/2016. (VIII. 26.) NGM rendelet által módosított) szakmai és vizsgakövetelménye alapján.

Szakképesítés azonosítószáma és megnevezése

34 542 04	Férfiszabó
-----------	------------

Tájékoztató

A vizsgázó az első lapra írja fel a nevét!

Ha a vizsgafeladat kidolgozásához több lapot használ fel, a nevét valamennyi lapon fel kell tüntetnie, és a lapokat sorszámmal el kell látnia.

Használható segédeszközök:

- ceruza,
- radír,
- vonalzó /derékszögű és íves/,
- ¼-es kicsinyítésű mérőszalag,
- másolópapír
- olló
- ragasztó

Értékelési skála:

81 – 100 pont	5 (jeles)
71 – 80 pont	4 (jó)
61 – 70 pont	3 (közepes)
51 – 60 pont	2 (elégséges)
0 – 50 pont	1 (elégtelen)

A javítási-értékelési útmutatótól eltérő helyes megoldásokat is el kell fogadni.

A vizsgafeladat értékelési súlyaránya: 15%.

I. Ruhaiparban alkalmazott anyagfajták és feldolgozhatóságuk**1. feladat****Max. pontszám: 8 pont****1.1. Határozza meg az alábbi szálanyagok eredetét csoportosításuk szerint!***(Pl. Pamut: természetes eredetű, szerves, növényi magszál.)*

- a) Len:
- b) Gyapjú:
- c) Viszkóz:
- d) Poliamid:

1.2. Soroljon fel a gyapjú használati tulajdonságai közül négyet!

1.
2.
3.
4.

2. feladat**Max. pontszám: 11 pont****2.1. Jellemezze az alábbi fonalfajtákat!**

Kártolt fonal:

.....

.....


.....

Fésűs fonal:

.....

.....

.....

2.2. Ismertesse a képen látható gabardinszövet jellemzőit és felhasználási területeit!

KORLÁTOZOTT TERJESZTÉSŰ!

Gabardinszövet jellemzői:

.....
.....
.....
.....
.....

Felhasználási területei:

.....
.....

3. feladat

Max. pontszám: 11 pont

3.1. Egészítse ki a következő meghatározást!

A textilkikészítés azon munkafolyamatok összefoglaló neve, amelyek a textíliák
.....feldolgozhatósági éstulajdonságainak,
.....javítására alkalmasak. A kikészítés mindig különböző
.....és/vagyeljárásokból álló munkafolyamat.

3.2. Mit jelent az alapanyagok színtartósága?

.....
.....

3.3. Sorolja fel a színezés módozatait!

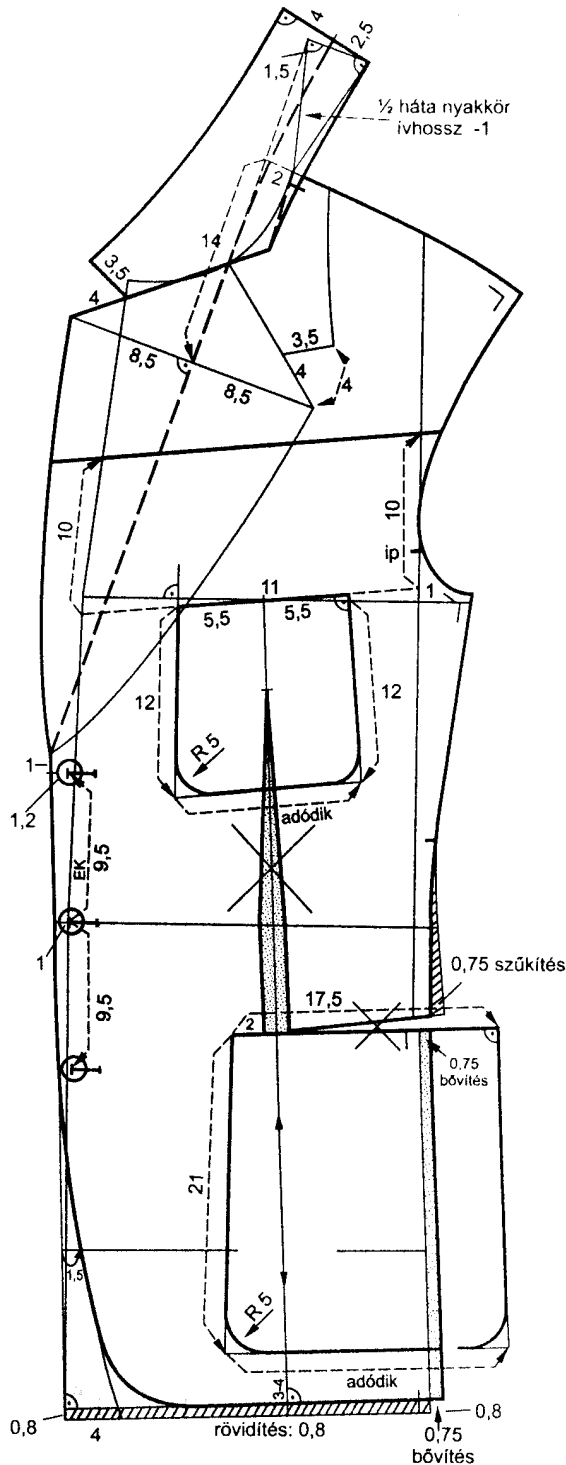
1.
2.
3.
4.

II. Gyártmány- vagy modellrajz alapján szabásminta készítése

4. feladat

Max. pontszám: 30 pont

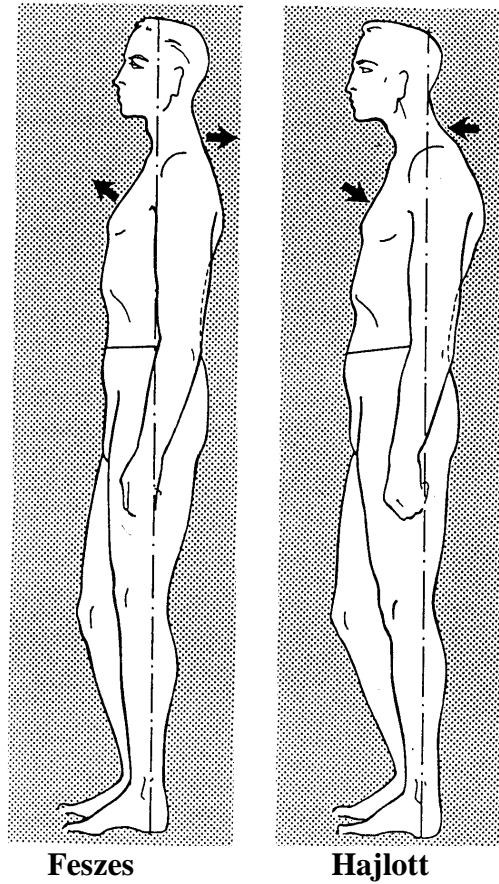
4.1. Másolja ki a sportzakó elejemodellezés rajzából a zakó elejét, a vállrészt, a zseblapokat és az alsógallért! Nevezze meg a szabásminta alkatrészeit, lássa el varrás- és hajtás-szélességekkel, valamint a szabáshoz szükséges jelölésekkel!
(Vegye figyelembe, hogy az alsógallér filcből készül!)
Ragassza fel a kialakított szabásmintákat a következő üres oldalra!



KORLÁTOZOTT TERJESZTÉSŰ!

Sportzakó eleje szabásmintái

4.2. Írja a táblázatba az ábrán látható feszes és hajlott testtartású férfi testalkatok eltéréseit a normál testtartástól!



Az eltérések helye	Feszes testtartás eltérései	Hajlott testtartás eltérései
1. Testmagasság		
2. Mellkerület		
3. Hátszélesség		
4. Mellszélesség		
5. Háta derékhozsz		
6. Eleje derékhozsz		
7. Elejeformázó		
8. Lapockaformázó		
9. Gerincívelés		
10. Váll és kar helyzete		

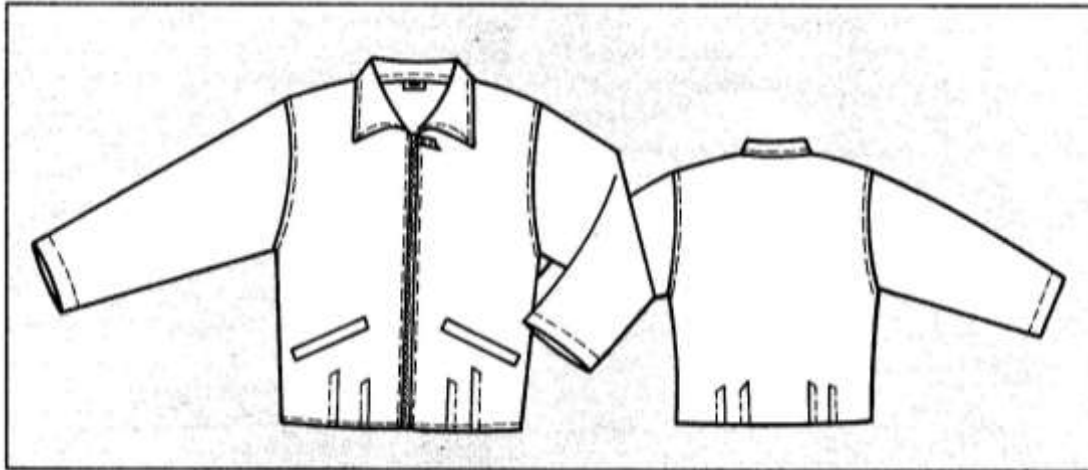
III. Gyártmány- vagy modellrajz alapján sorozatgyártás műszaki leírásának, technológiai tervezésének készítése

5. feladat

Max. pontszám: 40 pont

Készítse el a mellékelt gyártmányrajz alapján a sportos béleletlen dzseki műszaki leírását, és tervezze meg a készítés műveleti sorrendjét az 5.1. – 5.6. pontokban megadott szempontok szerint sorozatgyártás esetére!

Gyártmányrajz:



Műszaki leírás

5.1. Egészítse ki a sportos béleletlen dzseki külalakleírását!

Külalak leírása:

Lefelévonalú, derék alá érő hosszúságú, hosszított vállú, ujjú dzseki.

Az elején és a hátán az aljavnaltól induló négy-négy.....készül.

Az elejeközép az aljától a nyakkörig szétnyithatózáródik.

Az eleje-oldalrészén egy-egy ferde irányú, zseb található. A nyakkörbe kifekvő sillergallér van befogva. A szélvonalakat egysoros.....díszíti.

5.2. Írja be a táblázatba a sportos béleletlen dzseki összeállítandó alkatrészeit a megadott mennyiségekhez!

Alapanyag alkatrészek megnevezése	Mennyiség (db)
	2 db
	1 db
	2 db
	2 db
	1 db
	1 db
	2 db
	4 db
	1 db

Ragasztóbevonatos közbélések megnevezése	Mennyiség (db)
	2 db
	1 db
	2 db
	2 db

5.3. Soroljon fel két kelléket, melyek az elkészítéshez szükségesek!

Kellékek megnevezése

**5.4.Tervezze meg a sportos béleletlen dzsekikészítés műveletcsoportjainak sorrendjét!
(Nem kell részletes felsorolást készítenie.)**

Előkészítő műveletcsoportok	1.
	2.
	3.
	4.
	5.
	6.

Összeállító műveletcsoportok	7.
	8.
	9.
	10.
	11.
	12.
	13.
	14.
	15.
	16.
	17.

Befejező műveletcsoportok	18.
--------------------------------------	-----