

A 27/2012. (VIII. 27.) NGM rendelet (29/2016. (VIII. 26.) NGM rendelet által módosított) szakmai és vizsgakövetelménye alapján.

Szakképesítés azonosítószáma és megnevezése

34 542 03	Fehérnemű-készítő és kötöttáru összeállító
-----------	--

Tájékoztató

A vizsgázó az első lapra írja fel a nevét!

Ha a vizsgafeladat kidolgozásához több lapot használ fel, a nevét valamennyi lapon fel kell tüntetnie, és a lapokat sorszámmal el kell látnia.

Használható íróeszköz: kékszínű golyóstoll vagy toll.

**Értékelési skála:**

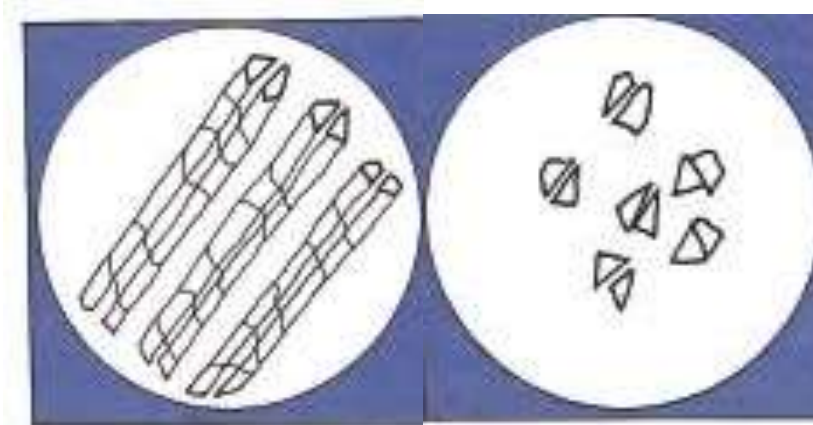
<b>81 – 100 pont</b>	<b>5 (jeles)</b>
<b>71 – 80 pont</b>	<b>4 (jó)</b>
<b>61 – 70 pont</b>	<b>3 (közepes)</b>
<b>51 – 60 pont</b>	<b>2 (elégéséges)</b>
<b>0 – 50 pont</b>	<b>1 (elégtelen)</b>

**A vizsgafeladat értékelési súlyaránya: 20%.**

**1. feladat**

**Összesen: 12 pont**

**a) Melyik állati eredetű szálanyag mikroszkópi képét ismeri fel? (Az ábrák ugyanazon szálanyag hossz- és keresztmetszeti képét ábrázolják, tehát csak egy jó válasz van.)**



.....

**b) Soroljon fel a fenti szálanyagra jellemző tulajdonságok közül ötöt!**

- .....
- .....
- .....
- .....
- .....

**2. feladat**

**Összesen: 10 pont**

**Soroljon fel öt részt, amelyet ellenőrizni kell a műszaki leírásban, mielőtt jóváhagyják azt!**

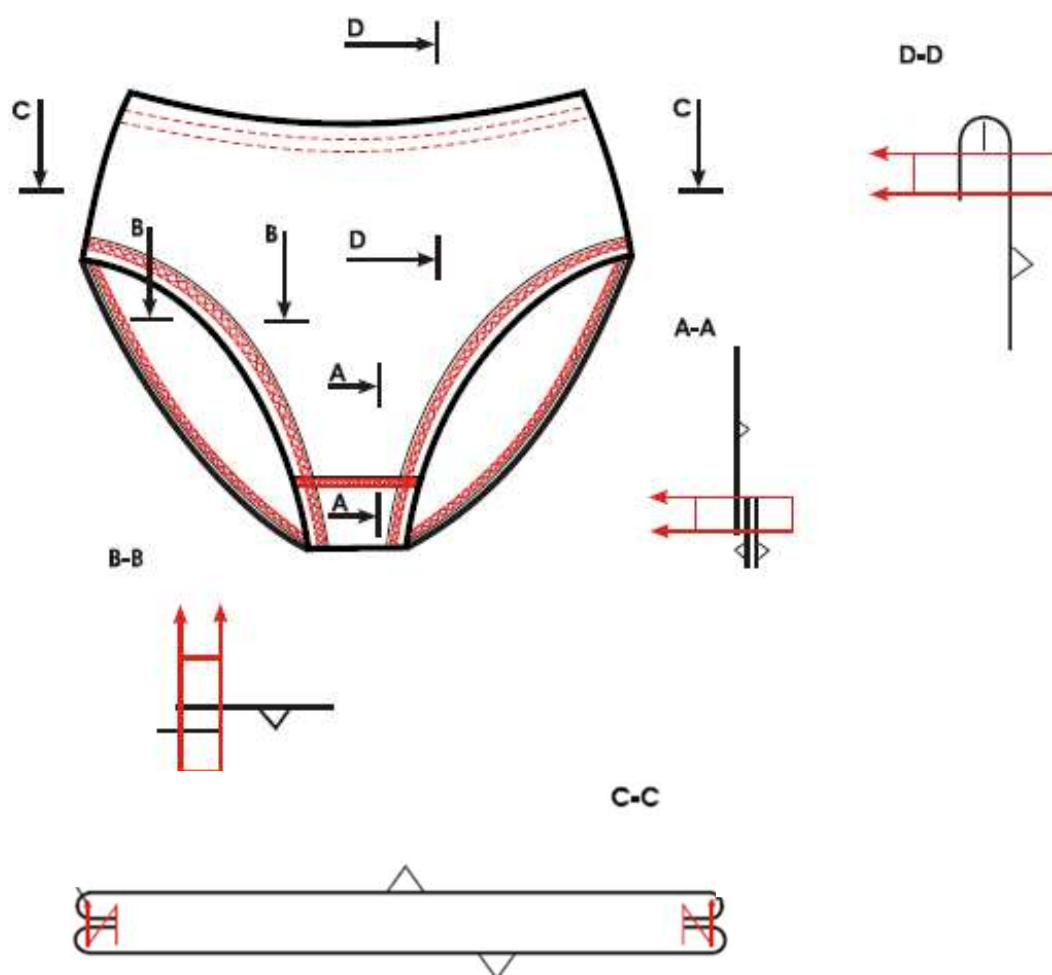
- .....
- .....
- .....
- .....
- .....

**3. feladat****Összesen: 6 pont****Soroljon fel a cérna szakítóerejét és szakadási nyúlását befolyásoló három tényezőt!**

- .....
- .....
- .....

**4. feladat****Összesen: 20 pont**

Az alábbi ábrán a derékfazonú női alsó művelet- és metszetrajza látható.

**a) Számozza be a varratokat a technológiai sorrendnek megfelelően!**

b) Írja le az a) pontban megadott derékfazonú női alsó beszámozott varratai alapján a készítés műveleteit!

- .....
- .....
- .....
- .....
- .....

**5. feladat**

**Összesen: 14 pont**

a) Mit jelentenek a varrócérna csomagolásán található alábbi feliratok?

Magyarázza meg a feliratok jelentését is!

Felirat	Felirat jelentése	Magyarázat
Eszter varrócérna		
500 m		
100% PES		
Nm 120/3		

b) Ábrázoljon egy kétágú varrócérnát sematikus ábrával!

**Kétágú varrócérna sematikus ábrája:**

**6. feladat**

**Összesen: 15 pont**

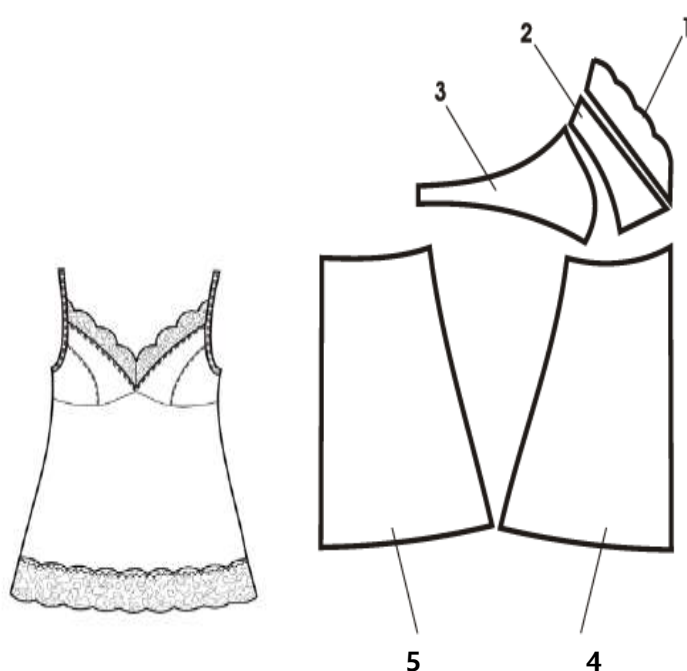
**Soroljon fel a pamutból készült termékek jellemző tulajdonságai közül ötöt!**

- .....
- .....
- .....
- .....
- .....

**7. feladat**

**Összesen: 15 pont**

**Nevezze meg a számokkal jelölt kombinéalkatrészeket!**



- 1. ....
- 2. ....
- 3. ....
- 4. ....
- 5. ....

**8. feladat**

**Összesen: 8 pont**

**a) Nevezze meg a melltartók méretezéséhez szükséges kettő mérési helyet!**



- 1. mérési hely: .....
- 2. mérési hely: .....

**b) Hogyan határozzák meg a melltartó kosárméretét?**

.....

**c) Írjon egy példát egy melltartóméretre!**

.....