

29/2016 (VIII.26) NGM rendelet által módosított szakmai és vizsgakövetelménye alapján.

Szakképesítés, azonosító száma és megnevezése

52 815 03	Férfi fodrász-borbély
-----------	-----------------------

Tájékoztató

A vizsgázó az első lapra írja fel a nevét!

Ha a vizsgafeladat kidolgozásához több lapot használ fel, a nevét valamennyi lapon fel kell tüntetnie, és a lapokat sorszámmal el kell látnia.

Értékelési skála:

81 – 100 pont	5 (jeles)
71 – 80 pont	4 (jó)
61 – 70 pont	3 (közepes)
51 – 60 pont	2 (elégéséges)
0 – 50 pont	1 (elégtelen)

A javítási-értékelési útmutatótól eltérő helyes megoldásokat is el kell fogadni.

A vizsgafeladat értékelési súlyaránya: 15%

Szakmai ismeretek

T 52 815 03/

1. feladat

Összesen: 6 pont

A férfi fodrász - borbély munkaterülete a hajás fejbőr és a haj, ezért a fodrász számára fontos, hogy ismerje a hajás fejbőr felépítését, hogy szakszerűen tudja elvégezni a vegyszeres műveleteket.

'A' feladatrész

Írja a vonal mellé, hogy a bőr melyik függelékéről szól az állítás!

Fő tömegét tekintve keratinból felépülő, melanint is tartalmazó bőrfüggelék:

Holokrin elválasztású mirigy, váladékát főként glicerín-észterek (trigliceridek) és szabad zsírsavak, koleszterin alkotja: _____

Helyes válaszonként 1 pont. Részfeladat pontszáma: 2 pont.

'B' feladatrész

Írja annak a rétegnek a betűjelét az állítás elé, melyre igaz!

- A) hámréteg
- B) irharéteg
- C) bőralja
- D) mindegyik
- E) egyik sem

- ___ Itt található a kután érhálózat.
- ___ Részt vesz az emberi bőr felépítésében.
- ___ Ebben a rétegben helyezkedik el a zsírszövet, ami testtájanként változó vastagságú.
- ___ A verejtékmirigy innen indul ki.
- ___ Két fő rétege a külső és belső gyökérhüvely.
- ___ Öt alrétegből áll, melyből a legfelsőt szarurétegnek is nevezünk.
- ___ Itt található a hajszálmerevítő izom.
- ___ A legalsó rétegében találhatóak a melanocita sejtek a bazális sejtek közé ágyazódva.

Helyes válaszonként 0.5 pont. Részfeladat pontszáma: 4 pont.

2. feladat

Összesen: 5 pont

A diagnosztizálás során fontos, hogy a szakember felismerje a hajhullás különböző formáit.

Ebben a feladatban egy esetleírást talál, amely egy hajhullásra/hajvesztésre illik. Válaszoljon az ezekkel kapcsolatos kérdésekre!

Vendége arról panaszkodik, hogy gyermekének hajszálai kerek foltokban, hajtóben letöredeztettek, púderszerűen hámló, pikkelyes foltok figyelhetők meg. A hajhiányos területeken a bőr felszíne lúdbőrszerű.

Elváltozás megnevezése: _____

Oka: _____

Okoz-e végleges hajhullást, fertőzést? _____

Vendégét kiszolgálhatja-e? _____

Helyes válaszonként/itemenként 1 pont. Összesen: 5 pont.

3. feladat**Összesen: 4 pont****A szakma alapvető követelménye a személyi és munkahelyi higiénia.****Párosítsa az alábbi fertőtlenítéssel kapcsolatos, összetartozó kifejezéseket! Vigyázzon, van egy kakukktojás betű, amit nem kell beírnia! Egy sorszám mellé egy betűjelet írhat.**

- | | |
|------------------|-----------------------|
| 1) Antiszeptikum | a) gombaölő |
| 2) Dezinficiens | b) fertőzés |
| 3) Fungicid | c) bőrfertőtlenítő |
| 4) Sterilizálás | d) eszközfertőtlenítő |
| | e) csíramentesítés |

1. – ___ 2. – ___ 3. – ___ 4. - ___

*Helyes válaszonként 1 pont. Összesen: 4 pont.***4. feladat****Összesen: 2 pont****Fontos, hogy a szakember ismerje munkájának szakmai nyelvezetét. Párosítsa össze a következő meghatározásokat jelentésükkel! Nem kell mindegyik meghatározást felhasználnia. Egy betűjel mellé egy sorszámot írhat.**

- | | |
|------------------|--|
| A. „B” választék | 1. A fej legnagyobb kerületi vonala. |
| B. kalapvonal | 2. Az ollót szembe tartjuk a tincssel, az olló hossz tengelye a tincs hossz tengelyével 45 fokot zár be. |
| C. tompavágás | 3. A hajvágás meghatározója, ehhez igazítjuk a többi tincset, ez határozza meg a frizura hosszát. |
| D. pontvágás | 4. Az olló vágóéle merőleges a tincs hossz tengelyére és párhuzamos a tincset tartó ujjakkal. |
| | 5. Fültől fülig választék a fej legmagasabb pontján keresztül. |
| | 6. Az ollót szembe tartjuk a tincssel, párhuzamos az olló hossz tengelye a tincs hossz tengelyével. |

A – ___ B – ___ C – ___ D – ___

*Minden helyes válasz 0,5 pont. Összesen: 2 pont.***5. feladat****Összesen: 6 pont****A következő kérdések a borotválással kapcsolatosak.****Mire kell ügyelni borotválás közben?**

- _____
- _____
- _____

Határozza meg a kiborotválás fogalmát!

Helyes itemenként 1 pont. Összesen: 6 pont.

6. feladat**Összesen: 8 pont**

A férfi hajvágás pontos ismerete, kivitelezése elengedhetetlen a szakmában. Egészítse ki a mondatokat értelemszerűen a hiányzó kifejezésekkel!

Modern – klasszikus divat hajvágás, szárítás:

A hajhossz a fejtetőn min ___ cm hosszú. Tarkóban, fül körül és a nyakban ___ cm-es lenövés a minimum. A tarkó és a fül körüli résznél a nullpont kialakítása kötelező, melyből _____ kell készíteni. A precíziós hajvágás során nullpont kialakítása _____ kötelező. Választékkal vagy választék nélkül is el lehet készíteni a frizurát. Minden hajvágó eszköz alkalmazható a frizura kialakítása közben, _____ használata kötelező! Az elkészült hajvágás után egy, a mai kornak megfelelő _____ kell kialakítani hajszárítással, fésüléssel. Bármilyen _____ megengedett a frizura készítése során.

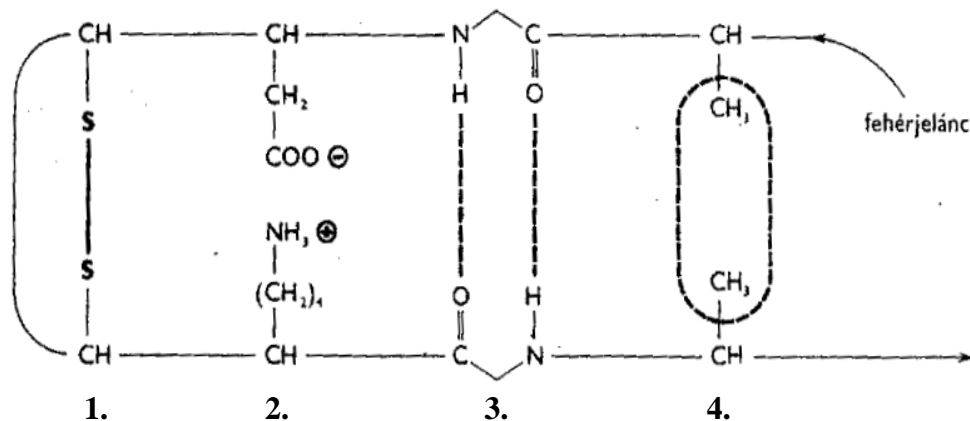
Helyes válaszonként 1 pont. Összesen: 8 pont.

7. feladat**Összesen: 9 pont**

A vegyszeres munkák során fontos, hogy a fodrász tisztában legyen a hajsál felépítésével és a vegyszerek hajsálra gyakorolt hatásával.

'A' feladatrész

Az ábra elemzése után válaszoljon a kérdésre!



Dr. Szirmák Szilárdné, Dr. Szolnoky Erzsébet: Fodrász szakismeret II. Beato Angelico
Kiadó Győr, 2008. 7.24. ábra

Nevezzen meg a képen látható négy kötésből tetszőlegesen háromféle kötést, és írja a számok mellé a kötések neveit az ábrának megfelelően!

1.: _____

2.: _____

3.: _____

4.: _____

Dauerolás során hány %-át bontjuk az 1.-es számmal jelölt kötésnek? _____

A felbontott kötések hány %-át zárjuk vissza a fixálás során? _____

Helyes válaszonként 1 pont. Részfeladat pontszáma: 5 pont.

'B' feladatrész

Írja annak a munkafolyamatnak a betűjelét az állítások utáni vonalra, amelyekre igazak!

- A) Hajfestés munkafolyamata
- B) Hajszínezés munkafolyamata
- C) HTH munkafolyamata
- D) Szőkítés munkafolyamata

Ezt a munkafolyamatot akkor alkalmazzuk, ha 4 vagy annál több színmélységet kívánunk felvilágosítani natúr hajon: _____

Ősz haj 100%-os fedésére is alkalmazott technológia: _____

Tartós formaváltoztatás történik ennek a munkafolyamatnak a segítségével: _____

Ezt a munkafolyamatot akkor ajánljuk a vendégnek, ha nem szeretne tartós színváltoztatást:

Helyes válaszonként 1 pont. Részfeladat pontszáma: 4 pont.

Anyagismeret

8. feladat

Összesen: 7 pont

A kozmetikai termékek összetételét a kozmetikai összetevők nemzetközi nevezéktana (INCI) szerint kell feltüntetni. Válaszoljon a készítménnyel kapcsolatos kérdésekre!

Egy borbély által használatos készítmény címkéjén az alábbi fontosabb összetevőket olvasta:

*resorcinol, propylene glycol, tetrasodium EDTA, parfum, ascorbic acid,
biotin, calcium pantothenate, aqua, cetearyl alcohol,
ethanolamine, p-phenylenediamine, sodium lauryl sulfatate,
2-amino-4-hydroxyethylaminoanisole sulfatate*

Milyen vegyszeres művelet elvégzésére alkalmas a készítmény? Válaszát a vonalra írja! T 52 815 03/

Milyen hatása van a készítményben a p-phenylenediamine nevű vegyületnek?

Milyen kémhatású a készítmény?

Melyik összetevő okozza ezt a kémhatást? Egy vegyületet írjon a felsoroltak közül!

Ebben a készítményben mi a szerepe a resorcinol nevű összetevőnek?

Ebben a készítményben mi a szerepe a tetrasodium EDTA nevű összetevőnek?

A készítmény több vitamint is tartalmaz. Nevezzen meg közülük egyet, de a vitamin betűjelével válaszoljon!

Helyes válaszonként 1 pont. Összesen: 7 pont.

9. feladat

Összesen: 3 pont

A férfiak arcszőrzetének eltávolítása, a szakáll gondozása a borbély egyik lehetséges tevékenységi köre. Ennek ismeretét az aktuális trendek is megkövetelik. Nevezzen meg három vérzéscsillapításra alkalmazható vegyületet, készítményt!

Helyes válaszonként 1 pont. Összesen: 3 pont.

10. feladat

Összesen: 6 pont

A következő feladatok a haj szőkítésével kapcsolatosak. Ez a folyamat is nagy körülményt igényel, és hibázásra ad lehetőséget. Oldja meg a szőkítéssel kapcsolatos feladatokat!

Húzza alá azokat a vegyszereket, amelyek szőkítő porok összetevői lehetnek!

vas-klorid, ammónium-hidroxid, ammónium-tioglikolát, Na-lauril-szulfát, direkt pigment,
α-naftol, magnézium-oxid, paratoluilén-diamin, kálium-perszulfát, rezorcín

A szőkítő porok általában kékes-lilás színűek. Ez természetesen nem véletlen. Mi a célja ezzel a fodrászati terméket gyártó cégeknek, mi ennek a színelméleti elvi alapja?

Helyes válaszonként/itemenként 1 pont. Összesen: 6 pont.

11. feladat

Összesen: 4 pont

Írja az idegen szakkifejezések utáni vonalra azok magyar megfelelőjét, jelentését! T 52 815 03/

szintetikus: _____

alkalikus: _____

detergens: _____

emulgeátor: _____

Helyes válaszonként 1 pont. Összesen: 4 pont.

12. feladat

Összesen: 5 pont

A következő feladat a haj tartós formaváltoztatásához használható készítményekről szól.

Alkosson kisbetű – szám – nagybetű hármast az összetartozó kifejezésekből!

összetevő	példa	feladata
a, redukálószer	1. monoetanolamin	F, hajban lévő kén-hidak felbontása
b, nedvesítőszer	2. tenzid	G, keratin hidratációjának biztosítása
c, lúg	3. tioglikolsav	H, alapanyagok szagának elfedése
d, illatanyag	4. keratin	I, kutikula lazítása
e, védőanyag	5. levendula	J, fésülhetőség elősegítése

a-___-___ b-___-___ c-___-___ d-___-___ e-___-___

Helyes válaszonként 0,5 pont. Összesen: 5 pont.

13. feladat

Összesen: 5 pont

A vegyszeres munkák után különösen fontos a haj szakszerű ápolása.

A szakember feladatai közé tartozik a haj ápolása is. A következő kérdések ezzel kapcsolatosak.

'A' feladatrész

Soroljon fel 5 ápoló hatású anyagot!

Helyes válaszonként 0,5 pont. Részfeladat pontszáma: 2,5 pont.

'B' feladatrész

Mi a célja a hajápoló anyagok használatának? Soroljon fel ötöt közülük!

Helyes válaszonként 0,5 pont. Részfeladat pontszáma: 2,5 pont.

14. feladat

Összesen: 6 pont

Képezzen párokat a számmal és betűvel jelölt kifejezések között! Az egyik betűt nem kell beírnia, mert annak nem talál párt.

1. Leonardo Da Vinci, Donatello, Rafaello	A, román kori építészet
2. Akropolisz, Parthenon, Niké templom	B, impresszionista festészet
3. Traianus-oszlop, Titusz diadalív, Colosseum	C, bizánci stílus
4. Bernini, Il Gésu, Rubens	D, római építészet/szobrászat
5. Pisai dóm, Jáki templom, pécsi székesegyház	E, görög építészet
6. Hagia Sophia, San Vitale-templom	F, barokk stílus
	G, reneszánsz

1. – ___ 2. – ___ 3. – ___ 4. – ___ 5. – ___ 6. – ___

Helyes válaszonként 1 pont. Összesen: 6 pont.

15. feladat

Összesen: 4 pont

Húzza alá azt a kifejezést a dőlt betűs, /-jellel elválasztott kifejezések közül, amellyel igazgá tehető a mondat!

A görög oszloprend *három/öt* féle lehetett. A *toszán/korinthoszi* ezek közül a legdíszesebb. A templomok homlokzatát *timpanon/abakusz* zárja le. A görög templomok magja a *kisméretű szentély/nagyméretű csarnok*.






Helyes válaszonként 1 pont. Összesen: 4 pont.

Hajviselettörténet

16. feladat

Összesen: 5 pont

Írja a képek alá, melyik korszakra jellemző a frizura!

 <p>a kép forrása: Szakrajz – A művészetek és a hajviseletek története c. Szakmunkásképző Iskolai Tankönyv, 1991</p>	 <p>a kép forrása: Dr. Szirmák Szilárdné, Dr. Szolnoky Erzsébet: Fodrász szakmai ismeretek II. Beato Angelico Kiadó</p>	 <p>a kép forrása: Szakrajz – A művészetek és a hajviseletek története c. Szakmunkásképző Iskolai Tankönyv, 1991</p>	 <p>a kép forrása: Szakrajz – A művészetek és a hajviseletek története c. Szakmunkásképző Iskolai Tankönyv, 1991</p>	 <p>a kép forrása: Szakrajz – A művészetek és a hajviseletek története c. Szakmunkásképző Iskolai Tankönyv, 1991</p>

Helyes válaszonként 1 pont. Összesen: 5 pont.

17. feladat**Összesen: 1 pont****Húzzon nyilat a megnevezett hajviselettől a hozzá tartozó stílushoz!**

Belle Poule

klasszicista

futurista

gótikus

rokokó

empire

*A helyes válasz 1 pont. Összesen: 1 pont.***18. feladat****Összesen: 4 pont****Húzza alá a barokk viseletek nevét!**Stuart gallér, Szarvas főkötő, Kalamisz, Medici gallér,
Garcette, Lampaidosz konty, Kutyaful haj*Helyes válaszonként 1 pont. Összesen: 4 pont.*

Munkavédelem és marketing

19. feladat**Összesen: 2 pont****Határozza meg a leíráshoz kapcsolódó fogalmat! Válaszát írja a meghatározás előtti vonalra!**

Olyan feleslegessé vált, a keletkezés helyén fel nem használható különböző mennyiségű és minőségű anyag, amelynek kezeléséről gondoskodni kell: _____

A munkavégzés során vagy azzal összefüggésben jelentkező minden olyan tényező, amely a munkát végző vagy a munkavégzés hatókörében tartózkodó személyekre veszélyt vagy ártalmat jelent: _____

*Helyes válaszonként 1 pont. Összesen: 2 pont.***20. feladat****Összesen: 5 pont****A szépségszalonokban bármikor előfordulhatnak kisebb-nagyobb sérülések. A következő feladatok e témakörrel kapcsolatosak.****Ismertesse, mit kell a mérgezésről értesített orvossal, mentőssel közölnie!**

- _____
- _____
- _____

Soroljon fel a szalonban is használt két olyan anyagot, vegyszertípust, melyek gyakran okoznak mérgezést!

Helyes válaszonként 1 pont. Összesen: 5 pont.

21. feladat

Összesen: 3 pont

Fontos, hogy a szakember tisztában legyen az alapvető marketing tevékenységekkel.

Mi a reklám célja? Nevezzen meg közülük hármat! Válaszát írja a vonalra!

A reklám célja:

- _____
- _____
- _____

Helyes válaszonként 1 pont. Összesen: 3 pont.