

29/2016 (VIII.26) NGM rendelet valamint a 25/2017. (VIII.31.) NGM által módosított szakmai és vizsgakövetelménye alapján.

Szakképesítés, azonosító száma és megnevezése

| | |
|-----------|-----------------------|
| 52 815 03 | Férfi fodrász-borbély |
|-----------|-----------------------|

Tájékoztató

A vizsgázó az első lapra írja fel a nevét!

Ha a vizsgafeladat kidolgozásához több lapot használ fel, a nevét valamennyi lapon fel kell tüntetnie, és a lapokat sorszámmal el kell látnia.

Értékelési skála:

| | |
|----------------------|----------------------|
| 81 – 100 pont | 5 (jeles) |
| 71 – 80 pont | 4 (jó) |
| 61 – 70 pont | 3 (közepes) |
| 51 – 60 pont | 2 (elégéses) |
| 0 – 50 pont | 1 (elégtelen) |

A javítási-értékelési útmutatótól eltérő helyes megoldásokat is el kell fogadni.

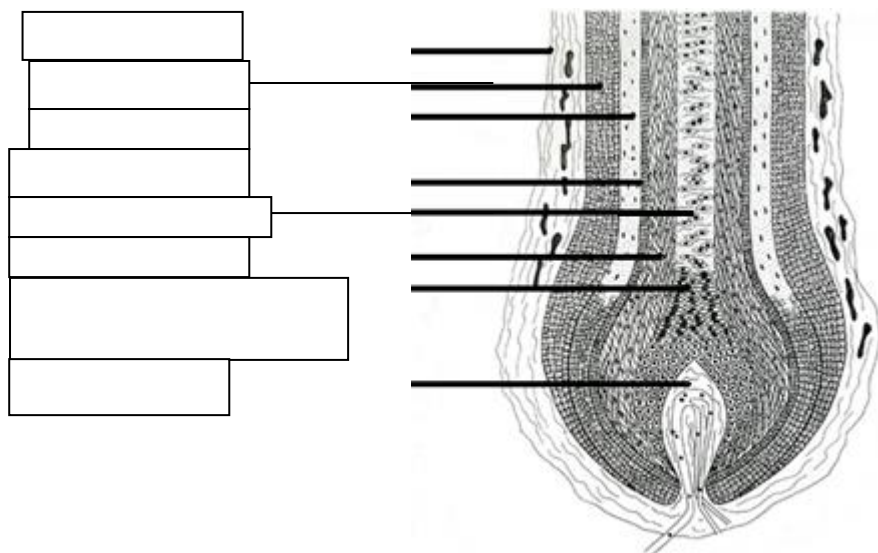
A vizsgafeladat értékelési súlyaránya: 15%

Szakmai ismeretek

1. feladat

Összesen: 9 pont

A fodrász számára fontos, hogy ismerje a hajszál felépítését, elváltozásait ahhoz, hogy szakszerűen tudja elvégezni a vegyszeres műveleteket.



<http://www.worldhairresearch.com/?tag=inf>

Minden helyes válasz 1 pont. Összesen: 9 pont.

2. feladat

Összesen: 6 pont

A szépségügyi szolgáltató szakma megköveteli a személyi és munkahelyi higiénia szabályok betartását. Az alábbi feladat e témakörrel kapcsolatos.

Csoportosítsa a megadott szempontok szerint a következő fertőző elváltozásokat, betegségeket!

Írja az elváltozások előtti betűjelet a megfelelő helyre! Vigyázzon, van egy kakukktojás, ami nem tartozik sehova!

| Vírus | Baktérium | Gomba |
|-------|-----------|-------|
| | | |

- karbunkulus
- mikrospória
- favus
- szórtüszőgyulladás
- övsömör
- tinea barbae
- herpes simplex
- fejtetű
- verruca vulgaris
- mycosis interdigitalis pedis

Írja a kakukktojás betűjelét a vonalra, és válaszoljon az ezzel kapcsolatos kérdésre!

Kakukktojás: _____

Mi okozza: _____

Minden helyes válasz 0,5 pont, ok helyes meghatározása 1 pont. Összesen: 6 pont.

3. feladat

Összesen: 4 pont

A hajvágást megelőző művelet a hajmosás. A következő feladatok ezzel a témakörrel kapcsolatosak.

Soroljon fel 2-2 gyógy-hatóanyagot, amelyek a következő samponok fő összetevői lehetnek:

- zsíros fejbőrre és hajra: _____
- száraz/zsírhányos fejbőrre és hajra: _____
- érzékeny fejbőrre: _____
- hajhullás esetén: _____

Minden helyes válasz 0,5 pont. Összesen: 4 pont.

4. feladat

Összesen: 4 pont

A diagnosztizálás során fontos, hogy a fodrász felismerje a hajhullás különböző formáit. Ebben a feladatban egy esetleírást talál, amely egy konkrét hajhullásra/hajvesztésre illik. Válaszoljon az ezzel kapcsolatos kérdésekre!

40 év körüli férfi vendége arról panaszkodik, hogy a fejtetőn a haja egyre ritkább, halántékán egyre feljebb csúszik a két oldalon a kontúrvonal, a fejbúbon pedig egyre nagyobb kopasz folt látható.

Hajhullás megnevezése: _____

Oka (Soroljon fel kettőt!): _____

Fodrász kezelési javaslata (Írjon egy példát!): _____

Minden helyes válasz/item 1 pont. Összesen: 4 pont.

5. feladat

Összesen: 5 pont

A következő kérdések a borotválással kapcsolatosak.

A) Írja a felsorolt műveletek elé elvégzésük sorszámát! 1. sorszám jelölje azt a műveletet, amit legelőször végez, és 8. azt, amit legutoljára csinál!

- ___ Szappanozás.
- ___ Utókezelés (fertőtlenítés, pH visszaállítás, ápolás).
- ___ Borotva fertőtlenítése.
- ___ Borotválás.
- ___ A vendég beterítése.
- ___ Vérzéscsillapítás, ha szükséges.
- ___ Borotvahab eltávolítása.
- ___ Arcvizsgálat.

Minden helyes válasz 0,5 pont. Összesen: 4 pont.

B) Határozza meg a borotválás fogalmát!*Bármely helyes item 0,5 pont. Összesen legfeljebb: 1 pont.***6. feladat****Összesen: 8 pont**

A férfi hajvágás pontos ismerete, kivitelezése elengedhetetlen a fodrász szakmában. A következő feladatok ezen témakörrel kapcsolatosak.

A következő kérdés az oldalfazonnal, fül körüli hajjal kapcsolatosak.

Határozza meg a férfi fazon részeit!

- _____
- _____
- _____
- _____

Minden helyes válasz 1 pont. Összesen: 4 pont.

Az oldalfazon férfi hajnál lehet:

- _____
- _____
- _____
- _____

*Minden helyes válasz 1 pont. Összesen: 4 pont.***7. feladat****Összesen: 4 pont**

A színváltoztató eljárások egyre divatosabbak és népszerűbbek a férfi vendégek körében is. Válogassa szét az állításokat! Írjon a megfelelő cellába 'X'-et, minden sorban csak egy helyre kerülhet 'X'!

| Állítások | Oxidációs hajfestés | Hajszínezés (fizikai) | Hajszínezés (kémiai) |
|---|---------------------|-----------------------|----------------------|
| Ősz haj teljes fedésére alkalmas technika. | | | |
| Tartós színváltozás történik. | | | |
| Emulzió (pl: 1,9-4% H ₂ O ₂) hozzáadásával kell használni. | | | |
| A használt készítmény a kutikulára és a cortex külső részére tapad. | | | |
| Néhány (egy-két) hajmosásig marad a hajban. | | | |
| Az ősz haját maximum 30-50%-ig fedi teljesen. | | | |

| | | | |
|---|--|--|--|
| Teljes színskálát el lehet érni a művelettel. | | | |
| Csak szőkített, alapozott hajon érjük el a kívánt élénk színhatást. | | | |

Minden helyes válasz 0,5 pont. Összesen: 4 pont.

Anyagismeret

8. feladat

Összesen: 3 pont

Válogassa szét az alábbi anyagokat hatásuk szerint! Minden sorba egy betűt írhat.

A: összehúzó **B:** hidratál, duzzaszt, só-kötést bont **C:** bontja a diszulfid-hidakat
D: tápláló **E:** felhabzó tisztító **F:** hámoldó

| | |
|-------------------|--|
| tiotejsav | |
| ammónium-hidroxid | |
| timsó | |
| lecitin | |
| glikolsav | |
| emulgeátor | |

Minden helyes válasz 0,5 pont. Összesen: 3 pont.

9. feladat

Összesen: 4 pont

Sorolja fel az arcvizek fajtáit!

- _____
- _____
- _____
- _____

Minden helyes válasz 1 pont. Összesen: 4 pont.

10.

eladat

Összesen: 2 pont

A következő feladatok a haj szőkítésével kapcsolatosak. Ez a folyamat is nagy körültekintést igényel, és hibázásra ad lehetőséget. Oldja meg a szőkítéssel kapcsolatos feladatokat!

Párosítsa az összetartozó fogalmakat! Írja a sorszámot a megfelelő betűjel utáni vonalra! Vigyázzon, van olyan állítás, ami sehova sem illik!

- | | |
|------------------------|---|
| a) ammónium-perszulfát | 1. óvja a haját a károsodástól |
| b) hidrogén-peroxid | 2. színtelen, szagtalan folyadék, oldószerként használjuk |
| c) magnézium-oxid | 3. szőkítő por jellemző oxidáló hatóanyaga |
| d) H ₂ O | 4. víz hatására lúgos anyag keletkezik belőle |
| | 5. a fodrásziparban a legfontosabb oxidálószer |

a – __, b __, c – __, d – __

Minden helyes válasz 0,5 pont. Összesen: 2 pont.

11. feladat**Összesen: 4 pont****Írja az idegen szakkifejezések utáni vonalra azok magyar megfelelőjét, jelentését!**

mixton: _____

komplementer színek: _____

tónus: _____

dekolorálás: _____

*Minden helyes válasz 1 pont. Összesen: 4 pont.***12. feladat****Összesen: 9 pont****A HTH-oldattal történő tartós formaváltoztatás egy veszélyes művelet. Ismerete segít megérteni a HTH során zajló folyamatokat.**

Milyen kémhatású a hagyományos HTH-oldat? _____

Milyen redoxi reakcióképességgel rendelkezik? _____

Melyik összetevőjének köszönhető ez a tulajdonság? _____

Melyik hajban található kémiai kötés tartós átalakítását végzi ez a hatóanyag?

Melyik az a hajban található kémiai kötés, amelynek visszaalakítása nem lehetséges, felbomlását kerülni kell, mert annak felbontása biztosan a hajszál eltörésével, leszakadásával jár? _____

Az új helyen létrehozott kötés rögzülését a fixálás folyamata eredményezi.

Nevezze meg a fixáló szer azon összetevőjét, amely a kötések visszaalakítást végzi:

Soroljon fel legalább három, dauerolt hajak ápolására szolgáló növényt!

- _____
- _____
- _____

*Minden helyes válasz 1 pont. Összesen: 9 pont.***13. feladat****Összesen: 3 pont****A fertőtlenítőszeres szakszerű alkalmazása nélkül elképzelhetetlen a higiénikus munkavégzés. Mit fertőtleníthet a felsorolt készítményekkel?****Nevezze meg és válaszát írja a vonalra!**

Jódoldat (pl. Betadine): _____

legalább 70%-os etanol oldat: _____

Hypo (Nátrium-hipoklorit oldat): _____

Minden helyes válasz 1 pont. Összesen: 3 pont.

14. feladat**Összesen: 5 pont**

A hidrogén-peroxid a vegyszeres munkák mindegyikének elengedhetetlen összetevője. Milyen kémiai reakció játszódik le bomlását követően, ami miatt mi, férfi-fodrászok is alkalmazzuk? _____

A helyes válasz 1 pont. Összesen: 1 pont.

Mit jelentenek százalékban/volumenben kifejezve az alábbi töménységek?

| százalékban kifejezett töménység | volumenben kifejezett töménység |
|----------------------------------|---------------------------------|
| 3% | |
| | 40 volumen |

Minden helyes válasz 1 pont. Összesen: 2 pont.

Milyen töménységű hidrogén-peroxid oldatot választana az alábbi esetben? Karikázza be a megfelelő töménységű oldatot, ha a töménységet %-ban fejezzük ki!

- natúr világosszőke haj festése oxidációs hajfestéssel extra világosszőke (12-es) színmélységűre:

3 - 6 - 9 - 12

- ősz haj festése oxidációs hajfestéssel sötétbarna színmélységűre:

3 - 6 - 9 - 12

- natúr világosszőke haj festése oxidációs hajfestéssel közép barna színmélységűre:







3 - 6 - 9 - 12

- natúr közép barna haj festése oxidációs hajfestéssel világosszőke színmélységűre:

3 - 6 - 9 - 12

*Helyes válaszonként 0,5 pont. Összesen: 2 pont.***Művészettörténet****15. feladat****Összesen: 6 pont**

Képezzen párokat a számmal jelölt korszakok és a képek között! Az egyik számot nem kell beírnia egyik kép alá sem, mert annak nem talál párt, ez a kakukktójás.

| | | | | | |
|---|---|---|---|--|---|
|  |  |  |  |  |  |
| | | | | | |

1. gótika

2. egyiptomi

3. ókori görög

4. mezopotámiai

5. reneszánsz

6. barokk

7. ókori római

Minden helyes válasz 1 pont. Összesen: 6 pont.

16. feladat **Összesen: 4 pont**
Húzza alá azt a kifejezést a dőlt betűs, /-jellel elválasztott kifejezések közül, amellyel igazgá tehető a mondat!

A reneszánsz szobrászat a *tökéletes anatómiát/stilizált formákat* tartja etalonnak. A festészetben a *szépség/egyszerűség* a mérvadó. A *perspektivikus szerkesztés/legnagyobb felületek törvénye* új távlatokat nyit az ábrázolásban. Kedvelt kompozíciója a *háromszögforma/a négyzet*, ami Michelangelo Piétájában is megjelenik.

Minden helyes válasz 1 pont. Összesen: 4 pont.

Hajviselettörténet

17. feladat **Összesen: 4 pont**
Írja a meghatározás mellé a helyes választ a felsorolásból! Vigyázzon, nem mindenhez tartozik meghatározás!

lampaidosz, Belle Poule, hennin, diadém, Medici gallér

Fémből készített, drágakövekkel díszített fejpánt: _____

Jellegzetes görög női konty: _____

Magyarul azt jelenti, „szép csipke”, a hasonló nevű hajóról elnevezett hajviselet:

Kúp alakú gótikus fejdísz fátyollal: _____

Minden helyes válasz 1 pont. Összesen: 4 pont.

18. feladat **Összesen: 2 pont**
Párosítsa az adott korszakot a megfelelő hajviselettel! Egy vonallal kösse össze az összetartozókat! Vigyázzon, nem mindegyiknek van párja!

Gretchen hajviselet

Kutyafül haj, ékszerekkel

Bóbitás copf

Kétágú angol hennin

Barokk

Ókori Róma

Gótika

Reneszánsz

Rokokó

Minden helyes válasz 0,5 pont. Összesen: 2 pont.

19. feladat **Összesen: 4 pont**
Húzza alá azon viseletek nevét, amelyek nem tartoznak az ún. királyi barokk viseletek közé!

barett sapka, teljes alonge középválasztékkal, Apolló frizura, fontanges hajviselet,
 empire konty, birkafrizura, szarvas főkötő

Minden helyes válasz 1 pont. Összesen: 4 pont.

Munkavédelem és marketig

20. feladat

Összesen: 2 pont

Határozza meg a leíráshoz kapcsolódó fogalmat! Válaszát írja a meghatározás előtti vonalra!

_____ : az, aki baleseti sérülése vagy egészségkárosodással összefüggő és gyógykezelést igénylő állapota miatt nem tud munkát végezni, függetlenül attól, hogy erre az időre táppénzben részesül-e vagy sem.

_____ : az a baleset, amely a munkavállalót a szervezett munkavégzés során, vagy azzal összefüggésben éri, annak helyétől és időpontjától, valamint a munkavállaló közrehatásának mértékétől függetlenül.

Minden helyes válasz 1 pont. Összesen: 2 pont.

21. feladat

Összesen: 5 pont

A szépségiparban fontos a tűzvédelem. Az alábbi feladatokban a tűzvédelemmel kapcsolatos kérdésekre kell válaszolnia.

A szépségszalonokban milyen halmazállapotú éghető anyagok találhatóak? Sorolja fel ezeket!

- _____
- _____
- _____

A szépségszalonok mely tűzveszélyességi osztályba tartoznak?

A szépségszalonokban használt anyagok a _____ és _____ tűzveszélyességi osztályba tartoznak.

Minden helyes válasz 1 pont. Összesen: 5 pont.

22. feladat

Összesen: 3 pont

A kommunikációs politika a fodrászüzlet és a fogyasztó, vendég közötti információáramlás elveinek és módszereinek összessége. Fő célja a vendégek tájékoztatása, befolyásolása és meggyőzése a termék, szolgáltatás igénybevétele érdekében.

Soroljon fel az elemei közül hármat!

- _____
- _____
- _____

Minden helyes válasz 1 pont. Összesen: 3 pont.