

29/2016 (VIII.26) NGM rendelet valamint a 25/2017. (VIII.31.) NGM által módosított szakmai és vizsgakövetelménye alapján.

Szakképesítés, azonosító száma és megnevezése

| | |
|-----------|-----------------------|
| 52 815 03 | Férfi fodrász-borbély |
|-----------|-----------------------|

Tájékoztató

A vizsgázó az első lapra írja fel a nevét!

Ha a vizsgafeladat kidolgozásához több lapot használ fel, a nevét valamennyi lapon fel kell tüntetnie, és a lapokat sorszámmal el kell látnia.

Értékelési skála:

| | |
|----------------------|-----------------------|
| 81 – 100 pont | 5 (jeles) |
| 71 – 80 pont | 4 (jó) |
| 61 – 70 pont | 3 (közepes) |
| 51 – 60 pont | 2 (elégéséges) |
| 0 – 50 pont | 1 (elégtelen) |

A javítási-értékelési útmutatótól eltérő helyes megoldásokat is el kell fogadni.

A vizsgafeladat értékelési súlyaránya: 15%

Szakmai ismeretek

1. feladat

Összesen: 4 pont

A következő feladat a haj felépítésével kapcsolatos. Melyik részére jellemző? Írja a megfelelő betűt a kipontozott helyre!

- A) Cortex
- B) Cuticula
- C) Medulla
- D) Cortexre és cuticulára is jellemző

- ___ A vegyszeres munkák célja az itt bekövetkező változások létrehozása.
- ___ A KITT-anyag található meg benne.
- ___ Szivacsos szerkezetű keratinba zárt levegőt tartalmaz.
- ___ A festékanyag nagy része itt található.
- ___ Vannak olyan hajszaalak, ahol teljesen hiányzik vagy csak helyenként figyelhető meg.
- ___ Amorf keratinlapocskák építik fel.
- ___ Védi a hajszaalat a külső hatásoktól.
- ___ Szálkeratin építi fel. Felel a haj rugalmasságáért, szakító szilárdságáért, erősségéért.

Minden helyes válasz 0,5 pont. Összesen: 4 pont.

2. feladat

Összesen: 12 pont

A hajvágást megelőző művelet a hajmosás. A következő feladatok ezzel a témakörrel kapcsolatosak.

A) Mely tényezők befolyásolják a hajmosás gyakoriságát?

- a) _____
- b) _____
- c) _____

B) Milyen hatása van a hajmosásnak a fejbőrre, hajra?

- a) _____
- b) _____
- c) _____

C) Soroljon fel 3 gyógynövényt, amelyben vérbőséget okozó drog van, valamint hogy milyen készítményekben használjuk ezeket.

- a) _____: _____ - ben használjuk.
- b) _____: _____ - ben használjuk.
- c) _____: _____ - ben használjuk..

Minden helyes válasz 1 pont. Összesen: 12 pont.

3. feladat**Összesen: 4 pont****A következő kérdések a borotválással kapcsolatosak.****A) Mire kell ügyelni borotválás közben? Írjon három lehetséges választ!**

- _____
- _____
- _____

*Minden helyes válasz 1 pont. Összesen 3 pont.***B) Határozza meg a kiborotválás fogalmát!**

*Minden helyes válasz 1 pont. Összesen: 1 pont.***4. feladat****Összesen: 4 pont****A férfi klasszikus hajvágás pontos ismerete, kivitelezése elengedhetetlen a fodrász szakmában. A következő feladatok ezen témakörrel kapcsolatosak.**

Egészítse ki a mondatokat, hogy az megfeleljen a klasszikus férfi hajvágás formai követelményének!

Hajhossz a fejtetőn minimum: _____ a tarkó és fül körül minimum: _____.

Fül körül, és a tarkórészen lévő haj vágása _____ történik. A haj a fülre a fazonvágás után _____; éles, tiszta fazon vágása _____. A fejtetőt és az oldalhajakat _____ át kell vékonyítani. Hajvágáskor _____ és _____ nem használható.

*Minden helyes válasz 0,5 pont. Összesen: 4 pont.***5. feladat****Összesen: 4 pont****Írja a megfelelő betűjelet az állítás előtti vonalra!**

- A) Fixálószer
- B) HTH-oldat
- C) Utókezelő
- D) Egyik sem

- ___ A felnyitott kénhidak 90%-át visszazárja.
- ___ Hatóanyagainak köszönhetően tartós formaváltoztatást eredményez a használata.
- ___ Feladata a haj ápolása, keratin szerkezetének visszaállítása.
- ___ A peptid - kötések bontjuk vele.
- ___ Redukálószer és lúgosító anyagokat tartalmaz.
- ___ A hajban esetlegesen visszamaradó vegyszereket semlegesíti.
- ___ Csak a hidrogén-hidakat bontjuk és zárjuk vele.
- ___ Hatásának következtében a kutikula pikkelyei felnyílnak, a cortex megduzzad.

Minden helyes válasz 0,5 pont. Összesen: 4 pont.

6. feladat**Összesen: 7 pont****Egészítse ki a színváltozással kapcsolatos mondatokat értelemszerűen!**

Első festés előtt a diagnosztizálást követően a _____ elvégzése kötelező. A festés csak _____ eredmény után végezhető el.

Első festésnél az oxidációs-festékkeveréket először a _____ - _____ - re, majd a _____ -re visszük fel. Az utánfestés munkafolyamatának utolsó 5 percében _____ szükséges!

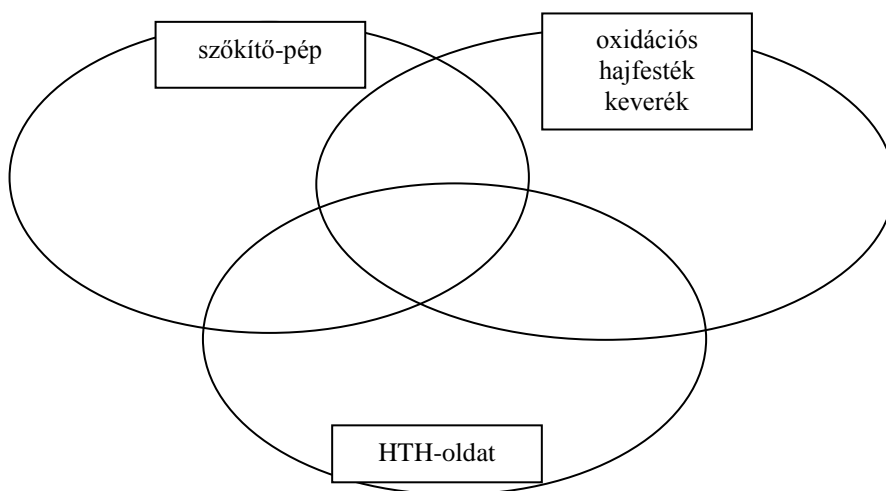
A szőkítő keverékkel készített fóliás melírnál nem ajánlott a _____ a túlmelegedés miatt.

Minden helyes válasz 1 pont. Összesen: 7 pont.

7. feladat**Összesen: 5 pont**

A következő feladat a fodrászatban alkalmazott vegyszeres munkákkal kapcsolatos. Csoportosítsa a következő anyagokat a felhasználási terület szerint, írja az anyagok betűjelét a megfelelő helyre!

- | | | | |
|---------------------------|---------------------|----------------------|------------------|
| a, ammónium-perszulfát | b, hidrogén-peroxid | c, H ₂ O | d, szalmiákszesz |
| e, Nátrium-lauril-szulfát | f, rezorcin | g, MgCO ₃ | h, tioglikolsav |
| i, felületaktív anyagok | j, illatosító | | |



Minden helyes válasz 0,5 pont. Összesen: 5 pont.

Anyagismeret

8. feladat **Összesen: 5 pont**
Válogassa szét az alábbi anyagokat felhasználási terület szerint! Minden sorba két betűt írhat.

A: glutáraldehid **B:** Coco-glucoside **C:** timsó **D:** talkum
E: Cocamidopropyl betain **F:** 10%-os H₂O₂ **G:** P-phenylene-diamine **H:** titán-dioxid
I: 70 %-os etanol **J:** Toluene-2,5-diamine

| | |
|--------------------------------|--|
| vérzéscsillapítók | |
| púderalapanyagok | |
| tenzidek, habképzők | |
| eszközfertőtlenítők | |
| oxidációs festékek hatóanyagai | |

Helyes válaszonként 0,5 pont. Összesen: 5 pont.

9. feladat **Összesen: 5 pont**
Írja a szőkítőpor hat megnevezett összetevője közül legalább öt anyag mellé, hogy milyen szerepet töltenek be a termékben!

Potassium persulfate: _____

CI77007 Ultramarines: _____

Cellulose gum: _____

EDTA: _____

NaHCO₃ (Sodium bicarbonate): _____

Sodium-lauryl-sulfate: _____

Helyes válaszonként 1 pont. Legfeljebb 5 pont.

10. feladat **Összesen: 5 pont**
Írja az idegen szakkifejezések utáni vonalra azok magyar megfelelőjét, jelentését!

antiszeptikum: _____

neutrális: _____

adsztrिंगens: _____

dekolorálás: _____

fixálás: _____

Helyes válaszonként 1 pont. Összesen: 5 pont.

11. feladat**Összesen: 1 pont**

Rendezze hatásuk erőssége alapján a felsorolt fertőtlenítő eljárások betűjeleit!
A felsorolást legerősebb hatású eljárás betűjelével kezdje!

A: bakteriosztatikus hatás B: sterilizáció C: szanációs hatás

Helyes válasz: _____

Egy betű a megfelelő helyen a sorban 0,5 pont, a hibátlan válasz összesen: 1 pont.

12. feladat**Összesen: 4 pont**

Írja be a megfelelő szavakat a szövegben a vonalakra, hogy értelmes és valós állításokat kapjunk! A dőlt betűs kifejezésekből választhat. Egy vonalra egy kifejezést írhat.

*sztearinsav, hidrogén-hidak, sósav, lúgos, trietanol-amin, hajzsírozók, hidrogén-peroxid,
etil-alkohol, Na-tetraborát, diszulfid-hidak, hidrogén, HTH-fixáló, savas,
borotvakrémek, szilikon, semleges, HTH-oldat, szén, peptid-kötés, víz*

A _____ poláros oldószer, amelyben a _____
és oxigén atomok aránya a 2:1-hez.

A _____ egy nagy szénatomszámú karbonsav, amely _____
gyakori, jellegzetes összetevője. Elszappanosítására _____-t vagy
kálium-hidroxidot raknak a készítménybe.

Az ammónium-tioglikolát egy _____ kémhatású anyag, amely
_____ hatóanyagaként, redukáló tulajdonsága révén bontja a haj
keratinjában a _____-t.

Helyes válaszonként 0,5 pont. Összesen: 4 pont.

13. feladat**Összesen: 5 pont**

Húzza alá a megkezdett mondatok egyetlen helyes befejezését!

A bőrsemleges pH-érték ...

- a, 14,0
- b, 0,0
- c, 5,5

A Na-hipokloritot ...

- a, padló dezinficiálására alkalmazzuk.
- b, a fodrász saját kezének tisztítására alkalmazza.
- c, borotválás előtt a vendég szakállának higiénikus átmosására alkalmazzuk.

Fejbőr szeborreájának kezelésére az a sampon alkalmas, amelynek ...

- a, olívaolaj, sheavaj és ceramidok szerepelnek a hatóanyagai között.
- b, teafaolaj, Zn-pirition és biotin szerepelnek a hatóanyagai között.
- c, kamilla, lecitin, F-vitamin szerepelnek a hatóanyagai között.

A hidrogén-peroxid 20 volumenos oldata ...

- a, 3 %-os töménységű.
- b, 6 %-os töménységű.
- c, 9 %-os töménységű.

A vazelin ...

- a, jól felszívódó krémalapanyag, tápláló krémek hatóanyaga.
- b, nem szívódik fel a bőrbe, emiatt kontúrkrémezésre alkalmazható.
- c, érzékeny bőrök borotválás utáni masszírozására alkalmazható.

Helyes válaszonként 1 pont. Összesen: 5 pont.

14. feladat

Összesen: 2 pont

Hajban, szakállban, bőrön maradó termékeknél különösen fontos a kellemes illat, bár sajnos azokra egyre több ember érzékeny. Válassza ki az alábbi felsorolásból azokat az anyagokat, amelyek fodrászipari készítményekben illatanyagként töltik be szerepüket! A megnevezett anyagok fele illatosító, ezeknek a nevét írja a vonalakra!

linalool, propanol, cetrimid, geraniol, propanol, limonene, eugenol, cholesterol

- _____

- _____

- _____

- _____

Helyes válaszonként 0,5 pont. Összesen: 2 pont.

15. feladat

Összesen: 3 pont

Tegye ki a megfelelő relációs jelet (< , = , >) az összehasonlítandó mennyiségek, értékek közé!

| | | |
|------------------------------|--|-------------------------------|
| hidrogén-peroxid pH értéke | | oxidációs hajfesték pH értéke |
| '0'-s HTH-oldat erőssége | | '2'-s HTH oldat erőssége |
| cetil-alkohol szárító hatása | | etil-alkohol szárító hatása |
| desztillált víz kémhatása | | pH 7,0 |
| hab víztartalma | | wax víztartalma |
| hajlakk PVP/PVA-tartalma | | arcszesz PVP/PVA-tartalma |

Helyes válaszonként 0,5 pont. Összesen: 3 pont.

Művészettörténet

16. feladat

Összesen: 6 pont

Képezzen párokat a számmal és betűvel jelölt kifejezések között! Az egyik betűt nem kell beírnia, mert annak nem talál párt a sorszámmal jelölt műemlékek és jellemzők között.

| | |
|--|-------------------------------------|
| 1. Karnak, Abu Szimbel, Luxor templomai | A, ógörög építészeti műemlékek |
| 2. mozaikművészet, baldachinos oltárok | B, sumér építészet |
| 3. keskeny lőrészterű ablakok, nehéz dongaboltozat | C, óegyiptomi építészeti műemlékek |
| 4. Héra templom, Parthenon, Niké templom | D, ókori római építészeti műemlékek |
| 5. magasba törő téregyüttes, festett üveglalakok | E, bizánci művészet |
| 6. Panthenon, Jupiter templom, Colosseum | F, román kori művészet |
| | G, gótikus művészet |

1. – ___ 2. – ___ 3. – ___ 4. – ___ 5. – ___ 6. – ___

Helyes válaszonként 1 pont. Összesen: 6 pont.

17. feladat

Összesen: 4 pont

Húzza alá azt a kifejezést a dőlt betűs, /-jellel elválasztott kifejezések közül, amellyel igazá tehető a mondat!

A tonsor-ok/figaro-k az ókori / középkori Róma / Babilonia borbélyai, akik a haj vágása és ápolása mellett szakáll nyírásával, gondozásával / freskók készítésével is foglalkoztak.






Helyes válaszonként 1 pont. Összesen: 4 pont

Hajviselettörténet

18. feladat

Összesen: 5 pont





Írja a képek alá a viseletek nevét!

| | | | | |
|---|--|---|--|---|
|  <p>a kép forrása: Szakrajz – A művészetek és a hajviseletek története c. Szakmunkásképző Iskolai Tankönyv, 1991</p> |  <p>a kép forrása: Dr. Szirmák Szilárdné, Dr. Szolnoky Erzsébet: Fodrász szakmai ismeretek II. Beato Angelico Kiadó</p> |  <p>a kép forrása: Szakrajz – A művészetek és a hajviseletek története c. Szakmunkásképző Iskolai Tankönyv, 1991</p> |  <p>a kép forrása: Szakrajz – A művészetek és a hajviseletek története c. Szakmunkásképző Iskolai Tankönyv, 1991</p> |  <p>a kép forrása: Szakrajz – A művészetek és a hajviseletek története c. Szakmunkásképző Iskolai Tankönyv, 1991</p> |
| | | | | |

Helyes válaszonként 1 pont. Összesen: 5 pont.

19. feladat**Összesen: 1 pont**

A képen látható négy viseletből az egyik a középkorhoz köthető. Írja a vonalra a középkori viselet betűjelét!

| | | | |
|---|---|--|---|
|  <p style="text-align: center;">A</p> <p>a kép forrása: Szakrajz - A művészetek és a hajviseletek története c. Szakmunkásképző Iskolai Tankönyv, 1991</p> |  <p style="text-align: center;">B</p> <p>kép forrása: www.colorprints.com</p> |  <p style="text-align: center;">C</p> <p>a kép forrása: Szakrajz - A művészetek és a hajviseletek története c. Szakmunkásképző Iskolai Tankönyv, 1991</p> |  <p style="text-align: center;">D</p> <p>a kép forrása: Szakrajz - A művészetek és a hajviseletek története c. Szakmunkásképző Iskolai Tankönyv, 1991</p> |
|---|---|--|---|

Középkori viselet betűjele: _____

A helyes válasz 1 pont.

20. feladat**Összesen: 4 pont**

Húzza alá a női viseletek nevét!

diadém, frígiai sapka, párta, tollforgós sisak, kalamisztra, hulle, diaboló

Helyes válaszonként 1 pont. Összesen: 4 pont.

Munkavédelem és marketig

21. feladat**Összesen: 4 pont**

Határozza meg a leíráshoz kapcsolódó fogalmat! Válaszát írja a meghatározás utáni vonalra!

Az emberi szervezetet ért olyan egyszeri, külső hatás, amely a sérült akaratától függetlenül, hirtelen, vagy rövid idő alatt következik be, és sérülést, mérgezést, vagy más (testi, lelki) egészségkárosodást, illetve halált okoz: _____

Soroljon fel 3 személyi okot, ami kiválthat munkabalesetet!

- _____
- _____
- _____

Minden helyes válasz 1 pont. Összesen: 4 pont.

22. feladat

Összesen: 4 pont

A szépségiparban fontos a tűzvédelem. Az alábbi feladatokban a tűzvédelemmel kapcsolatos kérdésekre kell válaszolni.

Tűz esetén, mit kell feltétlenül elmondani a telefonban?

- _____
- _____
- _____
- _____

Minden helyes válasz 1 pont. Összesen: 4 pont.

23. feladat

Összesen: 2 pont

Sorolja fel a marketing eszközeit!

- _____
- _____
- _____
- _____

Minden helyes válasz 0,5 pont. Összesen: 2 pont.