

A 27/2012 (VIII. 27.) NGM rendelet, a 27/2012 (VIII. 27.) NGM rendelet (12/2013. (III. 28.) NGM rendelet által módosított) szakmai és vizsgakövetelménye alapján.

Szakképesítés, azonosító száma és megnevezése

34 542 06	N i szabó
-----------	-----------

Tájékoztató

A vizsgázó az els lapra írja fel a nevét!

Ha a vizsgafeladat kidolgozásához több lapot használ fel, a nevét valamennyi lapon fel kell tüntetnie, és a lapokat sorszámmal el kell látnia.

Használható segédeszköz:

ceruza, vonalzó, negyedés centi, számológép

**Értékelési skála:**

<b>81 – 100 pont</b>	<b>5 (jeles)</b>
<b>71 – 80 pont</b>	<b>4 (jó)</b>
<b>61 – 70 pont</b>	<b>3 (közepes)</b>
<b>51 – 60 pont</b>	<b>2 (elégéses)</b>
<b>0 – 50 pont</b>	<b>1 (elégtelen)</b>

**A javítási-értékelési útmutatótól eltér helyes megoldásokat is el kell fogadni.**

**A vizsgafeladat értékelési súlyaránya: 15%.**

**1. feladat**

**Összesen: 6 pont**

Nevezze meg az ábrán látható varratot! Írjon 3 példát az alkalmazási területeire!

A varrat megnevezése:

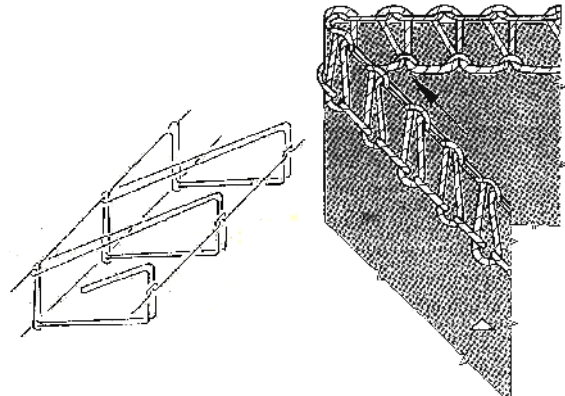
.....

Alkalmazási területei:

1.:.....

2.:.....

3.:.....



**2. feladat**

**Összesen: 6 pont**

Egészítse ki megfelel szakkifejezésekkel az alábbi meghatározásokat!

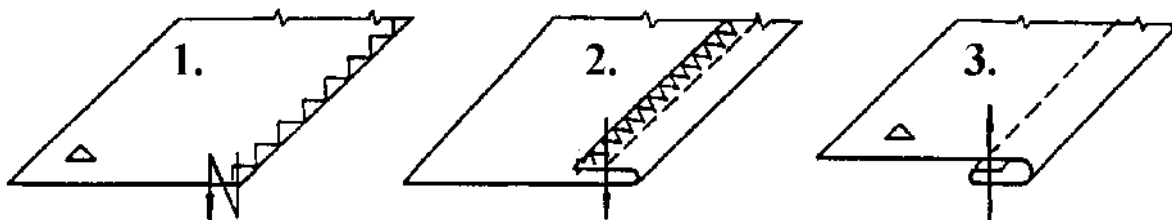
Szövésnél a ..... elhelyezked két fonalrendszer keresztéz désével lapszer termék jön létre.

A ..... a szövet hosszirányában helyezkednek el, a ..... a szövet egyik szélét l a másikig haladnak.

**3. feladat**

**Összesen: 6 pont**

Nevezze meg a képen látható szegési módokat!



1.:.....

2.:.....

3.:.....

**4. feladat**

**Összesen: 4 pont**

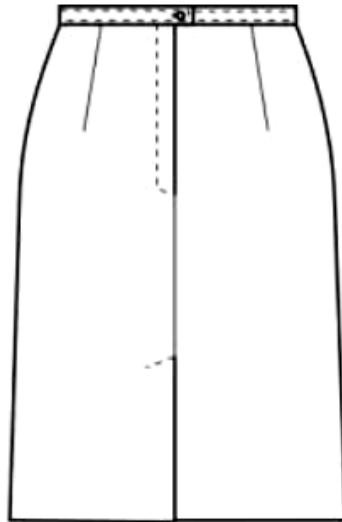
**Égészítse ki a méretvételezéshez kapcsolódó meghatározásokat a megfelelő szakkifejezésekkel!**

- A háta derékhozsa a ..... és a derékvonal közötti távolság.
- A ..... az a hosszúságiméret, melyet a deréktől a test oldalán a talpsíkiig mérünk.

**5. feladat**

**Összesen: 20pont**

**Írja le az ábrán látható szoknya takart lépéshasítékának készítését a m veleti sorrendnek megfelelő en!**



1. ....
2. ....
3. ....
4. ....
5. ....
6. ....
7. ....
8. ....
9. ....
10. ....

**6. feladat****Összesen: 8 pont**

**Párosítsa az állításokat a megadott szövetekkel! Írja a megfelelő nagybetűt a szövetek nevei elé!**

- |   |                 |                     |       |         |
|---|-----------------|---------------------|-------|---------|
| A | Hurkos felület  | gyapjúsövet         | ..... | Ballon  |
| B | Jacquard-mintás | selyemszövet        | ..... | Batiszt |
| C | S r re sz tt,   | gyakran vízleperget | ..... | Buklé   |
| D | Legvékonyabb    | pamutszövet         | ..... | Brokát  |

**7. feladat****Összesen:10 pont**

**Párosítsa és vonalakkal kapcsolja össze az ábrán látható testalkattípusokat a hozzájuk tartozó megnevezésekkel!**

**homokóra****körte****szögletes****alma****fordított háromszög****8. feladat****Összesen: 18 pont**

**Szerkessze meg az egyenes vonalú szoknyát a modellrajz és a megadott szerkesztési adatok segítségével!**

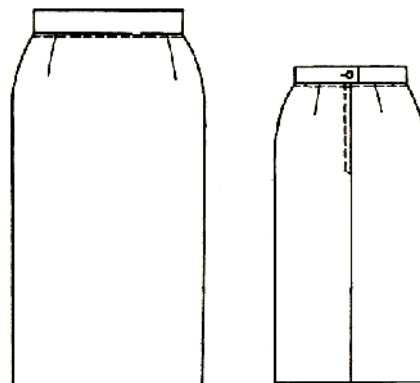
Csíp mélység: 20 cm

Szoknya derékb ség: 36 cm

Szoknya csíp b ség: 49 cm

Derékkarcsúsítás: 13 cm

Szoknyahossz: 65 cm



Szerkesztés helye:

**9. feladat**

**Összesen: 8 pont**

**Állapítsa meg az alábbi állításokról, hogy igazak vagy hamisak! Írja a mondat utáni vonalra az IGAZ szót, ha elfogadja az állítást, vagy a HAMIS kifejezést, ha nem ért vele egyet!**

A laza szerkezet , lágy esés , puha szövetek vasalhatósága, éltartó-képessége kiváló.

.....

A kuszáltan elhelyezkedő gyapjúszálak enyhén lúgos folyadékban nyomkodás hatására összefügg , szilárd lapszerű termékké kapcsolódnak. ....

A kötött kelmék rugalmasak, követik a test alakját, a tapintásuk puha, lágyesésűek.

.....

A filcet bábuk, kalapok, mellények, tarisznyák, zakó alsógallérok készítésére használják.

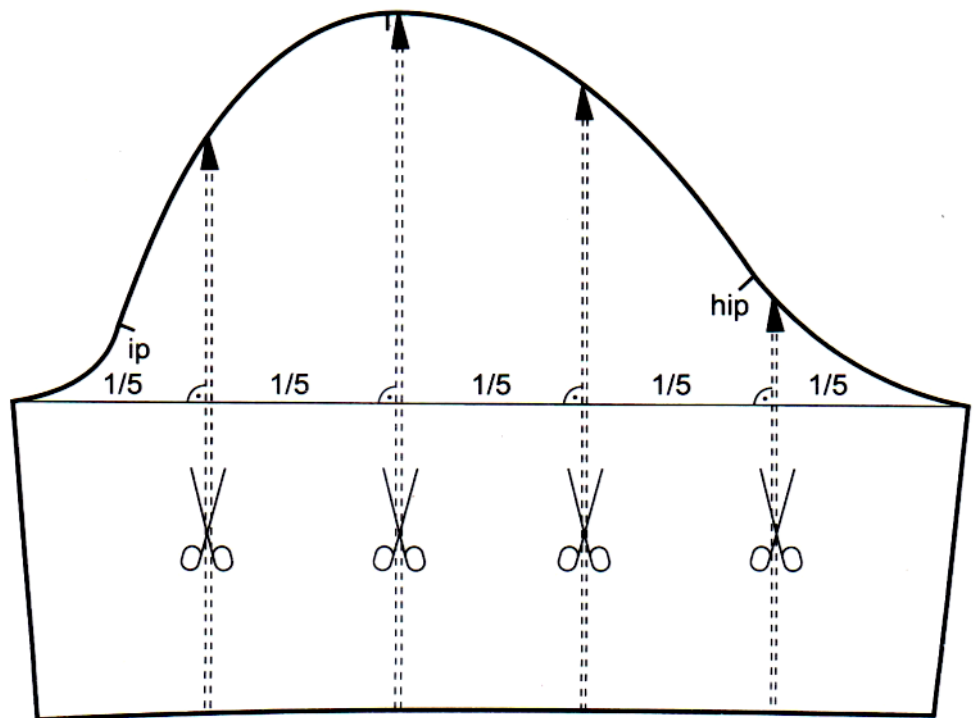
.....

## 10. feladat

Összesen: 14 pont

Modellezze a harangszabású ujjat az alpminta segítségével!

Készítse el a varrásszélességek nélküli szabásmintát! Lásza el a szükséges jelölésekkel!



**Szabásminta helye:**