

A 27/2012. (VIII. 27.) NGM rendelet 12/2013. (III. 28.) NGM rendelet által módosított szakmai és vizsgakövetelménye alapján.

Szakképesítés azonosítószáma és megnevezése

34 542 05	Kárpitos
-----------	----------

Tájékoztató

A vizsgázó az első lapra írja fel a nevét!

Ha a vizsgafeladat kidolgozásához több lapot használ fel, a nevét valamennyi lapon fel kell tüntetnie, és a lapokat sorszámmal el kell látnia.

Használható segédeszköz:

- számológép
- vonalzó

Értékelési skála:

81 – 100 pont	5 (jeles)
71 – 80 pont	4 (jó)
61 – 70 pont	3 (közepes)
51 – 60 pont	2 (elégséges)
0 – 50 pont	1 (elégtelen)

A javítási-értékelési útmutatótól eltérő, de szakmailag helyes megoldásokat is el kell fogadni.

A feladatra adható összpontszám súlyozása a javító szaktanár lehetősége.

A vizsgafeladat értékelési súlyaránya: 25%.

5. feladat

Összesen: 15 pont

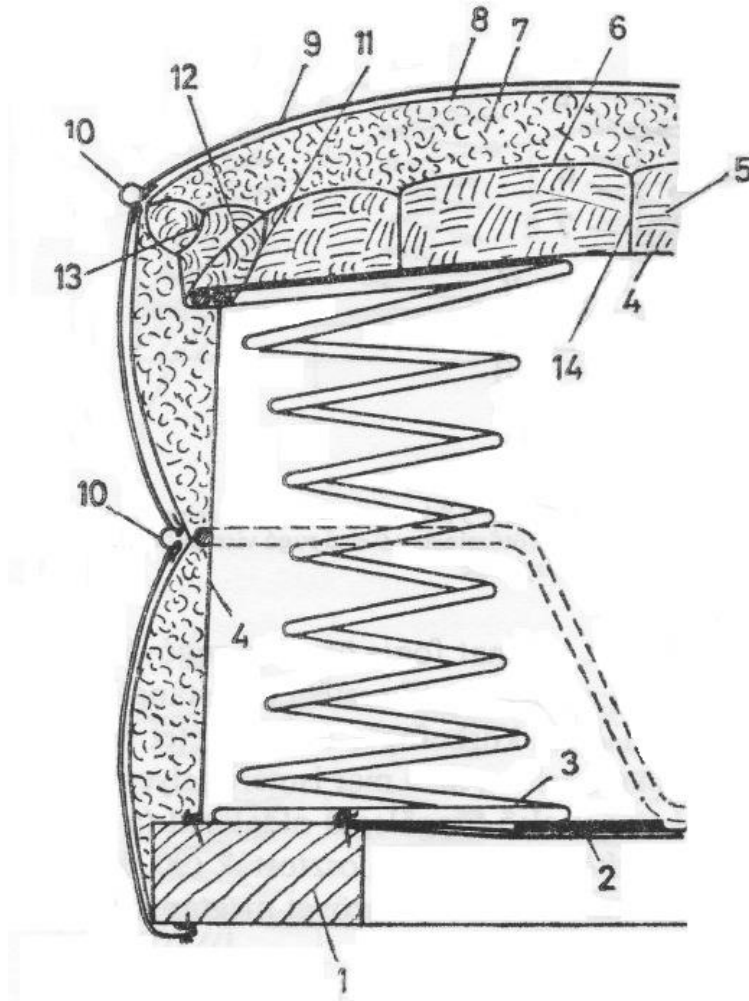
Az ábrán egy hagyományos fotelülés látható.

Nevezze meg az élképés fajtáját!

A számok melletti pontozott vonalra írja a fotel részeinek megnevezését!

Élképés fajtája:

1 pont



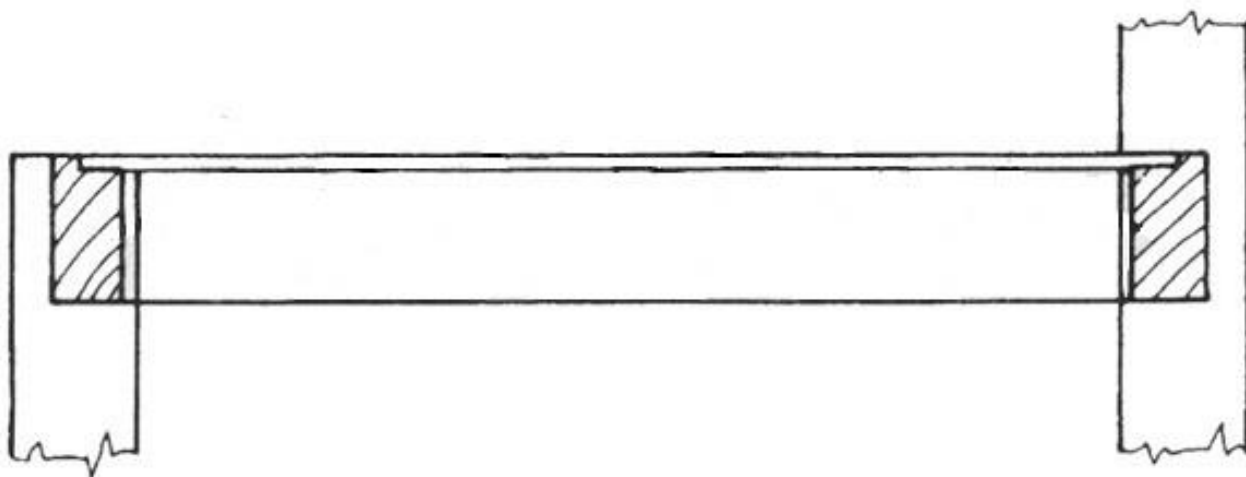
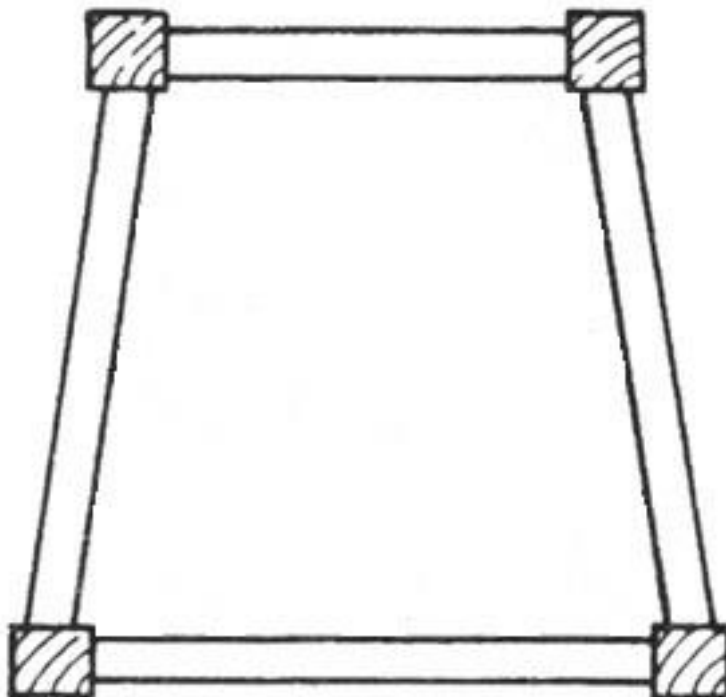
1.
2.
3.
4.
5.
6.
7.

8.
9.
10.
11.
12.
13.
14.

8. feladat

Összesen: 14 pont

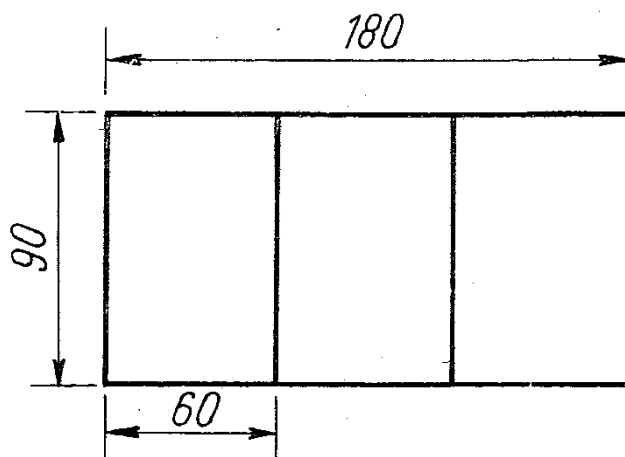
Egészítse ki a rajzokat! Rajzolja be a rugók helyzetét és a rugólekötés módját az alacsony kárpitozású szék vízszintes és függőleges metszeteinek vázlatába! A rugók darabszámát ismeretei alapján döntse el!



9. feladat**Összesen: 10 pont**

Egy régi ágy háromrészes afrikkal töltött matracát szeretnék újra bevonatni. Az ágy fekvőfelülete 180x90 cm, a matrac magassága 12 cm. A ráhagyásokra vonatkozó tapasztalati százalékos értéke 7%.

Számolja ki a háromrészes matrac bevonóanyag-szükségletét!

**Megoldás:**

10. feladat

Összesen: 10 pont

A mellékelt rajzon egy sarokkötés felülnézeti és bal oldalnézeti képe látható.

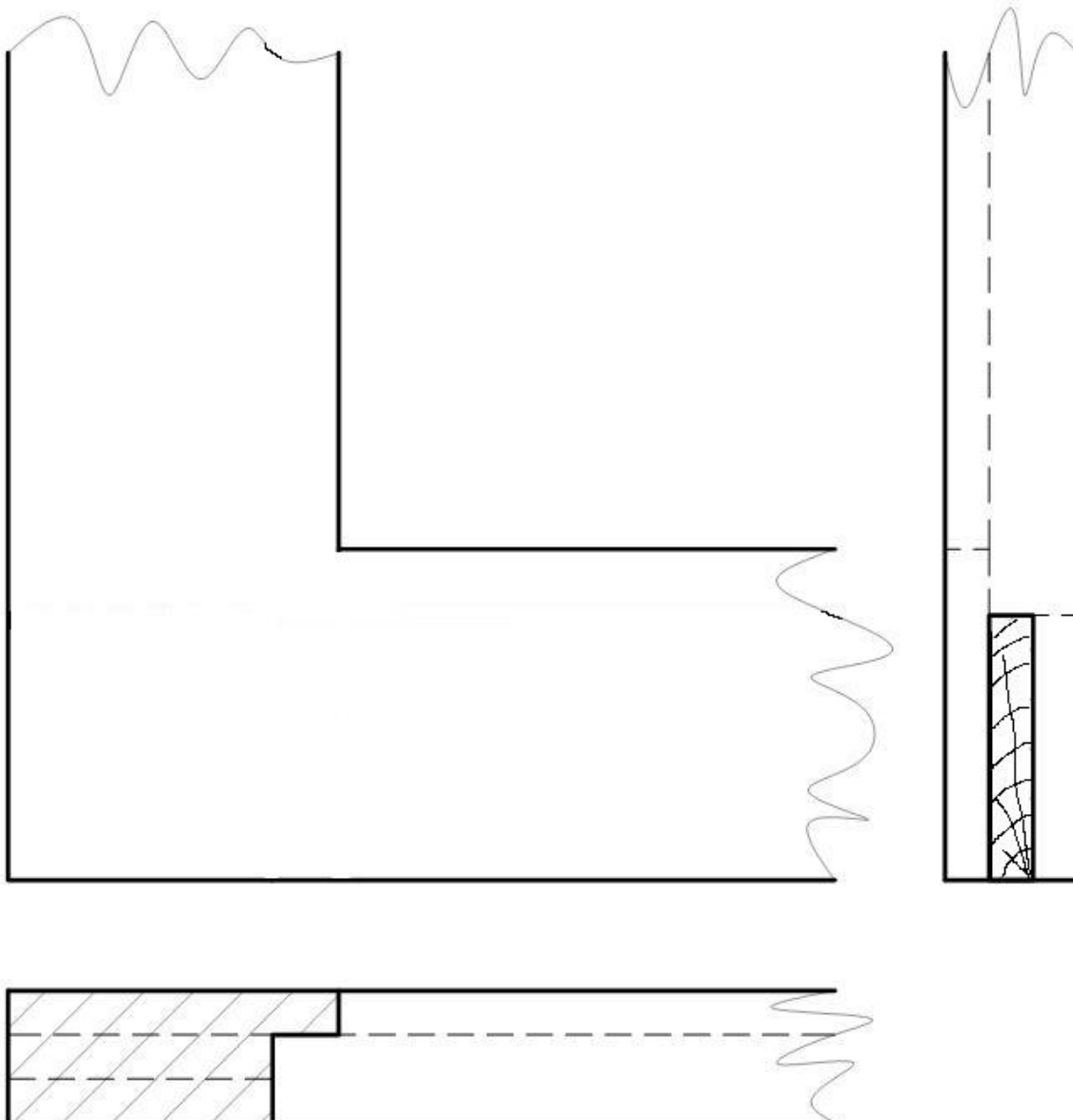
Nevezze meg a fakötést!

A hiányos előlnézeti képet rajzolja meg a két nézet segítségével!

Fakötés megnevezése:

2 pont

Megoldás:



11. feladat

Összesen: 6 pont

Milyen fő csoportokba sorolhatjuk a bevonóanyagokat? Nevezze meg őket!

-
-
-
-
-
-