

A 27/2012. (VIII. 27.) NGM rendelet módosított szakmai és vizsgakövetelmény alapján.

Szakképesítés, azonosító száma és megnevezése

| | |
|-----------|---|
| 34 542 03 | Fehérnem -készít és kötöttáru összeállító |
|-----------|---|

Tájékoztató

A vizsgázó az első lapra írja fel a nevét!

Ha a vizsgafeladat kidolgozásához több lapot használ fel, a nevét valamennyi lapon fel kell tüntetnie, és a lapokat sorszámmal el kell látnia.

Használható segédeszközök:

- rajzeszközök (vonalzók, ceruzák, körző),
- negyedés centi,
- skicc pausz,
- papírvágó olló,
- papíragasztó.











Értékelési skála:

| | |
|----------------------|-----------------------|
| 81 – 100 pont | 5 (jeles) |
| 71 – 80 pont | 4 (jó) |
| 61 – 70 pont | 3 (közepes) |
| 51 – 60 pont | 2 (elégéséges) |
| 0 – 50 pont | 1 (elégtelen) |

A javítási-értékelési útmutatótól eltérő helyes megoldásokat is el kell fogadni.

A vizsgafeladat értékelési súlyaránya: **20%**.


1. feladat**Összesen: 10 pont****Rajzolja le az alábbi alapanyagok mikroszkópi képeit!**

| | keresztmetszeti | hosszanti |
|---------|---|--|
| gyapjú |  |  |
| len |  |  |
| pamut |  |  |
| selyem |  |  |
| viszkóz |  |  |

2. feladat**Összesen: 1 pont****Határozza meg a cérna fogalmát!**

.....

.....

3. feladat**Összesen: 3 pont****Határozza meg, milyen maximális h mérsékletet jelentenek a vasalás jelében lévő pontok!**


.....

.....

.....

4. feladat

Összesen: 4 pont

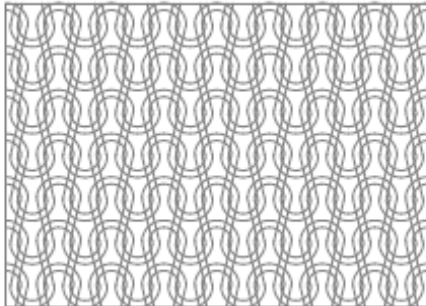
Jellemezze röviden a flanell szövetet!

.....
.....
.....
.....


5. feladat

Összesen: 8 pont


Húzza ki láthatóság szerint a sablonon a következő kötésmintákat




egyszínoldalas – színoldal



egyszínoldalas - fonákoldal



sima bordás kötés



bal-bal kötés

6. feladat

Összesen: 6 pont

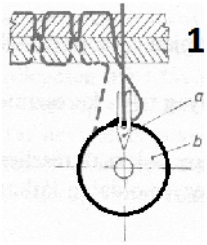
Írja le a vászonkötés jellemzőit!

.....
.....
.....
.....
.....
.....

7. feladat

Összesen: 10 pont

Írja le a huroköltés mozzanatait a megadott ábrákhoz!

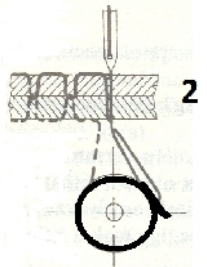


.....

.....

.....

.....

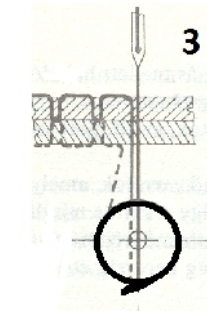


.....

.....

.....

.....

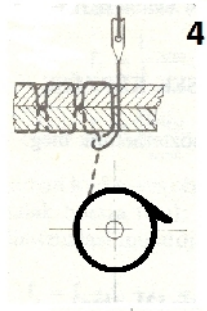


.....

.....

.....

.....

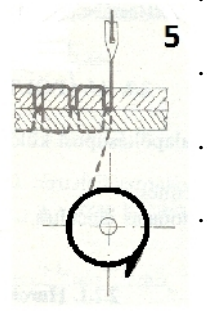


.....

.....

.....

.....



.....

.....

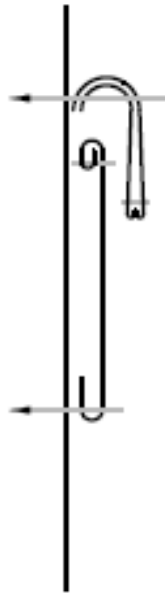
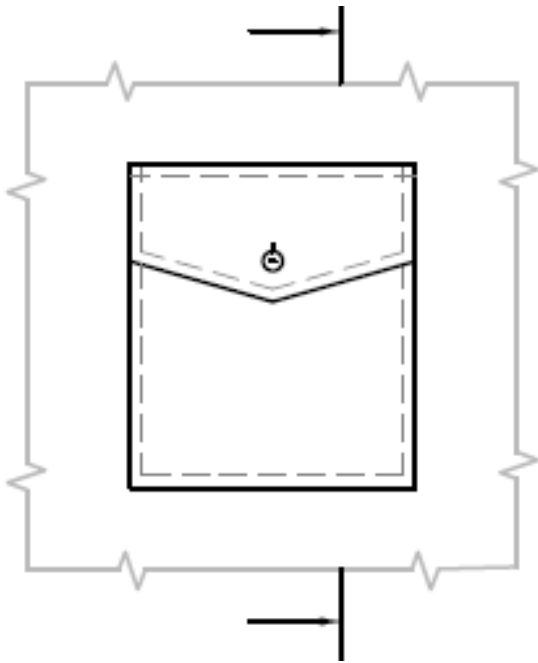
.....

.....

8. feladat

Összesen: 10 pont

Ismertesse részletesen az alábbi rajzon lévő zsebfedél és zseb elkészítésének technológiáját!



.....

.....

.....

.....

.....

.....

.....

.....

.....

.....

.....

.....

.....

.....

.....

.....

.....

.....

.....


.....

.....

9. feladat

Összesen: 5 pont

Ismertesse (rajz segítségével) a nyitott, páros, azonos irányú terítést!



.....

.....

10. feladat

Összesen: 10 pont

Ismertesse a külalak leírását az alábbi gyártmányrajznak és rajzolja le a kijelölt helyekre a 8 db metszetet!



A külalak leírása:

.....

.....

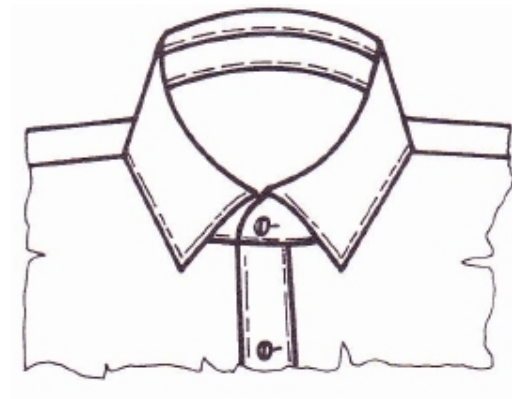
.....

11. feladat

Szerkessen különszabott állórészes inggallért a mellékelt fazonhoz!

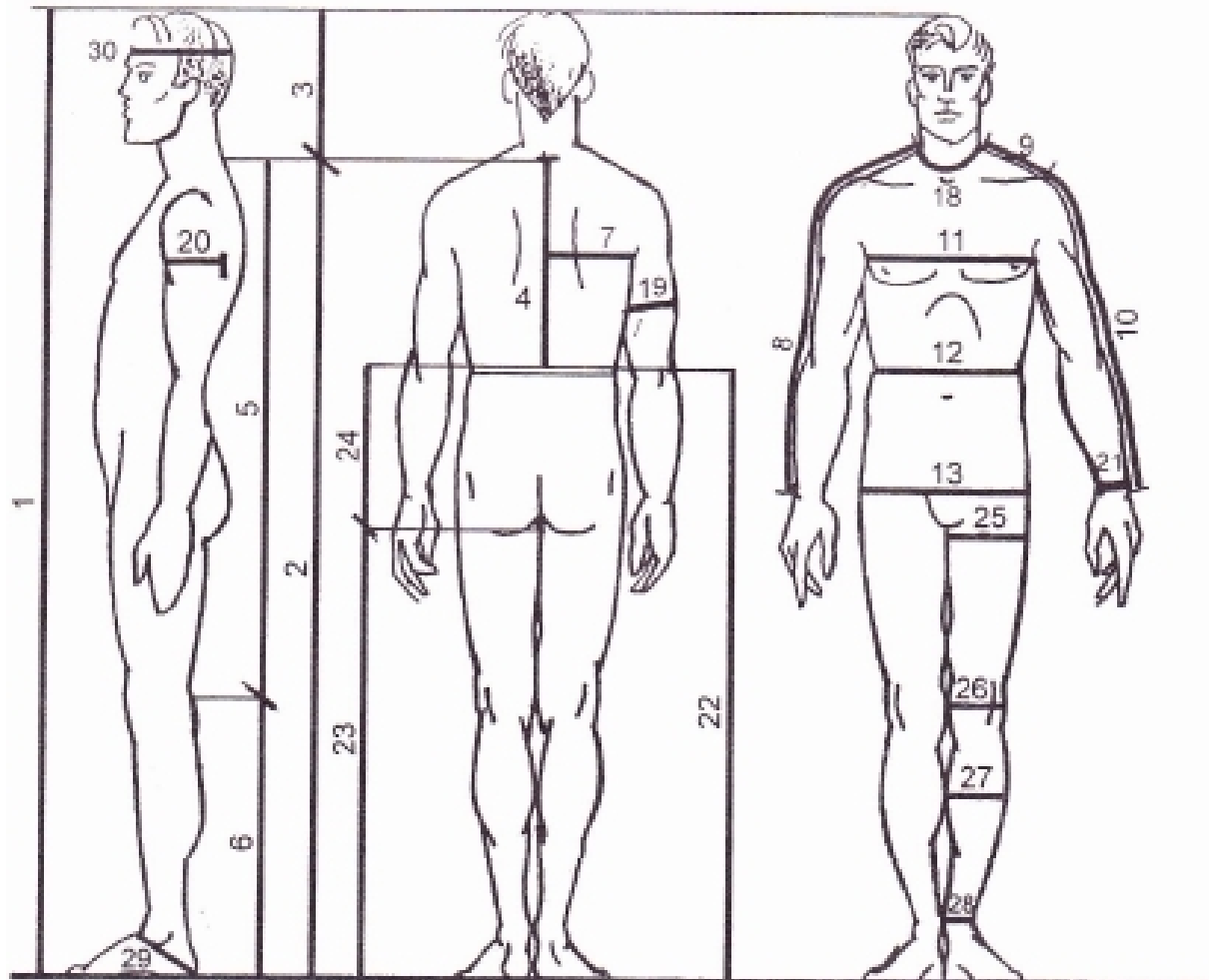
Ny = 41 cm

Összesen: 5 pont



12. feladat**Összesen: 6 pont**

Nevezze meg és írja le a mérési helyek számjeleit, amelyek szükségesek az alábbi cikkek modellezéséhez!






Férfiing:

.....

Férfinadrág:

.....

13. feladat**Összesen: 22 pont****Modellezze a mellékelt alapsablonok segítségével az alábbi fels részt! Határozza meg milyen alkatrészek kellenek a modell elkészítéséhez!**

A modellezés helye:

