

12/2013. (III. 29.) NFM rendelet (35/2016 (VIII. 31.) NFM rendelet által módosított) szakmai és vizsgakövetelménye alapján.

Szakképesítés, azonosító száma és megnevezése

32 525 01	Gumiabroncs-javító és kerékkiegyensúlyozó
-----------	---

Tájékoztató

A vizsgázó az első lapra írja fel a nevét!

Ha a vizsgafeladat kidolgozásához több lapot használ fel, a nevét valamennyi lapon fel kell tüntetnie, és a lapokat sorszámmal el kell látnia.

Használható segédeszköz: nincs

Értékelési skála:

81 – 100 pont	5 (jeles)
71 – 80 pont	4 (jó)
61 – 70 pont	3 (közepes)
51 – 60 pont	2 (elégés)
0 – 50 pont	1 (elégtelen)

A javítási-értékelési útmutatótól eltérő helyes megoldásokat is el kell fogadni.

A vizsgafeladat értékelési súlyaránya: 20%.

A tesztfeladatoknál aláhúzással, vagy bekarikázással jelölje a megfelelő választ!

1. feladat **Összesen: 2 pont**
Gumiabroncs-javító és kerékkiegyensúlyozó szakmunkás végzettséggel az 1/1990 KHVM rendelet szerint végezhet kerékbeállítást!
 Igaz/Hamis

2. feladat **Összesen: 2 pont**
Fékkjavítást végezhet-e az a személy, akinek egyetlen végzettsége gumiabroncs-javító és kerékkiegyensúlyozó szakmunkás?
 A. Nem
 B. Igen

3. feladat **Összesen: 2 pont**
Három év szakmai gyakorlattal és a szakiránynak megfelelő felsőfokú képesítéssel kell rendelkeznie annak, aki egy olyan gumiabroncs műhely szakmai irányítását és ellenőrzését végzi, ahol a dolgozói létszám 20 fő feletti.
 Igaz/Hamis

4. feladat **Összesen: 2 pont**
Magyarországon a gumiabroncs javító tevékenység végzéséhez előírt képesítéseket az 5/1990 KöHÉM rendelet határozza meg.
 Igaz/Hamis

5. feladat **Összesen: 2 pont**
A gumiabroncs javításakor, az oldatozásnál miért célszerű maszkot használni?

.....

6. feladat **Összesen: 3 pont**
Mit jelent a fotón a bekarikázott szám?



7. feladat **Összesen: 2 pont**
Szabad-e a gumis műhelyben a gumiabroncs sérülés javításához tapaszt készíteni?
 C. Nem
 D. Igen

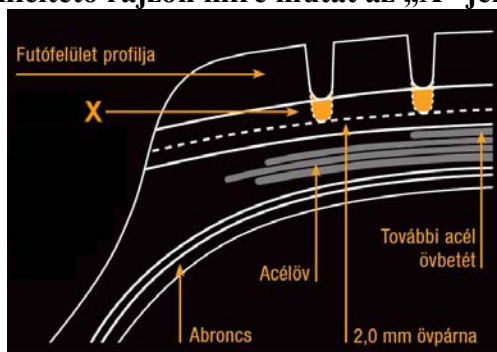
8. feladat**Összesen: 3 pont**

Melyik az a berendezés a gumiműhelyben, amelyet előírásban meghatározott módon 6 havonta kalibrálni kell?

- A. Kerékiegyensúlyozó berendezés.
- B. Gumiabroncsöltő és ellenőrző berendezés.
- C. Kerékszerelő-gép.

9. feladat**Összesen: 6 pont**

Az alábbi utánvágást szemléltető rajzon mire mutat az „X” jelű nyíl?



- A. A megmaradó gumirészre.
- B. Az utánvágható gumirészre.
- C. Az öv felett megmaradó gumivastagságra.

10. feladat**Összesen: 3 pont**

A melléklet rajz a Biztonsági adatlapon található, jelentése: Bőrmaró anyag.



Igaz/Hamis

11. feladat**Összesen: 2 pont**

A biztonsági adatlapon található, a veszélyes anyagok kockázataira utaló rövid, szabványosított információkat S-mondatoknak hívjuk.

Igaz/Hamis

12. feladat**Összesen: 4 pont**

Az alábbi fotón mit jelent a 156/150 szám a méretjel után?



- A. Az abroncs terhelési jelzőszáma, ahol 150 a szóló, a 156 az ikerszerelésre vonatkozik.
- B. Az abroncs terhelési jelzőszáma, ahol 156 a szóló, a 150 az ikerszerelésre vonatkozik.
- C. Terhelten 150 km/h sebességgel, terheletlenül 156 km/h sebességgel lehet használni az abroncsot.

13. feladat**Összesen: 4 pont**

A gumiabroncs javításához horzsolásakor keletkezett gumiport a kommunális hulladékgyűjtőbe kell dobni.

Igaz/Hamis

14. feladat**Összesen: 3 pont**

Könnyűfém kerekek kiegyensúlyozásához ragasztott súlyokat nem szabad használni.

Igaz/Hamis

15. feladat**Összesen: 3 pont**

Védőmaszkot kell használni a gumiabroncsok horzsolásakor, mert a keletkező gumipor belégzése káros az egészségre.

Igaz/Hamis

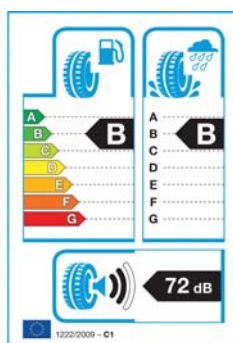
16. feladat**Összesen: 4 pont**

Mit jelent a gumiabroncs oldalfalán található felirat „REGROOVABLE”?

.....

17. feladat**Összesen: 4 pont**

Felújított gumiabroncsok értékesítésekor kell-e a lenti minta szerinti címkét alkalmazni?




A. Igen, kell

B. Nem kell, mert ilyen címke a felújított gumiabroncsokra nem alkalmazható

C. Jelenleg nem kell, de tervezik a bevezetését

18. feladat**Összesen: 4 pont**

A gumiabroncs oldalfalán található alábbi ábrával kapcsolatban melyik állítás igaz, melyik hamis?



A jelet csak olyan gumiabroncsra lehet feltenni, amelyet az ENSZ EGB117-es előírás szerint megvizsgáltak: Igaz/Hamis

A gumiabroncs hó abroncs: Igaz/Hamis

A gumiabroncsot csak havas úton szabad használni: Igaz/Hamis

A gumiabronccsal nem szabad 100 km/h-nál nagyobb sebességgel közlekedni: Igaz/Hamis

19. feladat**Összesen: 3 pont**

Az alábbi állítások közül melyik igaz, melyik hamis a fenti fotón bekarikázott részekre? (Helyes válaszonként 1 pont)

A bekarikázott részek a mintázat részei, nincs külön jelentésük: Igaz/Hamis

A bekarikázott részek a mintázatban lévő bordamerevítők: Igaz/Hamis

A bekarikázott részek a mintázatban lévő kopásjelzők: Igaz/Hamis

20. feladat**Összesen: 2 pont**

A gumiabroncsok javításához csak olyan gépi berendezések alkalmazhatók, amelyek biztonságtechnikai szempontból megfelelnek a vonatkozó előírásoknak.

Igaz/Hamis

21. feladat**Összesen: 5 pont**

A megemelt gépjárműre (gépjárműbe) fellépni, tartózkodni, munkát végezni csak meghatározott feltételek esetén szabad. Melyik igaz, melyik hamis? (Helyes válaszonként 1 pont)

A gépjármű nem billenhet, gördülhet vagy csúszhat el: Igaz/Hamis

Semmilyen körülmények között nem lehet a megemelt gépjárműre fellépni, azon tartózkodni, munkát végezni: Igaz/Hamis

A gépjárműre a fel- és lelépés balesetmentes legyen: Igaz/Hamis

1 m-nél nagyobb emelési magasság esetén a leesés ellen védő szerelőállásnak kell lennie: Igaz/Hamis

Bármekkora emelési magasság esetén a leesés ellen védő szerelőállásnak kell lennie: Igaz/Hamis

22. feladat**Összesen: 5 pont**

Munkahely kialakításával kapcsolatos állítások a Gépjárműjavítás Biztonsági Szabályzatában található (17/1993. (VII. 1.) KHVM rendelet). Melyik igaz, melyik hamis? (Helyes válaszonként 1 pont)

A gépjárműfenntartó munkáknál használt hordozható kézilámpákat védőüveggel és védőkosárral (vagy más törésbiztos védőberendezéssel) kell ellátni: Igaz/Hamis

A gépi mozgatású kapuknak, záródó mozgásuk közben, akadálnak ütközve azonnal le kell állniuk: Igaz/Hamis

Tisztán gépi működtetésű ajtók vészkijáratként is alkalmazhatók: Igaz/Hamis

A gépjárművek számára kijelölt közlekedési utakat legalább 1 m távolságra kell vezetni a személyközlekedést szolgáló ajtóktól és kapuktól, átjáróktól és lépcsőkijáratoktól:
Igaz/Hamis

Gépjárművek részére kijelölt közlekedési utak szélessége oldalanként legalább 2 m-rel haladja meg a várható legszélesebb gépjárművet: Igaz/Hamis

23. feladat**Összesen: 3 pont**

A telephelyen járművet csak olyan alkalmazott mozgathatja, akinek van az adott jármű kategóriájára érvényes gépjárművezetői engedélye és a munkáltatótól erre megbízást kapott.

Igaz/Hamis

24. feladat**Összesen: 4 pont**

A gépjárműre felszerelt többrészes kerékpánton lévő gumibroncs teljes levegővesztése esetén, levegővel való újra feltöltése leszerelt állapotban, védőeszköz alkalmazásával végezhető.

Igaz/Hamis

25. feladat**Összesen: 4 pont**

Van-e szabály arra, hogy személyabroncs kerékpántra szerelésekor a perem felugrasztását mekkora nyomáson lehet végezni?

Van/Nincs

26. feladat**Összesen: 2 pont**

A járműfenntartó tevékenység végzésére irányuló szándékot a közlekedési hatóság részére be kell jelenteni.

Igaz/Hamis

27. feladat**Összesen: 2 pont**

A gumibroncs műhelyben nem lehet minőségbiztosítást alkalmazni.

Igaz/Hamis

28. feladat**Összesen: 3 pont**

Mitől függ a műhelyben kötelezően elhelyezendő kézi tűzoltó készülékek száma?

- A. Nincs befolyásoló tényező.
- B. A műhely tűzveszélyességi osztályától és az alapterületétől függ.
- C. A műhely tűzveszélyességi osztályától függ.

29. feladat**Összesen: 3 pont**

Milyen bizonylatot kell a vevő részére fizetéskor kiállítania?

- A. Amennyiben a vevő nem kéri, nem kell semmilyen bizonylatot kiállítani.
- B. Számlát, vagy nyugtát kell kiállítani.
- C. Számlát is és nyugtát is ki kell állítani.

