

A 27/2012 (VIII. 27.) NGM rendelet (12/2013. (III. 28.) NGM rendelet által módosított) szakmai és vizsgakövetelménye alapján.

Szakképesítés, azonosító száma és megnevezése

21 542 02	Textiltermék-összeállító
-----------	--------------------------

Tájékoztató

A vizsgázó az első lapra írja fel a nevét!

Ha a vizsgafeladat kidolgozásához több lapot használ fel, a nevét valamennyi lapon fel kell tüntetnie, és a lapokat sorszámmal el kell látnia.

**Értékelési skála:**

<b>81 – 100 pont</b>	<b>5 (jeles)</b>
<b>71 – 80 pont</b>	<b>4 (jó)</b>
<b>61 – 70 pont</b>	<b>3 (közepes)</b>
<b>51 – 60 pont</b>	<b>2 (elégéséges)</b>
<b>0 – 50 pont</b>	<b>1 (elégtelen)</b>

**A javítási-értékelési útmutatótól eltérő helyes megoldásokat is el kell fogadni.**

**A vizsgafeladat értékelési súlyaránya: 30%.**

**1. feladat****Összesen: 8 pont**


a) Egészítse ki az alábbi hiányos mondatot!


A pamut a \_\_\_\_\_ termése.

b) Nevezzen meg két állati eredetű szálanyagot!

\_\_\_\_\_

c) Az alábbi felsorolásban, húzza alá annak a szálanyagnak a nevét, amelyik nem illik a felsorolásba! Csak egy anyagot jelöljön meg!*poliészter, poliamid, viszkóz, poliuretán, PVC***2. feladat****Összesen: 6 pont**A textilipari szaknyelvben a *cérna* két vagy több fonal összesodrásával létrehozott termék. Válaszoljon a kérdésekre!

	<p>a) Hány ágú cérna látható a rajzon? _____</p> <p>b) Mit jelöl az ábrán az S és a Z betű? _____</p> <p>c) Milyen számmal jellemzik a fonalak, cérnák „vastagságát”? _____</p>
--	---

**3. feladat****Összesen: 2 pont**a) Rajzolja be a vászonkötés szövet hiányzó kötésponjtját az ábrába!

b) Igaz-e az alábbi állítás? Jelölje aláhúzással!

A vászonkötés a legszorosabb kötéstípus, mintaeleme 2×2 fonalas.

IGAZ

HAMIS

**4. feladat****Összesen: 10 pont****Soroljon fel a kötött kelmék szerkezetéből adódó tulajdonságok közül ötöt!**

A kötött kelmék szerkezeti adottságaiknál fogva általában:

- 
- 
- 
- 
- 

**5. feladat****Összesen: 3 pont****Melyik megadott alapanyagból készítené el a következő termékeket? Írja az ábrák alá a javasolt alapanyagot! Az alábbi felsorolásból, mindent termékhez egy anyagot válasszon, írja az anyag nevét a kép alá!***szatén, kordbársony, mész, rme, damaszt, karton, csipke, batiszt, filc*

\_\_\_\_\_

\_\_\_\_\_

\_\_\_\_\_

**6. feladat****Összesen: 6 pont****Nevezzen meg három ruházatórű kelléket!**

- 
- 
- 

**7. feladat****Összesen: 6 pont****Írja az ábrák mellé a textíliák kezelésére vonatkozó utasításokat!**

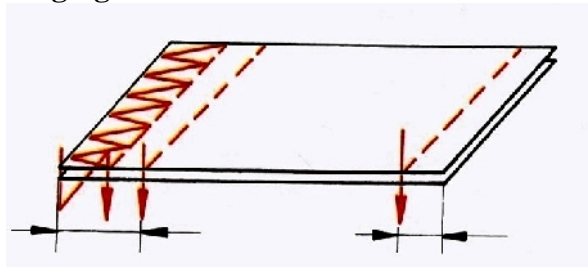
\_\_\_\_\_



\_\_\_\_\_

**8. feladat****Összesen: 8 pont**

Az alábbi ábra a varrasszélesség meghatározásához nyújt segítséget. Írja le a varrasszélesség pontos megfogalmazását!




---



---



---



---

**9. feladat****Összesen: 6 pont**

Állítsa párba a megadott gépi öltéstípusokat a jellemző felhasználási területükkel! Írja a felhasználási terület betűjelét az öltéstípus neve mellé a vonalra!

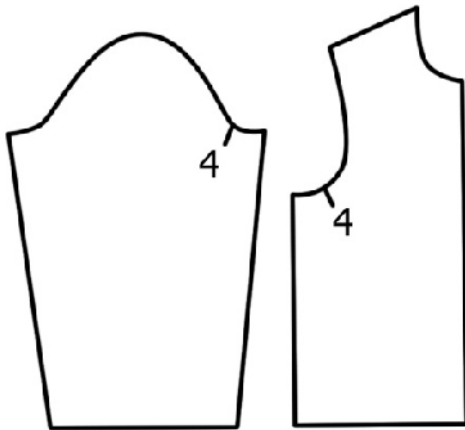
- a. gépi huroköltés \_\_\_\_\_
- b. gépi egyfonalas láncöltés \_\_\_\_\_
- c. gépi két- vagy többfonalas láncöltés \_\_\_\_\_

- A gépi fércelés
- B szabott szélek tisztázása
- C szövetek végleges összevarrása

**10. feladat****Összesen: 6 pont**

Írja le a gyártmányrajzzal megadott n. i. top három külalaki jellemzőjét!

	<ol style="list-style-type: none"> <li>1.</li> <li>2.</li> <li>3.</li> </ol>
--	--

**11. feladat****Összesen: 5 pont****a) Mi a neve a két alkatrészen a 4 számmal jelzett jelölési módnak?**

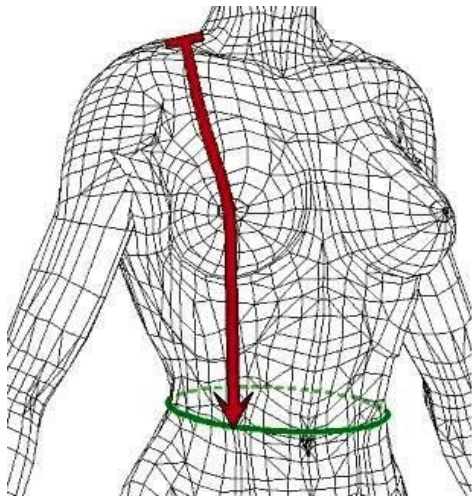
Az alkalmazott jelölési mód: \_\_\_\_\_

**b) Írja le milyen útmutatást ad a termék készítéséhez a varrodai megmunkálás során a fenti jelölés!**


---



---


**12. feladat****Összesen: 14 pont****a) Nevezze meg melyik testméret méretvételezése látható az alábbi ábrán!**


---

**b) Nevezze meg a szoknya alapszerkesztésén a számokkal jelölt szerkesztési alapvonalakat és méretet!**

<div style="text-align: center; border-bottom: 1px solid black; margin-bottom: 5px;">derék segédvonal</div> <div style="display: flex; justify-content: space-between; align-items: center;"> <div style="border: 1px solid black; width: 80%; height: 150px; position: relative;"> <div style="position: absolute; top: 0; left: 0; width: 100%; height: 100%; background-color: #ffffcc;"></div> <div style="position: absolute; top: 10%; left: 10%; font-size: 48px; font-weight: bold;">1</div> <div style="position: absolute; top: 10%; right: 10%; font-size: 48px; font-weight: bold;">2</div> <div style="position: absolute; top: 50%; left: 50%; transform: translate(-50%, -50%); font-size: 20px; transform: rotate(90deg);">oldal segédvonal</div> </div> <div style="border-left: 1px solid black; border-right: 1px solid black; width: 10%; text-align: center; font-size: 20px; font-weight: bold;">3</div> </div> <div style="margin-top: 5px; text-align: center;">csípómélység vonal</div> <div style="margin-top: 5px; text-align: center; border-bottom: 1px solid black;">szoknya hossza vonal</div> <div style="margin-top: 5px; text-align: center; border-bottom: 1px solid black;">szoknya bőség</div>	<ol style="list-style-type: none"> <li>1.</li> <li>2.</li> <li>3.</li> </ol>
---	--

c) Az alábbi ábra egy részletet mutat be a n i szoknya szerkesztéséb l. Figyelje meg a rajzot és írja le, hogyan kell kialakítani a szoknya oldalvonalát a derék- és a csípő vonal között!

	<hr/> <hr/> <hr/> <hr/> <hr/> <hr/> <hr/> <hr/> <hr/> <hr/>
---	---

**13. feladat****Összesen: 9 pont****Írjon 1-1 példát arra, hogy milyen okai lehetnek az alábbi vasalási hibáknak!**

A vasalási hiba	A vasalási hiba oka
fényesedés	
nedves munkadarabok	
a ruhadarab formatartása nem kielégít	

**14. feladat****Összesen: 11 pont****a) Írja le milyen munkafolyamat a gyártás-el készítés során végzett felfektetés és mi a célja!**


---



---



---

**b) Egészítse ki alapanyagok bevizsgálásának m veleteit!**

- letekerceselés,
- szétnyitás (ha szükséges),
- 
- szélességmérés
- 
- hibák bejelölése
- 
- adatok feljegyzése