

A 27/2012 (VIII. 27.) NGM rendelet (12/2013. (III. 28.) NGM rendelet által módosított) szakmai és vizsgakövetelménye alapján.

Szakképesítés, azonosító száma és megnevezése

| | |
|-----------|--------------------------|
| 21 542 02 | Textiltermék-összeállító |
|-----------|--------------------------|

Tájékoztató

A vizsgázó az első lapra írja fel a nevét!

Ha a vizsgafeladat kidolgozásához több lapot használ fel, a nevét valamennyi lapon fel kell tüntetnie, és a lapokat sorszámmal el kell látnia.

Értékelési skála:

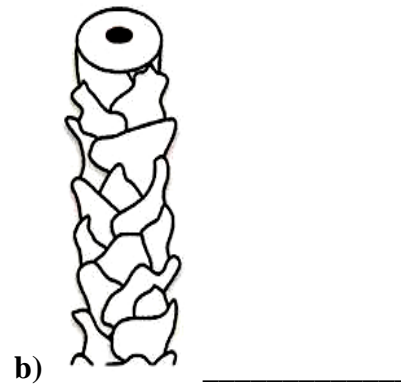
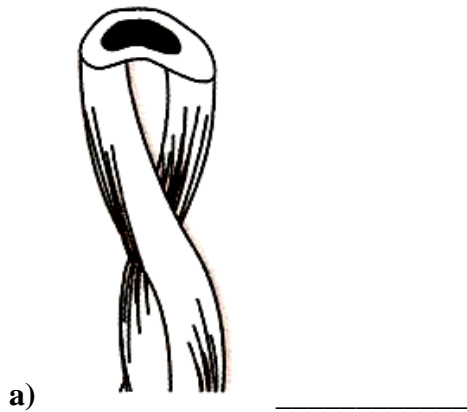
| | |
|----------------------|-----------------------|
| 81 – 100 pont | 5 (jeles) |
| 71 – 80 pont | 4 (jó) |
| 61 – 70 pont | 3 (közepes) |
| 51 – 60 pont | 2 (elégéséges) |
| 0 – 50 pont | 1 (elégtelen) |

A javítási-értékelési útmutatótól eltérő helyes megoldásokat is el kell fogadni.

A vizsgafeladat értékelési súlyaránya: 30%.

1. feladat**Összesen: 4 pont**

Írja az ábrák mellé, melyik elemi szál mikroszkópi képét látja a rajzon!

**2. feladat****Összesen: 6 pont**

Nevezzen meg három szintetikus eredetű szálanyagot!

—
—
—

3. feladat**Összesen: 4 pont**

Égészítse ki a megfelelő kifejezésekkel az alábbi hiányos meghatározást!

A fonál: a párhuzamosan elrendezett _____ összesodrásával el állított hengeres test, mely elvileg _____ hosszúságú lehet.

4. feladat**Összesen: 9 pont**


Soroljon fel a varrócérnákkal szemben támasztott követelmények közül hármat!

—
—
—

5. feladat**Összesen: 12 pont**

a) Nevezze meg a három alapkötést!

b) Rajzolja le az alapkötések hiányzó mintaelemeit!

| Az alapkötés neve | Az alapkötés mintaeleme |
|-------------------|---|
| 1. | |
| 2. | |
| 3. |  |

6. feladat

Összesen: 10 pont

Soroljon fel a bordás kötés kelme tulajdonságai közül ötöt!

-
-
-
-
-

7. feladat**Összesen: 6 pont**

Írja le melyik szálanyagánál, és mivel végzik az alábbi kikészít m veleteket! Mi a célja ezeknek a m veleteknek?

Mercerezés:

Karbonizálás:

8. feladat**Összesen: 5 pont**

Az alábbiakban textíliák kereskedelmi elnevezését adtuk meg.

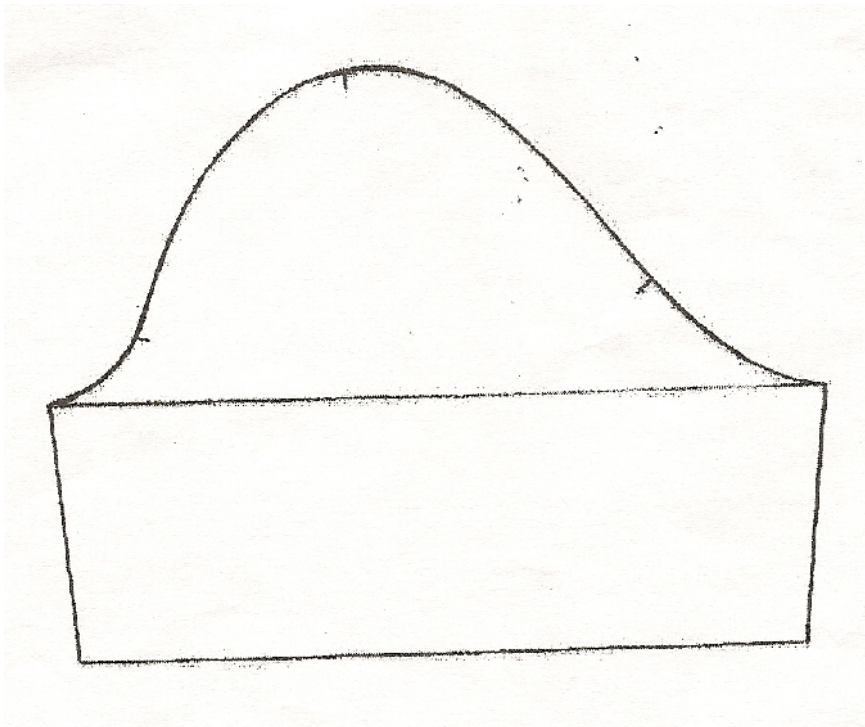
Írjon a megnevezések mellé P bet t, ha pamutból készül, és G bet t, ha gyapjúból készül a megnevezett textília!

| | |
|----------|--|
| Karton | |
| Tweed | |
| Posztó | |
| Gabardin | |
| Frottír | |

9. feladat**Összesen: 8 pont**

Végezze el a puffos ujj modellezését a megadott alapmintán!





10. feladat

Összesen: 6 pont

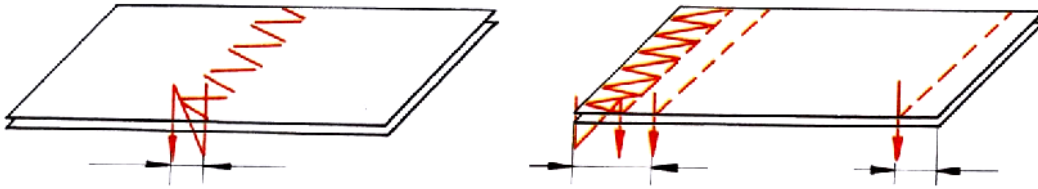
Nevezze meg a gépi alapöltések egy-egy felhasználási (alkalmazási) területét!

| Megnevezése | Felhasználási területe |
|----------------------|------------------------|
| huroköltés | |
| egyfonalas láncöltés | |
| kétfonalas láncöltés | |

11. feladat

Összesen: 4 pont

Nevezze meg a rajzzal bemutatott méretjellemzőket!



12. feladat

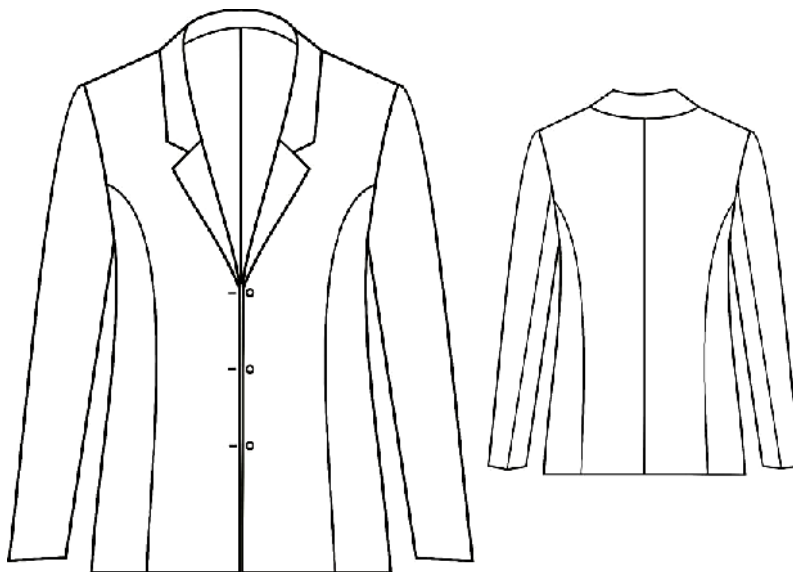
Összesen: 6 pont

Soroljon fel a gyártmány műszaki leírásának tartalmi elemeiből hármát!

—
—
—

13. feladat

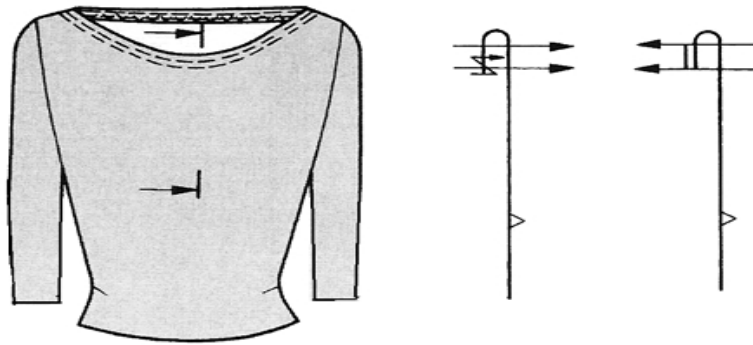
Összesen: 8 pont

Írjon le a gyártmányrajzon látható női blézer külső jellemzőiből négyet!

—
—
—
—

14. feladat**Összesen: 6 pont**

Írja le, milyen feltételek megléte mellett (milyen fazon, milyen alapanyag, stb.) javasolná az alábbi – gyártmányrajzzal és síkmetszetekkel megadott - nyakkör-eldolgozási módokat!



—
—

15. feladat**Összesen: 6 pont**

Nevezzen meg 1-1 el készít , gyártásközi és befejez vasalási m veletet!

El készít vasalási m velet:

—

Gyártásközi vasalási m velet:

—

Befejez vasalási m velet:

—