

A 27/2012 (VIII. 27.) NGM rendelet (12/2013. (III. 28.) NGM rendelet által módosított) szakmai és vizsgakövetelménye alapján.

Szakképesítés, azonosító száma és megnevezése

21 542 02	Textiltermék-összeállító
-----------	--------------------------

Tájékoztató

A vizsgázó az első lapra írja fel a nevét!

Ha a vizsgafeladat kidolgozásához több lapot használ fel, a nevét valamennyi lapon fel kell tüntetnie, és a lapokat sorszámmal el kell látnia.

**Értékelési skála:**

<b>81 – 100 pont</b>	<b>5 (jeles)</b>
<b>71 – 80 pont</b>	<b>4 (jó)</b>
<b>61 – 70 pont</b>	<b>3 (közepes)</b>
<b>51 – 60 pont</b>	<b>2 (elégéséges)</b>
<b>0 – 50 pont</b>	<b>1 (elégtelen)</b>

**A javítási-értékelési útmutatótól eltérő helyes megoldásokat is el kell fogadni.**

**A vizsgafeladat értékelési súlyaránya: 30%.**

**1. feladat****Összesen: 9 pont****Töltse ki az alábbi táblázatot! Írja az egyes szálanyagok nevét a megfelelő csoportba!**


pamut, fémszál, üvegszál, juta, poliészter, kagylóselyem, gyapjú, kender, alpaka

**Minden megadott szálanyag csak az egyik csoportba sorolható be!**

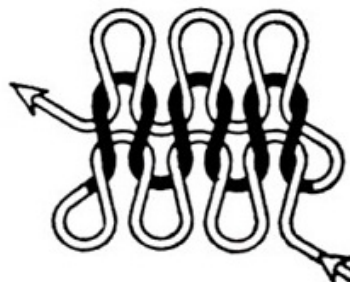
Növényi eredet szálanyagok	Állati eredet szálanyagok	Mesterséges szálanyagok

**2. feladat****Összesen: 8 pont****Nevezze meg a kötésrajzzal megadott alapkötést!**

\_\_\_\_\_

**Ismertesse az ábrázolt alapkötés három tulajdonságát!**

—  
—  
—

**3. feladat****Összesen: 2 pont****Jelölje be a vetülékrendszer alapkötés rajzán a szemsor- és a szemoszlop (szempálca) irányt!**

**4. feladat****Összesen: 5 pont**Soroljon fel öt, olyan terméket, melyeket kötött-hurkolt anyagból készíthetnek!

—  
—  
—  
—  
—

**5. feladat****Összesen: 4 pont**Melyik megadott alapanyagból készítené el a következő termékeket? Írja a megadott termék mellé a táblázatba, a javasolt alapanyagot! Minden anyag csak egyszer szerepeljen!

szatén, plüss, halszálkás szövet, batiszt


Termék neve	Alapanyag neve
N i blúz	
Bébi rugdalózó	
Férfi öltöny	
N i estélyi ruha	

**6. feladat****Összesen: 10 pont**Soroljon fel öt feladatot a ruhaipari gyártásel készítés munkafolyamatából!

—  
—  
—  
—  
—

**7. feladat****Összesen: 8 pont**

a) Nevezze meg, melyik fontos méret, méretvételezését mutatja be az ábra! Írja a méret nevét a rajz mellé!




---

b) Írja le, hogyan kell szabályosan elvégezni az ábrán bemutatott méretvételt!

---



---



---



---

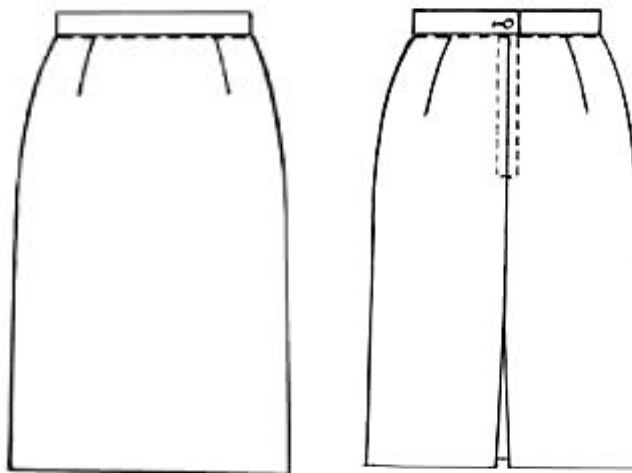


---

**8. feladat**

**Összesen: 14 pont**

A m szaki dokumentációban gyakran alkalmazunk különböző rajzokat.



a) Egészítse ki, a rajzi ábrázolásra vonatkozó hiányos mondatot a megfelelő szavakkal!

Az ábrán egy női szoknya \_\_\_\_\_ látható. A rajz méretarányosan, \_\_\_\_\_ és hátulnézetben ábrázolja a szoknyát.

b) Írjon le a bemutatott női szoknyáról hat külalaki jellemzőt a rajz alapján!

---



---



---



---



---

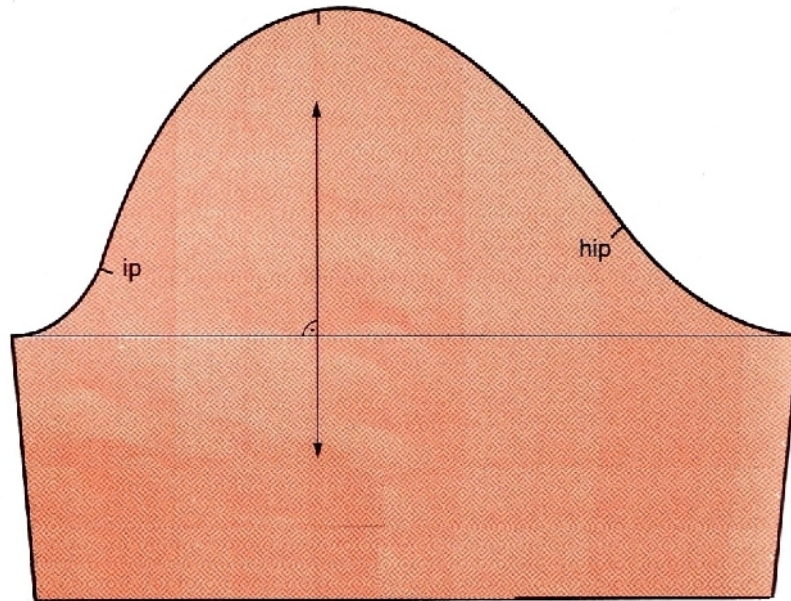


---

**9. feladat****Összesen: 10 pont**

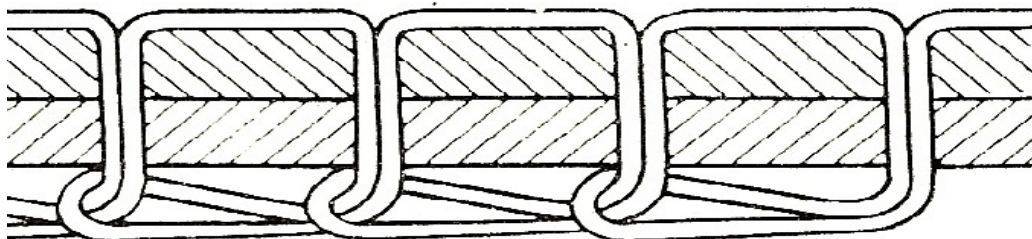
Végezze el a valódi hajtókás rövid ujj kialakítását (varrásszélesség hozzáadása nélkül)!  
A rászabott hajtóka kialakításhoz alkalmazza a mellékelt ujj mintát és a szerkesztési adatokat!

- Hajtásszélesség: 3 cm
- Aljafelhajtás: 2 cm



**10. feladat****Összesen: 5 pont****Döntse el a következő állításokról, hogy melyik az IGAZ és melyik a HAMIS!****Válaszát jelölje I betűvel, ha igaz vagy H betűvel, ha hamis az állítás a táblázatban!**

Az alkatrészbrajz, a ruházati cikkek alkatrészeinek rajza a használatnak, viselésnek megfelelően elhelyezve.	
A gépi huroköltés varrat könnyen bontható, ezért általában csak ideiglenes összevarráásra használják.	
Sorozatgyártásban a ruházati cikkek alkatrészeit egyedileg szabják ki.	
A szegés az anyagok szabott szélének eltisztázása varrattal, behajtéssal, pánntal stb. Célja a szabott szél foszlásának megakadályozása.	
A varrógépt kiválasztásához fontos a varrandó alapanyag tulajdonságainak figyelembe vétele.	

**11. feladat****Összesen: 10 pont****Nevezze meg a képen látható varrat öltéstípusát! Írja le a varrat három jellemző tulajdonságát, és alkalmazását!**

A képen a/az \_\_\_\_\_ varrat látható.

Jellemzői:

—  
—  
—

Alkalmazása: \_\_\_\_\_

**12. feladat****Összesen: 3 pont**

Az Ön által készített, a munkadarabhoz kapott műszaki leírásban a következő utasítás van:

Az öltés r ség: 50 öltés/100 mm**Milyen hosszúságú öltéseket kell készítenie? \_\_\_\_\_**

**13. feladat****Összesen: 10 pont**

Az alábbi ábrason a textíliák kezelésére vonatkozó elírások általános jelképei láthatók (piktogramok). **Írja az egyes ábrák mellé, milyen tevékenységek jelölésére alkalmazzák!**

**14. feladat****Összesen: 2 pont**

Az alábbi felsorolásban húzza alá azt a két kifejezést, melyek **NEM RUHÁZATI KELLÉKEK** nevei!

gomb, cérna, gombost , húzózár, csipke, férccérna, vállpárna, patent, tép zár