

A 10/2007 (II. 27.) SzMM rendelettel módosított 1/2006 (II. 17.) OM rendelet Országos Képzési Jegyzékről és az Országos Képzési Jegyzékbe történő felvétel és törlés eljárási rendjéről alapján.

Szakképesítés, szakképesítés-elágazás, rész-szakképesítés, szakképesítés-ráépülés azonosító száma és megnevezése, valamint a kapcsolódó szakképesítés megnevezése:

54 544 02 0010 54 02	Gázipari technikus	Energiatermelő és -hasznosító technikus
----------------------	--------------------	---

Tájékoztató

A vizsgázó az első lapra írja fel a nevét!

Ha a vizsgafeladat kidolgozásához több lapot használ fel, a nevét valamennyi lapon fel kell tüntetnie, és a lapokat sorszámmal el kell látnia.

## Értékelés

---

**Összesen: 50 pont**

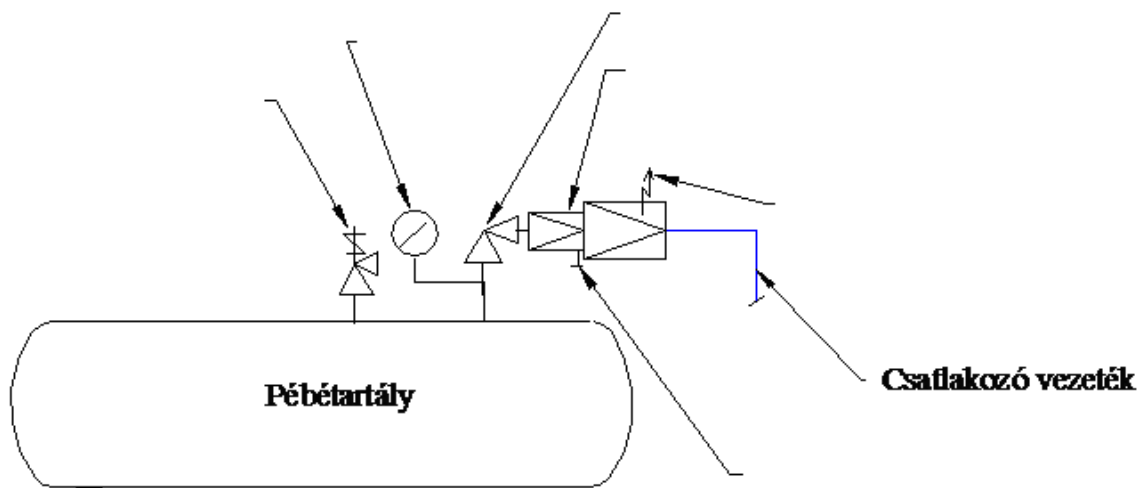
100% = 50 pont

A VIZSGAFELADAT MEGOLDÁSÁRA JAVASOLT %-OS EREDMÉNY:

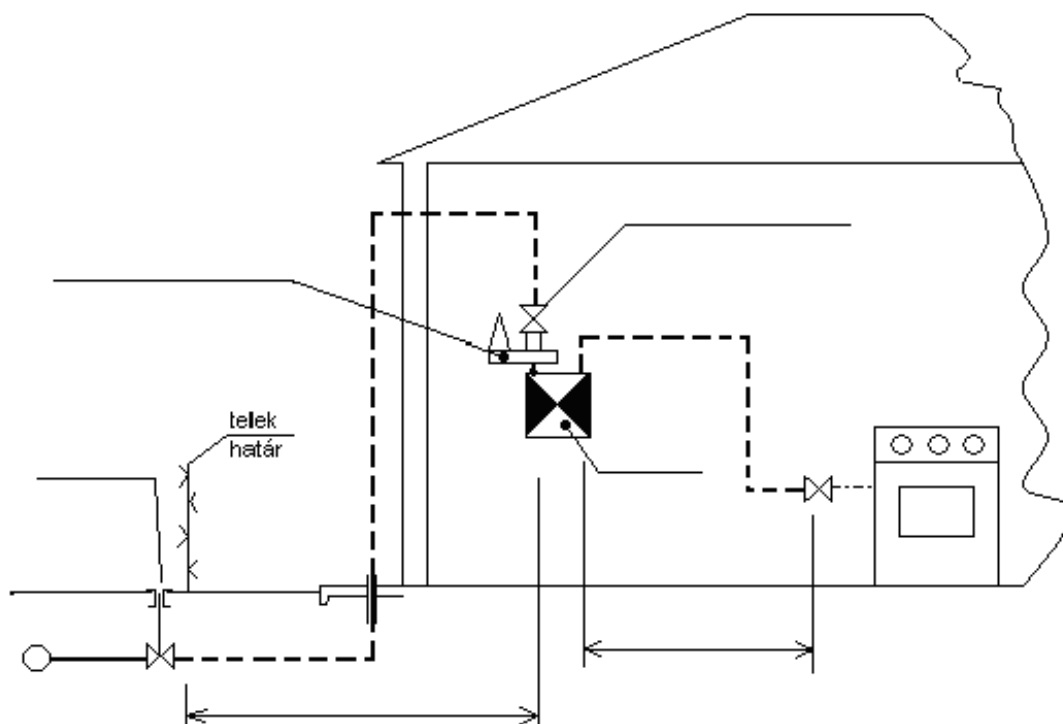
**EBBEN A VIZSGARÉSZBEN A VIZSGAFELADAT ARÁNYA 20%.**

**1. feladat****Összesen: 12 pont**

Nevezze meg a rajzon látható PB-gáztartályra szerelt csatlakozóvezeték szerelvényeit!  
Minden helyes megnevezés 2 pont.

**2. feladat****Összesen: 12 pont**

Nevezze meg a rajzon látható növelt kisnyomású gázvezetési rendszer részeit!  
Minden helyes megnevezés 2 pont.

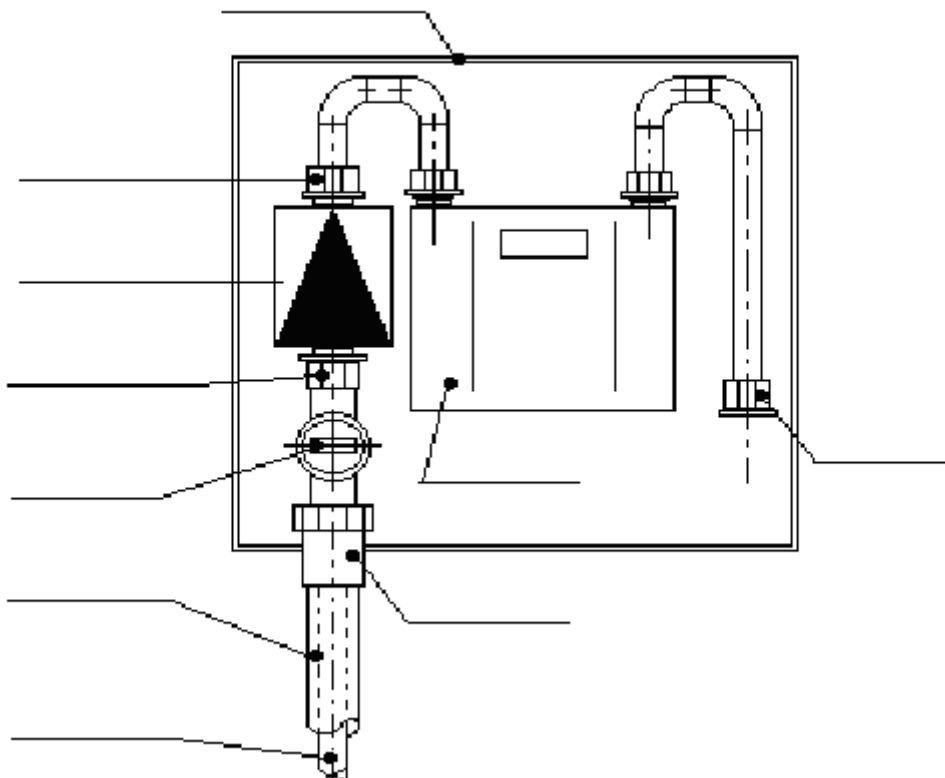


**3. feladat**

Nevezze meg a rajzon látható gázmérőkötés részeit!

Minden helyes megnevezés 1 pont.

**Összesen: 10 pont**

**4. feladat**

Rajzoljon 4 féle bekötési módot a gáztűzhely gázellátására!

Nevezze meg az alkalmazott készülékbekötés típusait!

Nevezze meg a bekötéshez szükséges szerelvényeket!

**Összesen: 16 pont**

8 pont

4 pont

4 pont