

Az Országos Képzési Jegyzékről és az Országos Képzési Jegyzékbe történő felvétel és törlés eljárási rendjéről szóló 133/2010. (IV. 22.) Korm. rendelet alapján.

Szakképesítés, szakképesítés-elágazás, rész-szakképesítés, szakképesítés-ráépülés azonosító száma és megnevezése, valamint a kapcsolódó szakképesítés megnevezése:

33 543 01 1000 00 00	Bútorasztalos	Bútorasztalos
31 582 08 1000 00 00	Épületasztalos	Épületasztalos
54 543 02 0010 54 01	Bútoripari technikus	Fa- és bútoripari technikus
54 543 02 0010 54 02	Fafeldolgozó technikus	Fa- és bútoripari technikus

Tájékoztató

A vizsgázó az első lapra írja fel a nevét!

Ha a vizsgafeladat kidolgozásához több lapot használ fel, a nevét valamennyi lapon fel kell tüntetnie, és a lapokat sorszámokkal el kell látnia.

### Értékelés

---

**Összesen: 100 pont**

100% = 100 pont

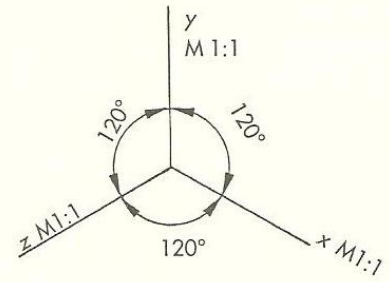
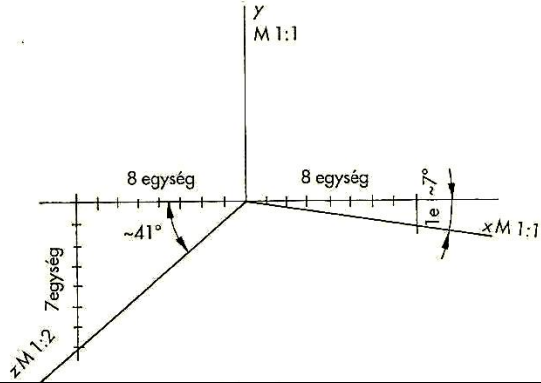
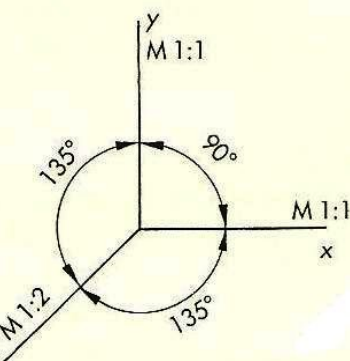
A VIZSGAFELADAT MEGOLDÁSÁRA JAVASOLT %-OS EREDMÉNY:

**EBBEN A VIZSGARÉSZBEN A VIZSGAFELADAT ARÁNYA 40%.**

<b>1. feladat</b>	<b>Összesen: 6 pont</b>
-------------------	-------------------------

A térbeli ábrázolás axonometria segítségével lehetséges. Párosítsa össze a tengelytípusokat a megnevezésekkel! Írja a rajzok melletti négyzetekbe a megfelelő betűket!

- A: frontális (kavallier) axonometria
- B: kétméretű (dimetrikus) axonometria
- C: egyméretű (izometrikus) axonometria

1.		
2.		
3.		

<b>2. feladat</b>	<b>Összesen: 24 pont</b>
-------------------	--------------------------

Rajzoljon le szabadkézzel egy egyes ollós csapozású sarokkötést a frontális axonometria szabályai szerint! Az ábra legyen arányos, szemléletes, és jelölje a faanyag szálirányát!

<b>3. feladat</b>	<b>Összesen: 70 pont</b>
-------------------	--------------------------

A rajzon egy sarokba illeszthető tv-polc vonalas vázlatát láthatja elől-, felül- és oldalnézetben, melyet egy megrendelő hozott Önhöz, azzal a kéréssel, hogy mielőtt megrendelné, szeretne egy látványtervet látni a polcra. Készítsen egyméretű axonometrikus rajzot a termékről, választott méretarányban! A tv-polc lapszerkezetű, az anyagára vonatkozóan nem kell utalásokat tenni a rajzon. A rajz célja a szemléletes bemutatás, méretezni nem kell. Ügyeljen az arányokra!

