

Az Országos Képzési Jegyzékről és az Országos Képzési Jegyzékbe történő felvétel és törlés eljárási rendjéről szóló 133/2010. (IV. 22.) Korm. rendelet alapján.

Szakképesítés, szakképesítés-elágazás, rész-szakképesítés, szakképesítés-ráépülés azonosító száma és megnevezése, valamint a kapcsolódó szakképesítés megnevezése:

33 543 01 1000 00 00	Bútorasztalos	Bútorasztalos
54 543 02 0010 54 01	Bútoripari technikus	Fa- és bútoripari technikus

Tájékoztató

A vizsgázó az első lapra írja fel a nevét!

Ha a vizsgafeladat kidolgozásához több lapot használ fel, a nevét valamennyi lapon fel kell tüntetnie, és a lapokat sorszámokkal el kell látnia.

Értékelés

Összesen: 100 pont



100% = 100 pont



A VIZSGAFELADAT MEGOLDÁSÁRA JAVASOLT %-OS EREDMÉNY:

EBBEN A VIZSGARÉSZBEN A VIZSGAFELADAT ARÁNYA 60%.

1. feladat**Összesen: 16 pont**

Nevezze meg a bútorstílusokat! Írja a képek melletti négyzetbe az ábrákon fellelhető stílusjegyek alapján meghatározható jellemző stílust!

1.		<p>.....</p>
2.		<p>.....</p>

3.		<p>.....</p>
4.		<p>.....</p>

2. feladat

Összesen: 21 pont

Írja le a gótikus bútorstílus fő jellemzőit!

3. feladat	Összesen: 39 pont
-------------------	--------------------------

Vállalkozóként nagy mennyiségű tölörfa konyhaszekrény ajtók gyártására kapott megbízást. A termék keretbetétes szerkezetű, úgynevezett összerakókéssel készül. A felületkezeléssel nem Önt bízták meg. Állítsa össze a termék elkészítésének technológiai sorrendjét! Válasszon megmunkálógépet az adott műveletekhez! (Az alapanyag szélezett fenyő fűrészáru.)

	Művelet	Gépszükséglet
1.		
2.		
3.		
4.		
5.		
6.		
7.		
8.		
9.		
10.		
11.		
12.		
13.		

4. feladat	Összesen: 24 pont
-------------------	--------------------------

Mutassa be a csapozó marógépet, sorolja fel a gépen végezhető műveleteket!