

Az Országos Képzési Jegyzékről és az Országos Képzési Jegyzékbe történő felvétel és törlés eljárási rendjéről szóló 133/2010. (IV. 22.) Korm. rendelet alapján.

Szakképesítés, szakképesítés-elágazás, rész-szakképesítés, szakképesítés-ráépülés azonosító száma és megnevezése, valamint a kapcsolódó szakképesítés megnevezése:

33 542 05 0010 33 01	Csecsemő- és gyermekruha-készítő	Szabó
33 542 05 0010 33 02	Férfiszabó	Szabó
33 542 05 0010 33 03	Női szabó	Szabó
33 542 05 0100 21 01	Fehérnemű-készítő	Szabó
33 542 05 0100 21 02	Lakástextil-készítő	Szabó
33 542 05 0100 21 03	Munkaruha- és védőruha-készítő	Szabó

Tájékoztató

A vizsgázó az első lapra írja fel a nevét!

Ha a vizsgafeladat kidolgozásához több lapot használ fel, a nevét valamennyi lapon fel kell tüntetnie, és a lapokat sorszámokkal el kell látnia.

Értékelés

Összesen: 50 pont

100% = 50 pont

A VIZSGAFELADAT MEGOLDÁSÁRA JAVASOLT %-OS EREDMÉNY:

EBBEN A VIZSGARÉSZBEN A VIZSGAFELADAT ARÁNYA 50%.

1. feladat**Összesen: 8 pont**

Az alábbiakban a ruhaipari gyártástechnológiában alkalmazott ábrázolási módokat soroltuk fel.

- A modellrajz
- B gyártmányrajz
- C részletrajz
- D alkatrészrajz
- E műveleti rajz
- F síkmetszet
- G axonometrikus metszet

Válasszon az alábbi alkalmazásokhoz 1-1 megfelelő ábrázolási módot!

Írja az ábrázolási mód betűjelét a vonalra!

- a) Bélés rögzítési módjának megadása: _____
- b) Fonaliránytól való eltérés megadása: _____
- c) A modell alakon történő bemutatása a tervező egyéni stílusában: _____
- d) Az alkatrészek illesztésének, összeerősítésének, egymáshoz való elhelyezkedésének megadása, műveletrajzhoz kapcsolva: _____

2. feladat**Összesen: 8 pont**

A táblázat a huroköltésű varrat tulajdonságaival kapcsolatos állításokat és azok indoklását tartalmazza.

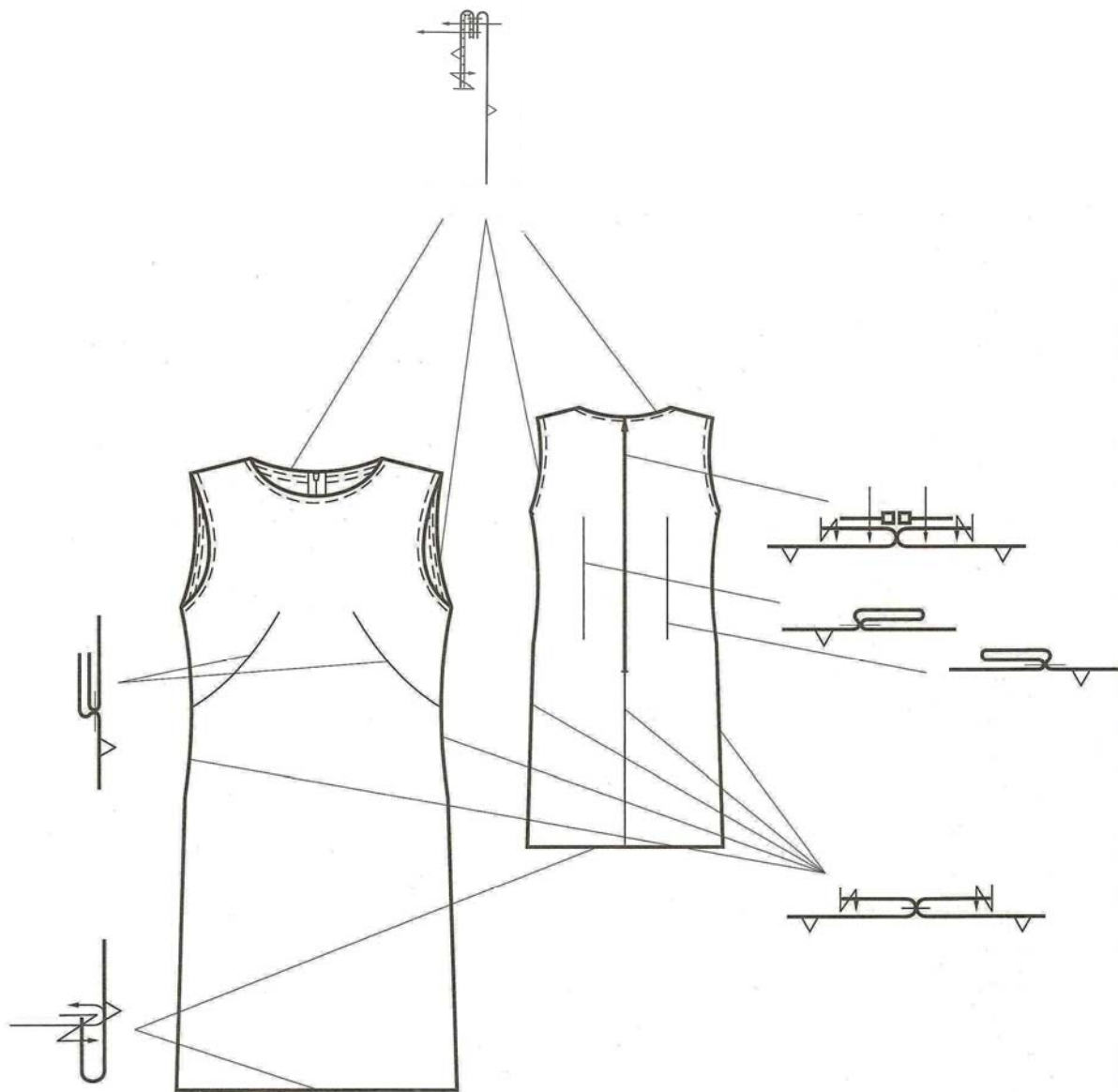
Állítás	Indoklás	Betűjelzés
A varrat kopásállósága jó,	mivel a hurokkapcsolat a kelmeréteg alatt keletkezik.	
A varrat kopásállósága jó,	mivel a hurokkapcsolat a kelmerétegek között keletkezik.	
A varrat kopásállósága gyenge,	mivel a hurokkapcsolat a kelmerétegek között keletkezik.	
A varrat kopásállósága gyenge,	mivel a hurokkapcsolat a kelmerétegek alatt keletkezik.	

Döntse el az állítások és indoklások igazságát, és jelölje a megfelelő betűvel!

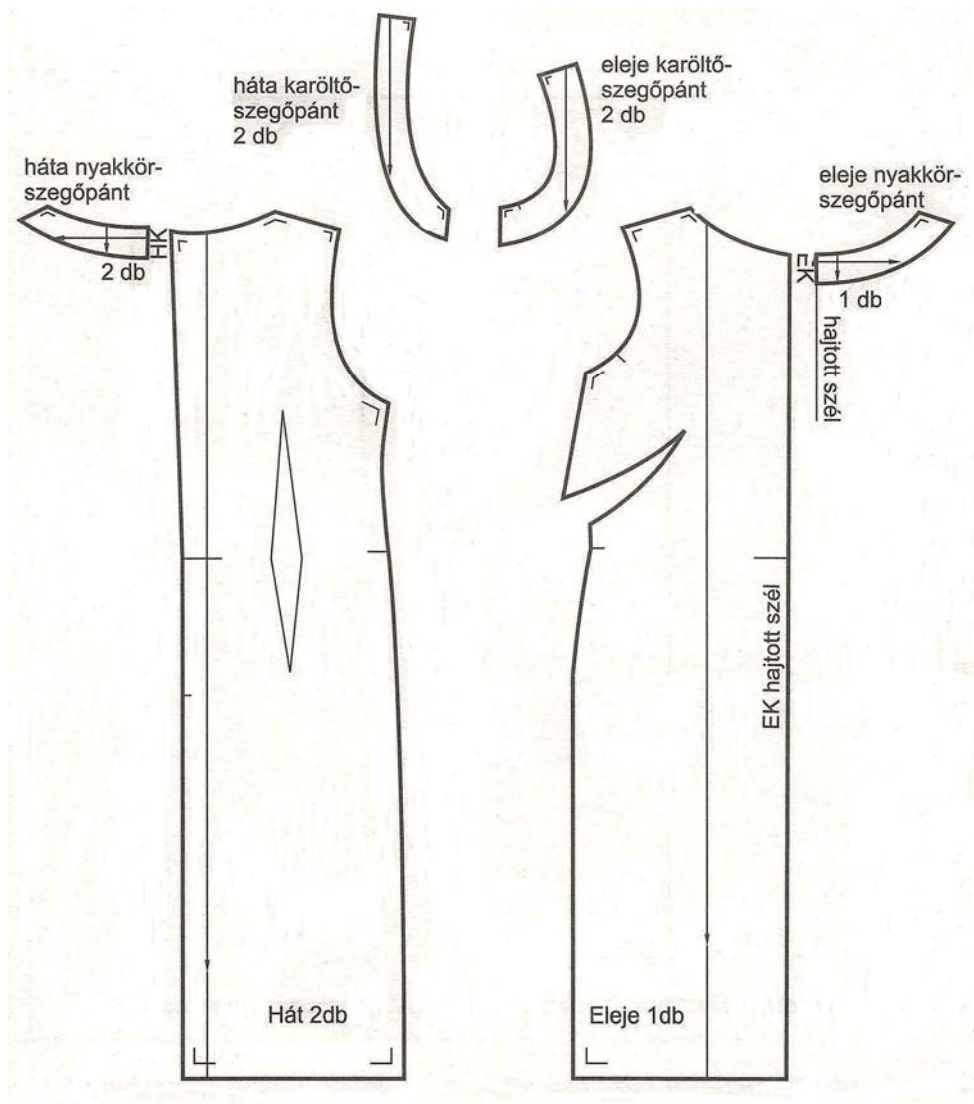
- A - Az állítás IGAZ, az indoklás is IGAZ.
- B - Az állítás IGAZ, az indoklás HAMIS.
- C - Az állítás HAMIS, az indoklás IGAZ.
- D - Az állítás HAMIS, és az indoklás is HAMIS.

3. feladat**Összesen: 11 pont**

Az 1-es és a 2-es ábrán női ruha műszaki rajzait adtuk meg.



1. ábra



2. ábra

a) Nevezze meg, milyen ábrázolási módokat alkalmaztunk az ábrákon! Válaszát írja a kijelölt helyre!

1. ábra: _____

2. ábra: _____

b) Készítse el az ábrázolt ruha külalakleírását!

c) Sorolja fel, milyen címkékre van szükség sorozatgyártás esetén a ruha készítésénél!

-
-
-

d) Nevezze meg – az ábrák figyelembevételével –, milyen varrógéppel végezhető el a ruha aljvonalának felvarrása!

4. feladat

Összesen: 2 pont


Tanulmányozza a 3. feladatban megadott 1. ábrát!

Nevezze meg azt a műveletet, amelyik rajzáról hiányzik a szegővarrat!

5. feladat

Összesen: 21 pont

Tanulmányozza az ábrán látható béleletlen, zsebes, csípőrészes szoknya gyártmányrajzát!



a) Készítse el a modell külalakleírását!

b) Töltse ki a táblázatot az alapanyagból készült alkatrészek megnevezésével és darabszámával!

Alkatrészek alapanyagból	db

c) Milyen kellékre van szükség a zseb vonalának megerősítéséhez?
