

Az Országos Képzési Jegyzékről és az Országos Képzési Jegyzékbe történő felvétel és törlés eljárási rendjéről szóló 133/2010. (IV. 22.) Korm. rendelet alapján.

Szakképesítés, szakképesítés-elágazás, rész-szakképesítés, szakképesítés-ráépülés azonosító száma és megnevezése, valamint a kapcsolódó szakképesítés megnevezése:

54 542 01 0010 54 02	Ruhsipari technikus	Könnyűipari technikus
----------------------	---------------------	-----------------------

Tájékoztató

A vizsgázó az első lapra írja fel a nevét!

Ha a vizsgafeladat kidolgozásához több lapot használ fel, a nevét valamennyi lapon fel kell tüntetnie, és a lapokat sorszámmal el kell látnia.

Értékelés

Összesen: 100 pont

100% = 100 pont

A VIZSGAFELADAT MEGOLDÁSÁRA JAVASOLT %-OS EREDMÉNY:

EBBEN A VIZSGARÉSZBEN A VIZSGAFELADAT ARÁNYA 50%.

1. feladat**Összesen: 14 pont**

Könnnyűipari technikusként feladata a varrások alaki és méretjellemezőiről axonometrikus ábrákat rajzolni.

Készítse el az alábbi jellemzők axonometrikus ábráit!

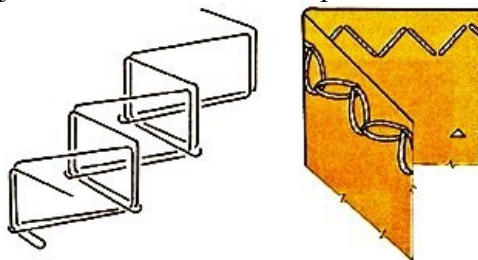
- a) Varrásszélesség egy- és többsoros varratok esetén

- b) Öltéshossz egyenes vonalú és cikcakkvarrat esetén

- c) Varrattávolság azonos és különböző öltéstípusú varratok esetén

2. feladat**Összesen: 4 pont**

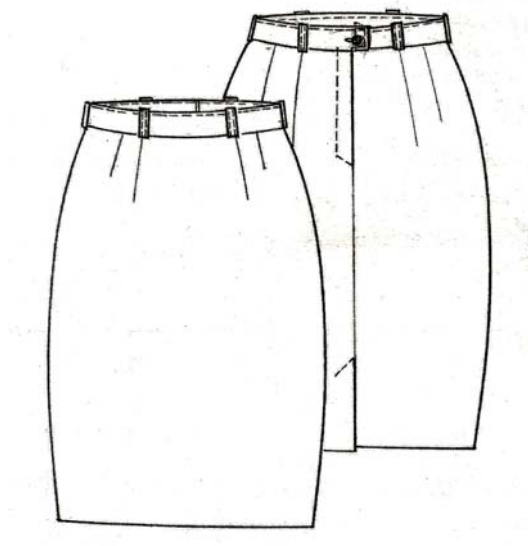
- a) Nevezze meg a rajzon látható varrat öltéstípusát!



- b) Tegyen egy javaslatot, milyen területen alkalmazzák!

3. feladat**Összesen: 28 pont**

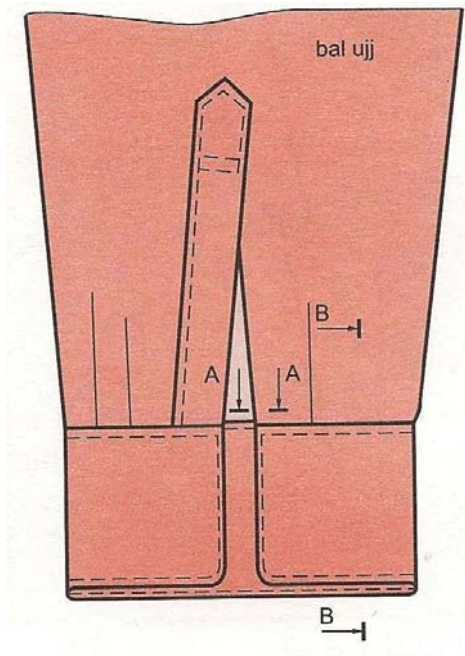
a) Készítse el a gyártmányrajzon látható bélelt szoknya külalakleírását!



b) Készítse el a húzózárvarrás műveleti rajzát síkmetszettel!

4. feladat**Összesen: 24 pont**

- a) Készítsen metszeti ábrát a hasítékról a jelölés szerint (A–A metszet) !
 b) Készítsen metszeti rajzot a szimpla kezelő felvarrásáról a jelölés szerint (B–B metszet)!
 (A kezelő felső lapja be van ragasztva.) Jelölje a műveleteket számozással!

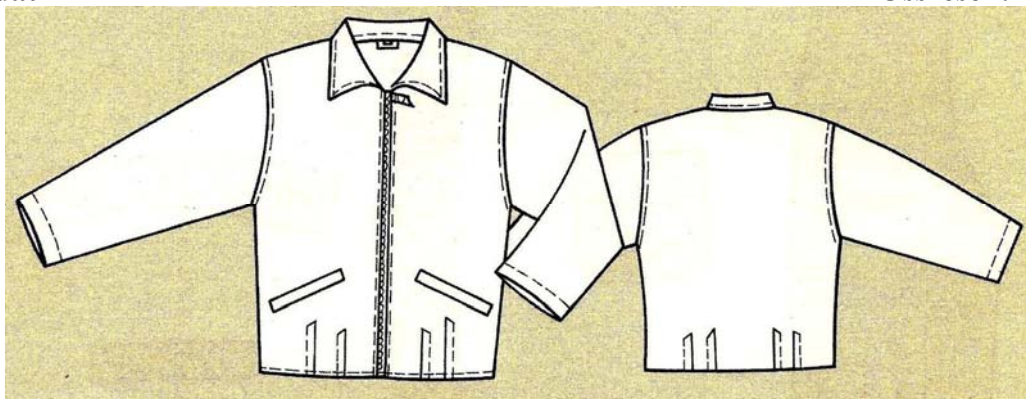


- c) Írja le a szimpla kezelő felvarrásának műveleteit technológiai sorrendben!

1. _____
2. _____
3. _____

5. feladat**Összesen: 5 pont**

Soroljon fel öt – férfioltonyokkal szemben támasztott – általános követelményt!

6. feladat**Összesen: 25 pont**

- a) Soroljon fel a gyártmányrajz szerinti félig bélelt férfidzseki készítéséhez szükséges kellékekből hármat!

- b) Írja le a zsebpántos zseb készítésének műveleteit!

- c) Jelölje be a zsebkészítés műveleteit a leírás szerint!

