

Az Országos Képzési Jegyzékről és az Országos Képzési Jegyzékbe történő felvétel és törlés eljárási rendjéről szóló 133/2010. (IV. 22.) Korm. rendelet alapján.

Szakképesítés, szakképesítés-elágazás, rész-szakképesítés, szakképesítés-ráépülés azonosító száma és megnevezése, valamint a kapcsolódó szakképesítés megnevezése:

31 840 01 0000 00 00	Úszómunkagép-kezelő	Úszómunkagép-kezelő
54 841 01 0000 00 00	Hajózási technikus	Hajózási technikus
54 841 01 0100 31 01	Fedélzetmester belvízi hajón	Hajózási technikus
54 841 01 0100 21 01	Matróz belvízi hajón	Hajózási technikus
54 841 01 0100 31 02	Matróz-gépkezelő belvízi hajón	Hajózási technikus

Tájékoztató

A vizsgázó az első lapra írja fel a nevét!

Ha a vizsgafeladat kidolgozásához több lapot használ fel, a nevét valamennyi lapon fel kell tüntetnie, és a lapokat sorszámmal el kell látnia.

Értékelés

Összesen: 32 pont

100% = 32 pont

A VIZSGAFELADAT MEGOLDÁSÁRA JAVASOLT %-OS EREDMÉNY:

EBBEN A VIZSGARÉSZBEN A VIZSGAFELADAT ARÁNYA 20%.

1 pontot érő kérdések:**1. A Hajózási Szabályzat mit nevez biztonságos sebességnek?**

- a) Olyan sebesség, amelynél a hajó/kötélék biztonságosan művelemezhet.
- b) Olyan sebesség, amelynél a hajó azonnal meg tud állni.
- c) Olyan sebesség, amelynél a hajó vagy a kötélek biztonságosan közlekedhet, művelemezhet, továbbá az adott körülmények és viszonyok között szükséges távolságon belül megállhat.

2. Hogyan kell elhelyezni a rakományt?

- a) A rakomány elhelyezése nem veszélyeztetheti a hajó stabilitását, és nem zavarhatja a kilátást a kormányállásból.
- b) A rakomány nem zavarhatja a hajó vezetéséhez szükséges körkilátást.
- c) A rakományt a kormányállás előtt nem szabad halmazolni.

3. Ki kezelheti a hajón a kormányt?

- a) A géphajó kormányosa.
- b) Legalább 16 éves kort betöltött képesített személy.
- c) A hajó vezetője.

4. Milyen hajót kell ellátni a legnagyobb merülés síkját feltüntető jelekkel?

- a) Minden hajót, a kishajók kivételével.
- b) Minden hajót.
- c) Minden hajót, a komp kivételével.

5. Melyik hajót kell köbözni?

- a) Minden hajót, a kishajók kivételével.
- b) A személyzet nélküli járműveket.
- c) Minden áruszállításra szolgáló belvízi hajót, a kishajók kivételével.

6. Vontatott vagy mellévett alakzatban továbbított kishajónak éjszaka milyen jelzést kell viselni?

- a) Más hajó közeledésekor egy fehér fényt kell felmutatni.
- b) Egy minden oldalról látható, szokásos fehér fényt kell viselnie.
- c) Nem kell jelzést viselnie.

7. Műveletképtelen hajóról nappal milyen kiegészítő jelzés adható?

- a) Az előírt jelzéseken kívül egy lengetett vörös zászlót kell mutatni.
- b) Fedélzeti rádiótelefonon kell segítséget kérni.
- c) Két villogó sárga fényt kell mutatni a hajó elején.

8. A „rövid hang” milyen időtartamú?

- a) Kb. 1 másodperc.
- b) Kb. 2 másodperc.
- c) Kb. 3 másodperc.

9. A HSZ nemzeti része hogyan definiálja a kishajót?

- a) A beépített motorral rendelkező kishajó.
- b) Saját meghajtással rendelkező, 20 m testhosszúságot el nem érő kishajó.
- c) Az a hajó, amelynek hajótesten mért hossza a 20 métert nem éri el, motorteljesítménye a 4 kW-ot eléri, illetve meghaladja.

10. Milyen jelzéssel jelzik éjszaka az alacsonyvezetésű köteles komp kötelének leeresztett állapotát?

- a) Egy minden oldalról látható szokásos fehér fényt kell kihelyezni.
- b) Hajó közeledtekor egy szokásos fehér fényt kell felmutatni.
- c) Szokásos zöld fényű lámpa kihelyezésével kell jelezni.

11. Milyen jelzőfényt kell viselnie éjszaka a veszteglő úszóanyagok kötelékének és az úszóműnek?

- a) A hajóút felőli oldalon 3 m magasan elhelyezett, minden oldalról látható szokásos fehér fényt.
- b) A hajóút felőli oldalon 4 m magasan elhelyezett, minden oldalról látható szokásos fehér fényt.
- c) Körvonalának a hajóút felőli felismeréséhez elegendő számú, minden oldalról látható szokásos fehér fényt.

12. Milyen jelzést visel éjszaka a 12 főnél több utas szállítására engedélyezett olyan hajó, amely méreteinél fogva kishajó?

- a) Két sárga fényt.
- b) Nincs kiegészítő jelzés.
- c) Egy sárga fényt.

13. Veszélyes árut szállító hajó nappal milyen kiegészítő jelzést visel?

- a) Az ADN szabályzatban előírt számú, csúcsával lefelé fordított kék kúpot köteles viselni.
- b) Egy csúcsával lefelé fordított kék kúpot.
- c) Az ADN szabályzatban előírt számú, csúcsával felfelé álló kék kúpot köteles viselni.

14. Segítségét kérő, veszélyben levő hajó milyen jelzéseket alkalmazhat?

- a) Egy vörös lobogót kell felhúzni a jelzőárbocra.
- b) Villogó sárga fényt.
- c) Kátrány, olaj stb. égetésével keletkező lángot.

15. Mit tekint a HSZ találkozásnak?

- a) Amikor két hajó ellentétes irányban halad.
- b) Amikor két hajó egymáshoz viszonyított ellentétes vagy közel ellentétes irányban halad.
- c) Amikor két hajó nem keresztezi egymás útvonalát.

16. Csónakkal (kivéve a hajó csónakját), valamint kishajóval (kivéve a hajó kishajóját) és vízi sporteszközzel a menetben levő

- a) hajót integetéssel figyelmeztetni kell.
 b) hajó útjából ki kell térni.
 c) nagyhajó útvonalát 500 m-en belül keresztezni tilos.

17. A csónak vezetését a szabályzat egyéb rendelkezéseinek megtartásával hol szabad oktatni?

- a) Partközelen, hajóúton kívül, kikötőben az üzemeltető által kijelölt részen.
 b) Nincs korlátozás.
 c) Csak állóvízben.


18. Mikor kell a géphajón és úszómunkagépen ügyeleti szolgálatot tartani?

- a) Ha a géphajó és az úszómunkagép hajóúton kívül vesztegel.
 b) A géphajón és az úszómunkagépen őrszolgálatot kell tartani.
 c) Ha a szolgálatot partról lehet ellátni.

19. Mekkora a kishajó és a csónak legkisebb biztonsági távolsága a Balatonon?

- a) 0,25 m.
 b) 0,30 m.
 c) 0,35 m.

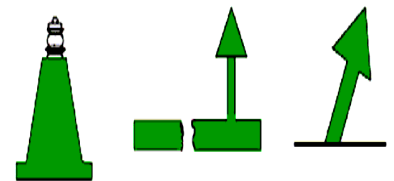
20. A Hajózási Szabályzat melyik jelzése figyelmeztet a szabadon közlekedő kompra?

a) b) c) 

bója úszó karó

21. Mi a jelentése a mellékelt jelzésnek?

- a) A hajóút jobb szélét jelző és azt, valamint a vízi út jobb part felé eső veszélyes helyeit elhatároló karó.
 b) A hajóútban található pontszerű akadályt jelző karó.
 c) A hajóút bal szélét jelző és azt, valamint a vízi út jobb part felé eső veszélyes helyeit elhatároló karó.



22. Melyik jelzéssel közlik a géphajók közlekedésének tilalmát?

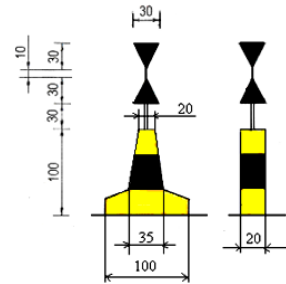
a)  b)  c) 

23. Melyik tavi úszó jel látható az ábrán?

a) Északi kardinális jel.

b) Nyugati kardinális jel.

c) A hajóút tengelyét jelző jel.



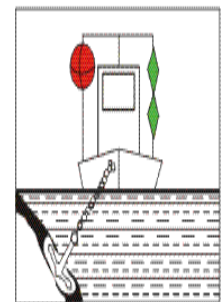
3 pontot érő kérdések:

24. Mi a jelentése a mellékelt ábrán látható jelzésnek?

a) Munkát végző úszómunkagépek és szondázási vagy mérési műveleteket végző veszteglő hajók. Amelyik oldalon a hajóút szabad, két zöld fényt vagy két zöld kettőskúpot mutat.

b) Fennakadt, hullámozás elleni védelemre szoruló hajó.

c) Hullámozás elleni védelemre szoruló munkát végző hajó, úszómunkagép és fennakadt vagy elsüllyedt hajó. Amelyik oldalon a hajóút szabad, két zöld fényt vagy két zöld kettőskúpot mutat.



25. Milyen jelzőfényt láthatunk (jobbról balra) ezen a géphajón az ábrázolt helyzetben éjszaka?

a) Egy fehér, egy vörös és egy fehér.

b) Egy fehér és egy zöld fényt.

c) Egy fehér és egy vörös fényt.



26. Milyen jelzőfényt láthatunk a képen látható tolt köteléken éjszaka (jobbról balra)?

a) Egy zöld és egy fehér fényt.

b) Egy vörös és egy fehér fényt.

c) Egymástól azonos távolságban levő három fehér fényt.

