

A 10/2007 (II. 27.) SzMM rendelettel módosított 1/2006 (II. 17.) OM rendelet Országos Képzési Jegyzékről és az Országos Képzési Jegyzékbe történő felvétel és törlés eljárási rendjéről alapján.

Szakképesítés, szakképesítés-elágazás, rész-szakképesítés, szakképesítés-ráépülés azonosító száma és megnevezése, valamint a kapcsolódó szakképesítés megnevezése:

31 840 01 0000 00 00	Úszómunkagép-kezelő	Úszómunkagép-kezelő
54 841 01 0000 00 00	Hajózási technikus	Hajózási technikus
54 841 01 0100 31 01	Fedélzetmester belvízi hajón	Hajózási technikus
54 841 01 0100 21 01	Matróz belvízi hajón	Hajózási technikus
54 841 01 0100 31 02	Matróz-gépkezelő belvízi hajón	Hajózási technikus

Tájékoztató

A vizsgázó az első lapra írja fel a nevét!

Ha a vizsgafeladat kidolgozásához több lapot használ fel, a nevét valamennyi lapon fel kell tüntetnie, és a lapokat sorszámokkal el kell látnia.

Értékelés

Összesen: 32 pont

100% = 32 pont

A VIZSGAFELADAT MEGOLDÁSÁRA JAVASOLT %-OS EREDMÉNY:

EBBEN A VIZSGARÉSZBEN A VIZSGAFELADAT ARÁNYA 20%.

1 pontot érő kérdések

1. A hajó és az úszómunkagép vezetőjének mikor kell a hajón/úszómunkagépen tartózkodnia?

- a) Folyamatosan.
- b) Menetben.
- c) A hajó vezetőjének a hajózás ideje alatt, az úszómunkagép vezetőjének a munkavégzés ideje alatt.

2. A Hajózási Szabályzat hogyan definiálja a bódult állapotot?

- a) Látható fáradtság a személyzet tagján.
- b) Alkohol, kábítószer, illetve gyógyszer vagy más hasonló anyag fogyasztásának következtében kialakult állapot.
- c) A hajószemélyzet tagja zavart magatartású személy.

3. A HSZ milyen feltételhez köti a csónak vezetését?

- a) A csónak vezetéséhez nem kell képesítés, bárki vezetheti.
- b) Aki 14. – gépi hajtás esetén 17. – életévét betöltötte, úszni tud, a vezetésben kellő gyakorlattal rendelkezik, ismeri a HSZ rendelkezéseit és az igénybe vett vízterület szabályait.
- c) Úszni tudás és mentőmellény viselése esetén bárki.

4. A kötelező gondosság az alábbiak közül melyik veszélyhelyzet megelőzésére figyelmeztet?

- a) A környezet szennyezésének elkerülése.
- b) A közúti forgalom elvakítása.
- c) Gázló kialakulása.

5. A Hajózási Szabályzat milyen esetekben kötelezi a hajó vezetőjét segítségnyújtásra?

- a) Ha emberélet van veszélyben.
- b) Emberéletet veszélyeztető vagy a hajóút elzárásának veszélyével fenyegető balesetet szenvedett hajó esetén.
- c) A hajóút elzárása esetén.

6. A Hajózási Szabályzat területi hatálya (alkalmazási köre) az alábbi:

- a) a Duna hajózható szakasza.
- b) belföldön, valamint a Duna teljes szakaszán, a Duna és a Tisza mellékfolyóinak külföldi szakaszain.
- c) belföldön.

7. Műveletképtelen hajóról éjszaka milyen jelzés adható?

- a) Az előírt fényeken kívül egy lengetett vörös fény, amely kishajón fehér is lehet.
- b) Fedélzeti rádiótelefonon kell segítséget kérni.
- c) Egy villogó sárga fényt kell mutatni a hajó elején.

8. A „hosszú hang” milyen időtartamú?

- a) Kb. 2 másodperc.
- b) Kb. 3 másodperc.
- c) Kb. 4 másodperc.

9. A kishajót milyen azonosító jellel kell ellátni?

- a) A kishajónak a nevét kell viselnie.
- b) A kishajónak a számát kell viselnie.
- c) Név vagy szám, illetve betűjel és a hajó tulajdonosának neve és lakhelye.

10. Milyen jelzést kell viselnie éjszaka annak a magányosan haladó kishajónak, amely nem tekinthető kiséghajónak vagy vitorlás kishajónak?

- a) Egy minden oldalról látható szokásos fehér fényt.
- b) Más hajó közeledtekor egy szokásos fehér fényt kell felmutatni.
- c) Az ilyen kishajó éjszaka nem közlekedhet.

11. Milyen jelzőfényt kell viselnie éjszaka a veszteglő magányos hajónak?

- a) A hajóút felőli oldalon legalább 3 m magasan elhelyezett, minden oldalról látható szokásos fehér fényt.
- b) A hajóút felőli oldalon legalább 4 m magasan elhelyezett, minden oldalról látható szokásos fehér fényt.
- c) A hajóút felőli oldalon legalább 5 m magasan elhelyezett, minden oldalról látható szokásos fehér fényt.

12. Milyen jelzést visel nappal a 12 főnél nagyobb engedélyezett utaslétszámú és 20 m-nél kisebb testhosszúságú hajó?

- a) Egy minden oldalról látható sárga kettőskúpot.
- b) Egy minden oldalról látható fekete kettőskúpot.
- c) Egy zöld gömböt.

13. Veszélyes árut szállító hajó milyen kiegészítő jelzést visel éjszaka?

- a) Egy kék fényt.
- b) Az ADN szabályzatban előírt számú kék fényt kötelel viselni.
- c) Egy vörös fényt.

14. Segítségét kérő, veszélyben levő hajó milyen jelzéseket alkalmazhat?

- a) Egy vörös lobogót kell felhúzni a jelzőárbocra.
- b) Villogó sárga fényt.
- c) Kinyújtott karok felülről mindkét oldalról lefelé történő lassú mozgását.

15. Mit tekint a Hajózási Szabályzat előzésnek?

- a) Amikor két hajó azonos irányban halad.
- b) Amikor a hajó (előző hajó) más hajót (előzendő hajót) hátulról, annak hajóközép síkjához viszonyított $22^{\circ} 30'$ értéket meghaladó szögben megközelít és megelőz.
- c) A Hajózási Szabályzat nem szabályozza az előzést.

16. A HSZ hogyan szabályozza, ha azonos hajtású kishajók, csónakok és vízi sporteszközök egymás útvonalát keresztezik?

- a) A jobbról érkezőnek van elsőbbsége.
 b) A balról érkezőnek van elsőbbsége.
 c) Az elsőbbséget szóban kötelesek egyeztetni.

17. A csónakban mely személynek/személyeknek kell mentőmellényt viselni?

- a) A csónakban tartózkodó minden személy köteles mentőmellényt viselni.
 b) A kiskorú személy köteles mentőmellényt viselni.
 c) A vízben levő (közlekedő vagy veszteglő) csónakban tartózkodó úszni nem tudó és kiskorú személy köteles mentőmellényt viselni.




18. Mi a feladata az őrszolgálatot ellátó személynek?

- a) A szolgálatot ébren és olyan helyen kell ellátni, ahonnan az úszólétesítmény megfigyelhető, és veszély esetén értesítenie kell az úszólétesítmény vezetőjét.
 b) A szolgálatot a kormányállásban kell ellátnia.
 c) A szolgálat partról is ellátható, ha működőképes telefontal rendelkezik.

19. A HSZ megengedi-e a vízi sporteszközök közlekedését éjszaka és korlátozott látási viszonyok között?

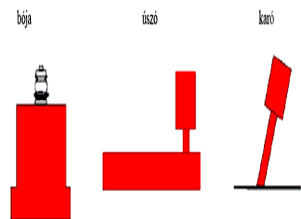
- a) Vízi sporteszközzel éjszaka, továbbá korlátozott látási viszonyok között tilos közlekedni.
 b) Igen, ha viseli az előírt fényeket.
 c) Igen, ha kísérő kisgéphajó biztosítja.

20. A Hajózási Szabályzat melyik jelzése figyelmeztet nem szabadon közlekedő kompra?

- a)  b)  c) 

21. Mi a jelentése a mellékelt jelnek?

- a) A hajóút ideiglenesen el van zárva.
 b) A hajóútban található, jobb oldali akadályt jelez.
 c) A hajóút jobb szélének jelzésére, továbbá irányának jelölésére szolgál, elhatárolja a hajóút jobb oldalát és a vízi út jobb part felé eső veszélyes helyeit.

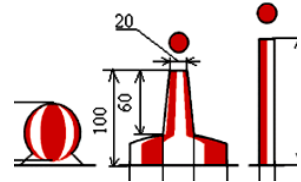


22. Melyik jelzéssel közlik a géphajónak és vitorlás hajónak nem minősülő hajók közlekedésének tilalmát?

a)		b)		c)	
----	---	----	---	----	---

23. Melyik tavi úszójel látható az ábrán?

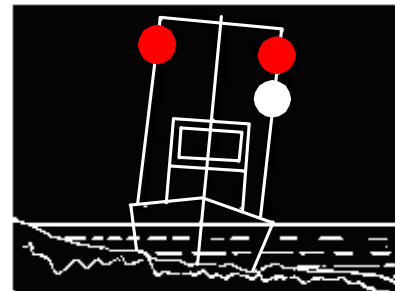
- a) Déli kardinális jel.
- b) Külön álló veszélyes helyeket jelző jel.
- c) A hajóút tengelyvonalának, a hajóút középvonalának és a kikötőhelyek jelölésére használt jel.



3 pontot érő kérdések:

24. Mi a jelentése a mellékelt ábrán látható jelzésnek?

- a) Hajóútban munkát végző hajó. Jobbról szabad az elhajózás.
- b) Fennakadt hajó, hullámmász elleni védelemre szorul, és segítséget kér.
- c) Hullámmász elleni védelemre szoruló, munkát végző hajó, úszómunkagép és fennakadt vagy elsüllyedt hajó. A fehér fény felett vörös fényt viselő oldalon a hajóút szabad.



25. Milyen jelzőfényt láthatunk (balról jobbra) ezen a tolt kötéleken az ábrázolt helyzetben éjszaka?

- a) Egy fehér, egy vörös és vízszintesen három fehér fényt.
- b) A hossz tengelyre merőleges vízszintes vonalon egymás mellett három fehér fényt.
- c) Három fehér fényt egyenlő oldalú háromszög alakban.



26. Milyen jelzőfényt láthatunk az iskolahajón (jobbról balra) az ábrázolt helyzetben éjszaka?

- a) Egy fehér fényt.
- b) Egy fehér és egy zöld fényt.
- c) Egy fehér, egy zöld és egy fehér fényt.

