

**KÉPZŐ- ÉS IPARMŰVÉSZETI ISMERETEK
KÖZÉPSZINTŰ ÍRÁSBELI VIZSGA**

MINTAFELADATOK


I. FELADATLAP

Művészettörténet, tesztjellegű rövid feladatok

1. Jelölje meg azt a szobrot, amelyre valamennyi alább felsorolt jellemző érvényes!

Karikázza be a kiválasztott mű betűjelét!

- bronz
- bibliai hős
- reneszánsz
- kontraszt



1.	1 pont
----	--------

2. Határozza meg, melyik művészettörténeti korstílus építészetére jellemzők összességében leginkább az alább felsorolt megoldások! Írja a pontozott vonalra!




- csúcsívek,
- támpillér-támív rendszer,
- fiatornyok,
- mérmű,
- ólomüveg ablakok,
- csillagboltozat

.....

2.	1 pont
-----------	---------------

3. Az alább felsorolt témák (címek) közül válassza ki az adott képekhez rendelhető bibliai jeleneteket, és írja be a kép alatti mezőkbe!

Utolsó vacsora / Éva teremtése / Vizitáció / Angyali üdvözlés / Utolsó ítélet / Pieta

		
.....

3.	3 pont
-----------	---------------

-
- 4. Határozza meg, és írja a pontozott vonalra, hogy melyik grafikai eljárás leírását olvashatja az alábbiakban!**

Magasnyomású sokszorosító grafikai technika, amely Európában 1400 körül terjedt el, de Kelet-Ázsiában már évszázadokkal korábban is ismerték. Az eljárás során késsel alakítják ki a rajzot a nyomódúcon, majd festékkel bekenik és kézi sajtón nyomtatva készítenek levonatot, amelyen a kiemelkedő dúcreszek hagyják a fekete vonalakat vagy foltokat.

.....

4.	1 pont
-----------	---------------


- 5. Nevezzen meg két festőművészt, akiknek a munkásságát a realizmushoz sorolhatjuk!**

A)

B)

5.	2 pont
-----------	---------------

6. Az alábbiak közül melyik kép ábrázol szecessziós stílusú épületbelsőt? Karikázza be a megfelelő reprodukció betűjelét!



<p>6.</p>	<p>1 pont</p>
-----------	---------------





7. Ki festette az alábbi híres alkotásokat? Válaszát írja a pontozott vonalra!

- Csillagos éjszaka
- Váza napraforgókkal
- Krumplievők
- Éjszakai kávéház
- Tanguy apó

.....

<p>7.</p>	<p>1 pont</p>
-----------	---------------

8. A stílusjegyeik alapján párosítsa a képeket a következő táblázatban lévő művészettörténeti szakaszokkal, és írja a megfelelő betűjeleket az üres cellákba!
(Ügyeljen arra, hogy a táblázatban felsorolt művészettörténeti szakaszok egyikéhez nem tartozik kép, vagyis ott az üresen hagyott cella a jó válasz!)

			
A	B	C	D

hellenizmus	
geometrikus kor	
klasszikus kor	
mükénéi kor	
archaikus kor	

8.	2 pont
-----------	---------------